

河北农信社笔试

必做500题解析

HEBEI HUA TU EDUCATION



河北华图优选课程 三好之心伴您上岸

跟踪学习进度
决不放松

优选本土师资
擅考擅教

本土教研
懂考情懂考试

严管督学
问题及时答疑



公务员

事业单位

教师考试

医疗考试

银行考试

军队文职

公遴选

研究生考试

学历提升

资格证考试




扫码咨询课程详情



河北华图公众号



河北华图抖音



河北华图小红书



河北华图微博



金融习题

单项选择题

1. 由各类金融机构之间短期资金拆借所形成的市场是（ ）。

- A. 货币市场
- B. 票据市场
- C. 国库券市场
- D. 同业拆借市场

【答案】D。同业拆借市场是指金融机构之间进行临时性资金头寸调剂的市场，故 D 项正确；交易期限在一年以内的为货币市场，故 A 项错误；票据市场是票据通过流通转让进行交易的场所，故 B 项错误；国库券是为解决国库资金周转困难而发行的短期债务凭证，故 C 项错误。故本题正确答案选 D。

2. 下列不属于按合约特点划分的衍生工具是（ ）。

- A. 远期合约
- B. 期货合约
- C. 独立式衍生工具
- D. 结构化金融衍生工具

【答案】C。金融衍生工具根据产品形态，可分为独立衍生工具和嵌入式衍生工具，故 C 项符合题干要求；金融衍生工具按照合约特点分类包括：（1）远期合约；（2）期货合约；（3）期权合约；（4）互换合约；（5）结构化金融衍生工具。故 ABD 均属于按合约特点划分的衍生工具。题目选非，故本题正确答案选 C。

3. 当处于通货膨胀和国际收支逆差的经济状况时，应采用下列（ ）政策搭配。

- A. 紧缩国内支出，本币升值
- B. 扩张国内支出，本币贬值
- C. 扩张国内支出，本币升值
- D. 紧缩国内支出，本币贬值

【答案】D。当出现通货膨胀和国际收支逆差时，应采用紧缩的政策配合本币贬值的政策来调整经济，故应该紧缩国内支出，本币贬值。故本题正确答案选 D。

4. 关于弗里德曼的货币需求函数，下列说法正确的是（ ）。

- A.恒久收入越高，所需货币越多
- B.恒久收入越高，所需货币越少
- C.人力财富比例越高，所需准备的货币就越少
- D.弗里德曼的货币需求函数是建立在未来的不确定性和收入是短期资产这两个假定之上的

【答案】A。经济学家弗里德曼认为恒久性收入越高，所需的货币数量越多，A项，当选；B项，不当选。C项，人力财富比例越高，所需准备的货币就越多，不当选；D项，凯恩斯的货币需求函数是建立在未来的不确定性和收入是短期资产这两个假定之上的，不当选。故本题正确答案选A。

5. 金融场所具有的主要宏观功能有（ ）。

- A.价格发现
- B.减少搜寻和信息成本
- C.提供流动性
- D.实现储蓄—投资转化

【答案】D。金融市场的功能分为微观层面和宏观层面。在微观层面上，主要功能有价格发现、提供流动性、减少搜寻成本与信息成本；而在宏观层面上，主要功能有实现储蓄—投资转化、资源配置、宏观调控。故本题正确答案选D。

6. 下列关于再贴现的说法，不正确的是（ ）。

- A.是中央银行传统的三大货币政策工具之一
- B.再贴现政策包括调整再贴现率和规定再贴现票据的种类
- C.再贴现就是转贴现
- D.我国于1986年正式开展对商业银行贴现票据的再贴现

【答案】C。再贴现政策是中央银行传统的三大货币政策工具之一，故A正确；再贴现是指金融机构为了取得资金，将未到期的已贴现商业汇票再以贴现方式向中央银行转让的票据行为，包括调整再贴现率和规定再贴现票据，故B正确；我国于1986年正式开展对商业银行贴现票据的再贴现，故D正确；转贴现是指商业银行在资金临时不足时，将已经贴现但仍未到期的票据，交给其他商业银行或贴现机构给予贴现，以取得资金融通，故C错误。故本题正确答案选C。

7. 在不兑现的信用货币制度下，货币发行权主要集中于（ ）。

- A.中央银行
- B.贸易部门
- C.财政部门
- D.投资银行

【答案】A。在不兑现的信用货币制度下，是以中央银行发行的纸币作为流通货币，所以货币发行权主要集中于中央银行。故 A 项正确；BCD 错误。故本题正确答案选 A。

8. 银行是经营货币信用业务的特殊企业，在社会再生产过程中发挥着特殊的作用，它最基本的职能是（ ）。

- A.信用创造
- B.信用中介
- C.金融服务
- D.支付中介

【答案】B。信用中介职能是指商业银行通过负债业务，将社会上的各种闲散资金集中起来，又通过资产业务，将所集中的资金运用到国民经济各部门中去。信用中介是商业银行最基本、也是最能反映其经营活动特征的职能，故 B 项正确；信用创造、金融服务、支付中介都属于商业银行的职能，但都不是最基本的职能，故 ACD 错误。故本题正确答案选 B。

9. 银行接受客户的委托，为工商企业办理与货币资本运动有关的技术性业务，这是银行的（ ）职能。

- A.支付中介
- B.信用创造
- C.金融服务
- D.信用中介

【答案】A。银行接受客户的委托，为工商企业办理与货币资本运动有关的技术性业务，这是银行的支付中介职能，故 A 项正确；信用创造是指商业银行利用其吸收活期存款的有利条件，通过发放贷款、从事投资业务而衍生出更多的存款，从而扩大货币供应量，是在信用中介和支付中介职能的基础上产生的，故 B 项错误；金融服务职能是指商业银行利用在国民经济中联系面广、信息灵通的特殊地位和优势，借助于电子计算机等先进手段和工具，为客户提供信息咨询、融资代理、信托租赁、代收代付等各种金融服务，故 C 项错误；信

用中介职能是指商业银行通过负债业务，将社会上的各种闲散资金集中起来，又通过资产业务，将所集中的资金运用到国民经济各部门中去，故 D 项错误。故本题正确答案选 A。

10. 以下不属于个人存款的是（ ）。

- A. 定活两便存款
- B. 教育储蓄存款
- C. 协定存款
- D. 保证金存款

【答案】C。个人存款的种类有：①活期存款；②定期存款，包括整存整取、零存整取、整存零取和存本取息；③定活两便存款；④个人通知存款；⑤教育储蓄存款；⑥保证金存款。故 ABD 均属于个人存款；选项 C 协定存款属于单位存款，故 C 项不属于个人存款。故本题正确答案选 C。

11. （ ）是货币市场最重要的基准利率之一。

- A. 同业拆借利率
- B. 零息债券的贴现率
- C. 债券回购利率
- D. 付息债券的票面利率

【答案】A。同业拆借具有期限短、金额大、风险低、手续简便等特点，从而能够反映金融市场上的资金供求状况。因此，同业拆借市场上的利率是货币市场最重要的基准利率之一。故 A 项正确；BCD 错误。故本题正确答案选 A。

12. 政府为弥补财政赤字向公众发行 30 亿元国库券，这种信用形式为（ ）。

- A. 银行信用
- B. 商业信用
- C. 国家信用
- D. 消费信用

【答案】C。国家信用其形式主要是发行国库券或者公债，故 C 项正确；银行信用指各种金融机构，特别是银行，以存、放款等多种业务形式提供的货币形态的信用，故 A 项错误；商业信用是指工商企业之间相互提供的、与商品交易直接相联系的信用形式，故 B 项错误；消费信用指为消费者提供的、用于满足其消费需求的一种信用形式，故 D 项错误。故本题正确答案选 C。

13. 马克思认为正常情况下，利率水平上限是（ ）。

- A.历史利率水平
- B.平均利润率
- C.利率最高限额
- D.流动性比率

【答案】B。马克思利率决定论认为利率的变化范围是在零与平均利润率之间，因此利率水平上限是平均利润率，故 B 项正确，ACD 错误。故本题正确答案选 B。

14. （ ）是指经营外币和以外币计价的票据等有价值证券买卖的市场。

- A.外汇市场
- B.外汇公司
- C.国际金融市场
- D.掉期市场

【答案】A。外汇市场是进行外汇买卖的场所或运营网络，故 A 项正确；外汇公司，一般由外汇交易商提供，是指买卖外国汇票的交易公司或个人，故 B 项错误；国际金融市场是指由国际性的资金借贷、结算、汇兑以及有价证券、黄金和外汇的买卖活动所组成的市场，故 C 项错误；掉期交易是指交易双方约定在未来某一时期相互交换某种资产的交易形式，故 D 项错误。故本题正确答案选 A。

15. （ ）是货币借贷和金融工具交易的总称。

- A.劳动市场
- B.技术市场
- C.商品市场
- D.金融市场

【答案】D。金融市场是指买卖金融工具以融通资金的场所和机制，是货币借贷和金融工具交易的总称，故 D 项正确；劳务市场亦称“劳动力市场”，是劳动力买卖或流通的领域，故 A 项错误；技术市场是技术商品的营销场所和领域，故 B 项错误；商品市场是实物商品的营销场所和领域，故 C 项错误。故本题正确答案选 D。

16. 甲向乙借 10 万元钱，双方约定年利率为 5%，按复利方式计息，2 年后归还，届时甲应向乙支付利息（ ）元。

- A.10000

B.10250

C.10500

D.10750

【答案】B。复利条件下，本金与利息之和= $P * (1+5\%)^2 = 100000 * (1+5\%)^2 = 110250$ 元，扣除本金 100000 元后，甲应向乙支付利息 10250 元。故 B 项正确；ACD 错误。故本题正确答案选 B。

17. 定期存款在存期内，若遇到利率调整，则该存款利息（ ）。

A.按照到期日挂牌公告的利率计算

B.按照存单开户日挂牌公告的利率计算

C.按照调整日挂牌公告的利率计算

D.采取分段计息的办法按照实际天数分别以存单开户日挂牌公告的利率和调整日挂牌公告的利率计算

【答案】B。定期存款是个人事先约定偿还期的存款，其利率视期限长短而定。定期存款存期内遇有利率调整，仍按存单开户日挂牌公告的相应定期存款利率计息。故 B 项正确；ACD 错误。故本题正确答案选 B。

18. （ ）是商业银行最主要的资金来源，是银行持续经营的基础。

A.债券

B.贷款

C.存款

D.借款

【答案】C。存款是银行最基本的负债业务之一，是商业银行最主要的资金来源，是银行持续经营的基础。故 C 项正确；ABD 错误。故本题正确答案选 C。

19. 下列对贷款业务的分类，正确的是（ ）。

A.商业贷款和个人贷款

B.短期贷款和银团贷款

C.集团贷款和个人贷款

D.短期贷款和中长期贷款

【答案】D。贷款的业务分类，具体包括：①按照客户类型，可划分为个人贷款和公司贷款；②按照贷款期限，可划分为短期贷款和中长期贷款；③按有无担保，可划分为信用贷款和担保贷款。故 D 项正确；ABC 错误。故本题正确答案选 D。

20. 下列不属于我国商业银行现金资产的是（ ）。

- A. 存放同业及其他金融机构款项
- B. 同业借款
- C. 存放中央银行款项
- D. 库存现金

【答案】B。我国商业银行的现金资产主要包括三项：一是库存现金，二是存放中央银行款项，三是存放同业及其他金融机构款项。故 ACD 均属于我国商业银行现金资产；B 项不属于我国商业银行现金资产。故本题正确答案选 B。

21. 下列关于汇票的表述，正确的是（ ）。

- A. 商业汇票分为银行汇票和银行承兑汇票
- B. 银行汇票是由出票银行签发的
- C. 汇票是出票人签发，委托付款人在见票时或在指定日期有条件支付的票据
- D. 商业承兑汇票的付款人是银行

【答案】B。商业汇票分为商业承兑汇票（由银行以外的付款人承兑）和银行承兑汇票（由银行承兑）两种。汇票是出票人签发的，委托付款人在见票时或者在指定日期无条件支付确定的金额给收款人或者持票人的票据。故 B 项正确；ACD 错误。故本题正确答案选 B。

22. 信用卡免息还款期最短为（ ）天。

- A. 10
- B. 15
- C. 20
- D. 25

【答案】C。我国信用卡发卡银行一般给予信用卡持卡人 20~56 天的免息期。故 C 项正确；ABD 错误。故本题正确答案选 C。

23. 办理资金收付业务，收到客户支付的 100 元手续费，这属于商业银行的（ ）。

- A. 中间业务
- B. 票据业务

- C. 负债业务
- D. 贷款业务

【答案】A。“资金收付业务”属于支付结算业务。支付结算业务是银行的中间业务，主要收入来源是手续费收入，故 A 项正确；票据业务是指信用机构，按照一定的方式和要求为票据的设立、转移和偿付而进行的日常营业性的业务活动，故 B 项错误；负债业务是银行借以形成其资财的业务，故 C 项错误；贷款是银行最主要的资产，是银行最主要的资金运用，故 D 项错误。故本题正确答案选 A。

24. 下列关于银行卡的叙述，不正确的是（ ）。

- A. 信用卡按是否向发卡银行交存备用金分为贷记卡、准贷记卡两类
- B. 贷记卡透支额度根据持卡人缴存的备用金额度核定
- C. 借记卡不具备透支功能
- D. 转账卡和专用卡是借记卡的不同种类

【答案】B。贷记卡是发卡银行给予持卡人一定信用额度，持卡人可在信用额度内先使用、后还款的信用卡，不需要缴存备用金，故 B 项错误；ACD 均说法正确。故本题正确答案选 B。

25. 商业银行内部管理人员根据银行所承受的风险计算的、银行需要保有的最低资本量为（ ）。

- A. 会计资本
- B. 经济资本
- C. 最低注册资本
- D. 监管资本

【答案】B。经济资本是根据银行资产的风险程度计算出来的虚拟资本，即银行所“需要”的资本，或“应该持有”的资本，商业银行内部管理人员根据银行所承受的风险计算的、银行需要保有的最低资本量为经济资本，故 B 项正确；账面资本又称为会计资本，是指商业银行持股人的永久性资本投入，即出资人在商业银行资产中享有的经济利益，其金额等于资产减去负债后的余额，账面资本反映了银行实际拥有的资本水平，是银行资本金的静态反映，故 A 项错误；监管资本涉及两个层次的概念：一是银行实际持有的符合监管规定的合格资本；二是银行按照监管要求应当持有的最低资本量或最低资本要求。故 D 项错误。故本题正确答案选 B。

26. 关于直接信用控制和间接信用控制的说法，正确的是（ ）。

- ①直接信用控制以行政命令或其他方式作出
- ②直接信用控制涉及总量和结构两个方面
- ③道义劝告和窗口指导属于间接信用控制
- ④流动性比率不是直接信用控制

A.①②③

B.①②④

C.②③④

D.①③④

【答案】A。直接信用控制的手段包括利率最高限额、信用分配、流动性比率、直接干预及开办特种存款等。④流动性比率不是直接信用控制，故④说法不正确。故A项正确；BCD错误。故本题正确答案选A。

27. 下列关于货币政策最终目标的表述错误的是（ ）。

- A.最终目标具有稳定性，基本上与一个国家的宏观经济目标相一致
- B.货币政策的最终目标包括稳定物价、充分就业、经济增长等
- C.经济增长是中央银行货币政策的首要目标
- D.货币政策要对最终目标发生作用只能借助于货币政策工具

【答案】C。货币政策的最终目标包括稳定物价、充分就业、经济增长、国际收支平衡和金融稳定。其中稳定物价是中央银行货币政策的首要目标。故C项错误；ABD均说法正确。故本题正确答案选C。

28. 中央银行垄断货币发行权，是全国唯一有权发行货币的机构，调节货币供应量、保证货币流通的正常与稳定，指的是中央银行的（ ）职能。

- A.银行的银行
- B.发行的银行
- C.政府的银行
- D.货币的银行

【答案】B。“发行的银行”指中央银行垄断货币发行权，是全国唯一有权发行货币的机构，调节货币供应量、保证货币流通的正常与稳定责任负有责任，故B项正确，D项错误；中央银行是银行的银行：（1）保管和调度一般金融机构的存款准备金；（2）作为最后

贷款人的银行；（3）作为最后清算人的银行。故 A 项错误；中央银行是政府的银行：（1）代理国库，管理政府资金；（2）为政府提供信用；（3）代表政府管理国内外金融事务；（4）制定和执行货币政策；（5）调节货币供应量；（6）监督和管理金融业。故 C 项错误。故本题正确答案选 B。

29. 以下不属于中央银行负债业务的是（ ）。

- A. 储备货币
- B. 发行债券
- C. 自有资金
- D. 对政府债权

【答案】D。中央银行负债业务包括储备货币、不计入储备货币的金融公司存款、发行债券、政府存款、国外存款、自有资金和其他负债，故 ABC 均属于中央银行负债业务；D 属于中央银行资产类业务，不属于中央银行负债业务。故本题正确答案选 D。

30. 以下关于存款准备金制度说法正确的是（ ）。

- ①存款准备金制度是银行创造信用货币的基本前提条件
- ②准备金比例与银行可用贷款资金呈正向相关
- ③存款派生能力与存款准备金比例呈负向变动关系
- ④存款准备金的高低影响货币的供应量

- A. ①②③
- B. ①②④
- C. ②③④
- D. ①③④

【答案】D。存款准备金制度是银行创造信用货币的基本前提条件，对于一定数量的存款来说，准备金的比例越高，银行可用于贷款的资金就越少，存款派生能力就越弱，因此②说法错误，③正确。如果银行实行零准备金制度，则商业银行可将存款以贷款形式全额放出，如此循环，在理论上可以无限扩大货币供应量。故 D 项正确；ABC 错误。故本题正确答案选 D。

31. 和利率水平密切相关的货币需求动机是（ ）。

- A. 谨慎动机
- B. 投机动机

C.交易动机

D.预防动机

【答案】B。投机动机，主要是为了投机的需要而愿意持有的流动性货币，与利率有关，故 B 项正确；交易动机是凯恩斯货币需求理论的三大动机之一，指个人和企业需要货币是为了进行正常的交易活动，与收入有关，故 C 项错误；谨慎动机也称预防性动机，是指为预防意外支出而持有一部分货币的动机，如个人或企业为应付事故、失业、疾病等意外事件而需要事先持有有一定数量的货币，与收入有关，故 AD 项错误。故本题正确答案选 B。

32. 如果其他情况不变，当中央银行增加外汇储备时，货币供应量将（ ）。

A.增加

B.减少

C.不变

D.上下波动

【答案】A。如果其他情况不变，当中央银行增加外汇储备时，货币供应量将增加。故 A 项正确；BCD 错误。故本题正确答案选 A。

33. 国际收支顺差，主要是（ ）的结果。

A.对外贸易逆差和外资流入

B.对外贸易顺差和外资流出

C.对外贸易顺差和外资流入

D.对外贸易逆差和外资流出

【答案】C。国际收支顺差，主要是对外贸易顺差和外资流入的结果。故 C 项正确；ABD 错误。故本题正确答案选 C。

34. 按照弗里德曼的货币需求理论，在个人总财富中，人力财富所占比例越大，货币需求将会（ ）。

A.不变

B.越多

C.越少

D.变化莫测

【答案】B。弗里德曼把财富分为人力财富和非人力财富两类。他认为，对大多数财富持有者来说，他的主要资产是其人力财富。在个人总财富中，人力财富所占比重越大，货币

需求就越多，而非人力财富所占比例越大，货币需求则相对较少。故 B 项正确；ACD 错误。故本题正确答案选 B。

35. 由于客户违约使银行债权得不到清偿而遭受损失的风险是（ ）。

- A.信用风险
- B.操作风险
- C.法律风险
- D.声誉风险

【答案】A。信用风险是指债务人或交易对手未能履行合同所规定的义务或信用质量发生变化，从而给银行带来损失的可能性，故 A 项正确；操作风险是指由不完善或有问题的内部程序、人员及系统或外部事件所造成损失的风险，故 B 项错误；法律风险是银行因经营活动违反法律规定而承担法律责任的可能性，故 C 项错误；声誉风险是指金融机构因受公众的负面评价，而出现客户流失、股东流失、业务机遇丧失、业务成本提高等情况，从而蒙受相应经济损失的可能性，故 D 项错误。故本题正确答案选 A。

36. 金融企业无力为负债的减少或资产的增加提供融资而造成损失或破产的风险是（ ）。

- A.市场风险
- B.信用风险
- C.国家风险
- D.流动性风险

【答案】D。流动性风险是指金融企业无力为负债的减少或资产的增加提供融资而造成损失或破产的风险，故 D 项正确；市场风险是指因市场价格的不利变动而使银行表内和表外业务发生损失的风险，故 A 项错误；信用风险是指债务人或交易对手未能履行合同所规定的义务或信用质量发生变化，从而给银行带来损失的可能性，故 B 项错误；国家风险指经济主体在与非本国居民进行国际经贸与金融往来中，由于他国经济、政治和社会等方面的变化而遭受损失的可能性，故 C 项错误。故本题正确答案选 D。

37. 金融监管的首要目标是（ ）。

- A.安全性目标
- B.效率性目标
- C.盈利性目标

D.公平性目标

【答案】A。金融是现代经济的核心，金融体系的安全与稳定对一国经济的发展具有重要意义，安全性目标是金融监管的首要目标。故 A 项正确；BCD 错误。故本题正确答案选 A。

38. 下列属于操作风险的是（ ）。

A.法律风险

B.策略风险

C.声誉风险

D.价格风险

【答案】B。操作风险是指由于不完善或有问题的内部操作程序、人员和系统或因外部事件导致直接或间接损失的风险。故 B 项正确；ACD 错误。故本题正确答案选 B。

39. 下列国际收支平衡表项目中，不属于经常项目的是（ ）。

A.贸易收支

B.劳务收支

C.转移收支

D.错误与遗漏

【答案】D。国际收支平衡表包括的主要项目有：经常项目、资本与金融项目、结算或平衡项目、误差和遗漏。经常项目又分为贸易收支、劳务收支和转移收支三项。故 D 项不属于经常项目；ABC 均属于经常项目。故本题正确答案选 D。

40. 下列不属于银行操作风险三道防线的是（ ）。

A.业务条线管理

B.独立的法人操作风险管理部门

C.独立的评估与审查

D.鼓励银行持续改善内部管理

【答案】D。银行操作风险管理的三道防线：（1）业务条线管理；（2）独立的法人操作风险管理部门；（3）独立的评估与审查。故 D 项不属于银行操作风险三道防线；ABC 均属于银行操作风险三道防线。故本题正确答案选 D。

41. 在汇率标价方法当中，间接标价法是指以（ ）。

A.若干数量的外币表示一定单位的本币

- B.若干数量的本币表示一定单位的外币
- C.若干数量的本币表示一定单位的黄金
- D.若干数量的本币表示一定单位的特别提款权

【答案】A。间接标价法是指用若干数量的外币表示一定单位的本币，或是以一定单位的本币为标准折算成若干单位外币的一种汇率表示方法，故 A 项正确；BCD 错误。故本题正确答案选 A。

42. 我国国家外汇管理局公布的外汇牌价，采用（ ）。

- A.直接标价法
- B.间接标价法
- C.美元标价法
- D.人民币标价法

【答案】A。我国国家外汇管理局公布的外汇牌价，采用直接标价法。故 A 项正确；BCD 错误。故本题正确答案选 A。

43. 国际收支平衡表中，（ ）可用于衡量国际收支对一国储备造成的压力。

- A.贸易收支差额
- B.经常项目差额
- C.资本和金融项目差额
- D.综合项目差额

【答案】D。国际收支平衡表中，综合项目差额可用于衡量国际收支对一国储备造成的压力。故 D 项正确；ABC 错误。故本题正确答案选 D。

44. 特别提款权不能用于国际间普通商品交换，但可以作为（ ）。

- A.可转换债券支付对方债务
- B.私人现金支付对方债务
- C.企业现金支付对方债务
- D.国际储备支付国际间债务

【答案】D。特别提款权不能用于国际间普通商品交换，但可以作为国际储备支付国际间债务。故 D 项正确；ABC 错误。故本题正确答案选 D。

45. 在外汇标价中，中间汇率是指（ ）。

- A.即期汇率与远期汇率的中间数

- B. 银行买入汇率与卖出汇率的平均数
- C. 外汇市场开盘价与收盘价的中间数
- D. 一定时期内汇率的中位数

【答案】B。在外汇标价中，中间汇率是指银行买入汇率与卖出汇率的平均数。故 B 项正确；ACD 错误。故本题正确答案选 B。

46. 历史上最早产生的纸币是（ ）。

- A. 英镑
- B. 交子
- C. 开元通宝
- D. 荷兰盾

【答案】B。交子，是发行于北宋于仁宗天圣元年（1023 年）的货币，是最早产生的纸币，故 B 项正确；英镑为英国的本位货币单位，由成立于 1694 年的英格兰银行发行，故 A 项错误；开元通宝是唐高祖武德四年（公元 621 年），为整治混乱的币制而开铸的，主要为铜质材料铸成，故 C 项错误；荷兰盾是 13 世纪开始流通的荷兰货币，故 D 项错误。故本题正确答案选 B。

47. 货币供应量包括现金和存款两个部分，其中现金是（ ）的负债。

- A. 商业银行
- B. 中央银行
- C. 投资银行
- D. 政策性银行

【答案】B。货币供应量包括现金和存款两个部分，其中现金是中央银行的负债。故 B 项正确；ACD 错误。故本题正确答案选 B。

48. 人民币是我国的法定货币，其本质是（ ）。

- A. 代用货币
- B. 银行券
- C. 不兑现的信用货币
- D. 可兑现的信用货币

【答案】C。人民币是我国的法定货币，采取不兑现纸币的形式，没有含金量的规定，是一种信用货币，故 C 项正确；代用货币是指代表金属实物货币流通并可随时兑换成金属

实物货币的货币形态，包括银行券和辅币，典型的代用货币是银行券，故 AB 错误；从货币的发展沿革来看，金属货币时代可以分为两个子阶段，可兑换的信用货币和不可兑换的信用货币时代，这里的所谓“可兑换”是指纸质货币与金属货币的可兑换，故 D 项错误。故本题正确答案选 C。

49. 金块本位制和金汇兑本位制具有内在的不稳定性。其表现不包括（ ）。

- A. 黄金失去了自发调节货币流通的可能性
- B. 银行券一旦发行过多就会贬值
- C. 一旦外国货币制度发生动摇，实行金汇兑本位制的国家货币制度也要随之动摇
- D. “劣币驱逐良币”现象

【答案】D。金块本位制和金汇兑本位制具有内在的不稳定性：第一，两种制度都没有金币流通，黄金失去了流通手段职能，从而也失去了自发调节货币流通的可能性；第二，银行券不能自由兑换黄金，一旦发行过多就会贬值；第三，金汇兑本位制依附于外国货币制度，一旦外国货币制度发生动摇，本国货币制度也必然随之动摇。故 ABC 均属于金块本位制和金汇兑本位制具有内在的不稳定性的表现；“劣币驱逐良币”现象出现在金银复本位制下的双本位制，故 D 项不属于金块本位制和金汇兑本位制具有内在的不稳定性的表现。故本题正确答案选 D。

50. 下列金融业务中，不属于商业信用的是（ ）。

- A. 赊销
- B. 银行贷款
- C. 预付
- D. 分期付款

【答案】B。商业信用有两种表现形式：一是企业之间相互提供的、与商品的生产 and 流通有关的信用，包括赊销、预付和分期付款等形式；二是指企业直接向社会集资，以解决自身扩大再生产的资金需要，主要是采取发行公司（企业）债券的形式。故 ACD 均属于商业信用；B 项银行贷款属于银行信用，不属于商业信用。故本题正确答案选 B。

51. 回购协议中所交易的证券主要是（ ）。

- A. 银行债券
- B. 企业债券
- C. 政府债券

D.金融债券

【答案】C。回购协议指的是在出售证券的同时，与证券的购买商达成协议，约定在一定期限后按原定价格购回所卖证券，从而获取即时可用资金的一种交易行为，主要交易品种包括商业票据、政府债券和可转让大额定期存单，故 C 项正确；ABD 错误。故本题正确答案选 C。

52. 下列各项中不属于大额可转让定期存单特点的是（ ）。

A.不记名

B.利率略低于同等期限的定期存款利率

C.金额固定，面额大

D.允许买卖，转让

【答案】B。大额可转让定期存单是指银行发行的可以在金融市场上转让流通的一定期限的银行存款凭证。利率一般高于同等期限的定期存款利率，故 B 项错误；一般不记名，故 A 项正确；面额大且固定，C 项正确；允许买卖，交易转让，但不可提前支取，故 D 项正确。故本题正确答案选 B。

53. 利息是（ ）的价格。

A.货币资本

B.借贷资本

C.外来资本

D.银行贷款

【答案】B。利息是借贷者使用货币资金必须支付的代价利息，因此是借贷资本的价格，故 B 项正确；货币资本是指以货币形式存在的资本，故 A 项错误；银行贷款是商业银行作为债权人按照一定的贷款原则和政策，以还本付息为条件，将一定数量的货币资金提供给借款人使用的一种借贷行为，是商业银行最主要的资金运用，故 D 项错误。故本题正确答案选 B。

54. 小王借给好友小张 10000 元，一年后物价水平上涨了 10%，小张偿还给小王 10800 元，小王的实际收益率为（ ）。

A.8%

B.10%

C.-2%

D.2%

【答案】C。由于物价上涨，一年前的 10000 元相当于一年后的 11000 元，而小张只偿还了 10800 元，故小王的实际收益率为负数，实际收益率=名义收益率-通货膨胀率= $(10800-10000) \div 10000 - 10\% = -2\%$ ，故 C 项正确；ABD 错误。故本题正确答案选 C。

55. 下列不属于银保监会负责监管的非银行金融机构是（ ）。

- A.金融资产管理公司
- B.信托公司
- C.基金管理公司
- D.金融租赁公司

【答案】C。由银保监会负责监管的非银行金融机构包括金融资产管理公司、信托公司、企业集团财务公司、金融租赁公司、汽车金融公司、货币经纪公司，故 ABD 均属于银保监会负责监管的机构，基金管理公司的监管机构应为证监会。故本题正确答案选 C。

56. 现阶段，我国货币政策的操作目标和中介目标分别是（ ）和（ ）。

- A.货币供应量 基础货币
- B.基础货币 高能货币
- C.基础货币 流通中现金
- D.基础货币 货币供应量

【答案】D。现阶段我国货币政策的中介目标主要是货币供应量，操作目标主要是基础货币，故 D 项正确，A 项错误；基础货币即高能货币，仅仅是操作指标，故 B 项错误；基础货币是操作指标，但流通中现金不是中介指标，故 C 项错误。故本题正确答案选 D。

57. 存款人办理日常转账结算和现金收付的账户是（ ）。

- A.专用存款账户
- B.一般存款账户
- C.基本存款账户
- D.临时存款账户

【答案】C。存款人办理日常转账结算和现金收付的账户是基本存款账户，故 C 项正确；专用存款账户是专款专用，故 A 项错误；一般存款账户只能办理现金缴存，但不能用于支取，故 B 项错误；临时存款账户为了满足临时性需求而设立的账户，故 D 项错误。故本题正确答案选 C。

58. 商业银行的资金来源很多，但一般说来，最主要的是（ ）。

- A. 资本金
- B. 中央银行借款
- C. 发行金融债券
- D. 存款负债

【答案】D。ABCD 都是资金的来源，但最主要的来源就是存款，也是银行的负债，故 D 项正确，ABC 错误。故本题正确答案选 D。

59. 与活期储蓄相比，利息有一定优越性，但又可以随时支取的人民币储蓄存款是（ ）。

- A. 定期储蓄
- B. 定活两便储蓄
- C. 零存整取储蓄
- D. 教育储蓄

【答案】B。定活两便存款开户时不约定存期，一次存入本金，随时可以支取，银行根据客户存款的实际存期按规定计息，故 B 项正确；定期存款银行与存款人双方在存款时事先约定期限、利率，到期后支取本息的存款，故 A 项错误；零存整取储蓄是银行定期储蓄的一种基本类型。是指储户在进行银行存款时约定存期、每月固定存款、到期一次支取本息的一种储蓄方式，故 C 项错误；教育储蓄是指个人按国家有关规定在指定银行开户、存入规定数额资金、用于教育目的的专项储蓄，是一种专门为学生支付非义务教育所需教育金的专项储蓄，故 D 项错误。故本题正确答案选 B。

60. 下列不属于境外上市的股票是（ ）。

- A. B 股
- B. H 股
- C. S 股
- D. N 股

【答案】A。B 股是人民币特种股票，它是以人民币标明面值，以外币认购和买卖，在中国境内（上海、深圳）证券交易所上市交易的外资股，故 A 项正确；H 股也称国企股，指注册地在内地、上市地在香港的外资股，故 B 项错误；S 股是指在中国内陆注册，在新加

坡交易所上市挂牌的股票，故 C 项错误；N 股是指在中国内陆注册，在纽约交易所上市挂牌的股票，故 D 项错误。故本题正确答案选 A。

61. 在货币本位制度中，平行本位制属于（ ）。

- A. 银本位制
- B. 金银复本位制
- C. 金本位制
- D. 不兑现的信用货币制度

【答案】B。金银复本位制有三种具体形式：平行本位制、双本位制和跛行本位，故 B 项正确；以白银的若干数量来表示的货币基本单位及其价值标准，就是银本位，故 A 项错误；以黄金的若干数量来表示的货币基本单位及其价值标准，就是金本位，故 C 项错误；不兑现的信用货币制度是指货币与黄金的联系逐渐削弱并最后取消。货币不规定含金量，不能兑现黄金，发行不受黄金储备限制，故 D 项错误。故本题正确答案选 B。

62. 中国人民银行向商业银行等市场交易商卖出有价证券，并约定在未来特定日期买回有价证券的交易行为是（ ）行为。

- A. 逆回购
- B. 正回购
- C. 顺回购
- D. 负回购

【答案】B。正回购是一方以一定规模债券作抵押融入资金，并承诺在日后再购回所抵押债券的交易行为，这也是央行经常使用的公开市场操作手段之一，央行利用正回购操作可以达到从市场回笼资金的效果，故 B 项正确；逆回购为资金融出方将资金给资金融入方，收取有价证券作为抵押，并在未来收回本息，并解除有价证券抵押的交易行为，故 A 项错误；金融学里面没有顺回购和负回购这样的说法，故 CD 错误。故本题正确答案选 B。

63. 投机机构构成投机性需求，其主要影响因素是（ ）。

- A. 风险
- B. 收入
- C. 利率
- D. 支出

【答案】C。投机动机是投机性需求，由利率的高低决定，是利率的减函数，故 C 项正确；ABD 错误。故本题正确答案选 C。

64. 剑桥学派的“现金余额数量说”提出，假设其他因素不变，则（ ）。

- A. 物价水平与货币量成反比，货币价值与货币量成正比
- B. 物价水平与货币量成正比，货币价值与货币量成正比
- C. 物价水平与货币量成正比，货币价值与货币量成反比
- D. 物价水平与货币量成反比，货币价值与货币量成反比

【答案】C。剑桥学派认为，假定其他因素不变，物价水平与货币量成正比，货币价值与货币量成反比，故 C 项正确；ABD 错误。故本题正确答案选 C。

65. “劣币驱逐良币”的现象发生在（ ）货币制度中。

- A. 双本位制
- B. 平行本位制
- C. 银本位制
- D. 金本位制

【答案】A。“劣币驱逐良币”是发生在金银复本位制下的双本位制，故 A 项正确；平行本位制是金币和银币按其实际价值流通，其兑换比率完全由市场比价决定，故 B 项错误；银本位制、金本位制均是一种货币作为交易媒介，没有良币劣币之分，故 CD 错误。故本题正确答案选 A。

66. 股票实质上代表了股东对股份公司的（ ）。

- A. 产权
- B. 债券
- C. 物权
- D. 所有权

【答案】D。股票实质上代表了股东对股份公司的所有权，股东凭借股票可以获得公司的股息和红利，参加股东大会并行使自己的权利。故 D 项正确；ABC 错误。故本题正确答案选 D。

67. 关于金融市场的结构的说法，错误的是（ ）。

- A. 银行承兑汇票是银行信用与商业信用的结合
- B. 短期政府债券的流动性在货币市场中是最高的

C.既具有货币市场属性，又具有资本市场属性的是同业拆借市场

D.商业票据是一种短期无担保证券，是以企业间的直接信用作保证

【答案】C。既具有货币市场属性，又具有资本市场属性的不是同业市场而是债券市场，故 C 项错误；ABD 均说法正确。故本题正确答案选 C。

68. 一般来说，国债、企业债、股票的信用风险依次（ ），所要求的风险溢价越来越（ ）。

A.升高；越高

B.降低；越高

C.升高；越低

D.降低；越低

【答案】A。风险溢价的主要影响因素：（1）信用风险因素，一般来说，国债、企业债、股票的信用风险依次升高，所要求的风险补偿越来越高，也即风险溢价越来越高。（2）流动性因素，流动性越强，风险溢价越低，反之，则越高。（3）到期日因素，到期日越长，风险溢价越高，反之，则越低。故 A 项正确；BCD 均错误。故本题正确答案选 A。

69. 按照行权期限的不同，期权可以分为（ ）。

A.欧式期权和美式期权

B.商品期权和金融期权

C.看涨期权和看跌期权

D.现货期权和期货期权

【答案】A。按照买方执行期权时对行权时间规定的不同，可以将期权分为美式期权和欧式期权。美式期权是指期权买方在期权有效期内的任何交易日都可以行使权利的期权；欧式期权是指期权买方只能在期权到期日行使权利的期权。故 A 项正确；按照买方权利的不同，期权合约可分为看涨期权和看跌期权两种类型，故 C 项错误；期货期权是对期货合约买卖权的交易，包括商品期货期权和金融期货期权，现货期权是以现货为标的资产的期权，故 BD 项错误。故本题正确答案选 A。

70. 金融市场的交易对象是（ ）。

A.利率

B.货币资金

C.债券

D.期权

【答案】B。金融市场的交易对象是货币资金，故B项正确；ACD错误。故本题正确答案选B。

71. 一年期国债利率3.8%，票面金额为100，则债券利息为（ ）。

A.2.8

B.4.0

C.3.5

D.3.8

【答案】D。债券利息=债券面值×票面利率×时间=100×3.8%=3.8元。故D项正确；ABC错误。故本题正确答案选D。

72. 当中央银行想刺激经济时，会增加货币投入量，使可贷资金的供给增加，此时利率（ ）。

A.上升

B.下降

C.不变

D.不确定

【答案】B。当中央银行想刺激经济时，会增加货币投入量，使可贷资金的供给增加，可贷资金供给曲线向右移动，此时利率下降；反之，当中央银行想限制经济过度膨胀时，会减少货币供给，使可贷资金的供给减少，可贷资金供给曲线向左移动，此时利率上升。故B项正确；ACD错误。故本题正确答案选B。

73. 当利率水平下降时，已发债券的市场价格一般将（ ）。

A.下跌

B.可能上涨也可能下跌

C.上涨

D.不变

【答案】C。债券的价格与利率水平成反比，当利率水平下降时，已发债券的市场价格一般将上涨，故C项正确；ABD错误。故本题正确答案选C。

74. 不属于银行业金融机构的是（ ）。

A.城市信用合作社

- B.证券公司
- C.政策性银行
- D.中国工商银行

【答案】B。中华人民共和国银行业金融机构，是指在中华人民共和国境内设立的商业银行、城市信用合作社、农村信用合作社等吸收公众存款的金融机构以及政策性银行，故ACD均属于银行业金融机构；证券公司属于非银行金融机构，故B项不属于银行业金融机构。故本题正确答案选B。

75. 下列关于货币政策最终目标的表述错误的是（ ）。
- A.最终目标具有稳定性，基本上与一个国家的宏观经济目标相一致
 - B.货币政策的最终目标包括稳定物价、充分就业、经济增长等
 - C.经济增长是中央银行货币政策的首要目标
 - D.货币政策要对最终目标发生作用只能借助于货币政策工具

【答案】C。最终目标具有稳定性，基本上与一个国家的宏观经济目标相一致，故A选项正确；货币政策的最终目标包括稳定物价、充分就业、经济增长等，故B选项正确；稳定物价（并非经济增长）是中央银行货币政策的首要目标，故C选项错误；货币政策要对最终目标发生作用只能借助于货币政策工具，故D选项正确。故本题正确答案选C。

76. 我国目前对不同口径的货币供应量的划分依据是（ ）。
- A.货币的名义购买力
 - B.货币的实际购买力
 - C.资产的流动性
 - D.资产的安全性

【答案】C。目前一般依据资产的流动性，即各种货币资产转化为通货或现实购买力的能力来划分不同的货币层次，故C项正确；ABD错误。故本题正确答案选C。

77. 根据我国货币层次的划分标准，既属于狭义货币供应量M1，又属于广义货币供应量M2的是（ ）。
- A.单位活期存款
 - B.单位定期存款
 - C.个人存款
 - D.财政存款

【答案】A。 M_2 又称为广义货币， $M_2=M_1+$ 定期存款+储蓄存款+其他存款， M_1 被称为狭义货币， $M_1=M_0$ （流通中的现金）+活期存款，因此，ABC均属于 M_2 ；A项单位活期存款还属于 M_1 。故A项正确；BCD错误。故本题正确答案选A。

78. 下列不属于支付结算业务的是（ ）。

- A. 汇款
- B. 托收
- C. 承兑
- D. 信用证

【答案】C。支付结算业务是指银行为单位客户和个人客户采用票据、汇款、托收、信用证、信用卡等结算方式进行货币支付及资金清算提供的服务，故ABD均属于支付结算业务；C项属于银行的担保类业务，不属于支付结算业务。故本题正确答案选C。

79. （ ）作为市场参与者，身份和地位是双重的：一是公平交易的一方，另一方面还是金融市场的主要管理者。

- A. 工商企业
- B. 商业银行
- C. 中央银行
- D. 金融机构

【答案】C。中央银行作为市场参与者，身份和地位是双重的：一是公平交易的一方，另一方面还是金融市场的主要管理者，故C项正确；工商企业、商业银行、金融机构是金融市场上资金的供求者，故ABD错误。故本题正确答案选C。

80. 一般来讲，下列不属于商业银行短期借款业务的是（ ）。

- A. 发行金融债券
- B. 债券回购
- C. 向中央银行借款
- D. 同业拆借

【答案】A。商业银行的借款业务包括短期借款业务和长期借款业务。短期借款业务是指借款期限在1年以内的借款，包括债券回购、向央行借款和同业拆借，故BCD均属于商业银行短期借款业务；长期借款一般期限在1年及以上的借款，主要是发行金融债券，故A项不属于商业银行短期借款业务。故本题正确答案选A。

多项选择题

81. 根据我国目前的有关规定，属于外汇范畴的有（ ）。

- A. 外国纸币
- B. 外币银行存款凭证
- C. 外币邮政储蓄凭证
- D. 外国铸币
- E. 外国动产与不动产

【答案】ABCD。外汇，是指下列以外币表示的可以用做国际清偿的支付手段和资产：
①外币现钞，包括纸币、铸币；②外币支付凭证或者支付工具，包括票据、银行存款凭证、银行卡等；③外币有价证券，包括债券、股票等；④特别提款权；⑤其他外汇资产。故 ABCD 正确；E 项错误。故本题正确答案选 ABCD。

82. 下列中央银行的信贷调控手段中，属于减少流通中货币的有（ ）。

- A. 提高法定存款准备金率
- B. 降低法定存款准备金率
- C. 买入有价证券
- D. 卖出有价证券
- E. 提高再贴现率

【答案】ADE。一般性货币政策工具主要包括法定存款准备金政策、再贴现及公开市场业务，即中央银行的“三大传统法宝”。中央银行可以通过提高法定存款准备金率、提高再贴现率或利用公开市场操作卖出证券来减少货币供应量。故 ADE 正确；BC 错误。故本题正确答案选 ADE。

83. 被称为货币政策的“三大法宝”是（ ）。

- A. 公开市场业务
- B. 存款准备金
- C. 再贴现
- D. 利率政策
- E. 汇率政策

【答案】ABC。我国货币政策工具主要包括公开市场业务、存款准备金、再贷款与再贴现、利率政策、汇率政策和窗口指导六大类。在这六大类货币政策工具中，公开市场业务、

存款准备金和再贴现是现代中央银行应用最为广泛的货币政策工具，被称为货币政策的“三大法宝”。故 ABC 正确；DE 错误。故本题正确答案选 ABC。

84. 中间业务的特点包括（ ）。

- A. 不运用或不直接运用银行的自有资金。
- B. 不承担或不直接承担市场风险
- C. 以获得传统的存贷利差收入方式获得收益
- D. 种类多、范围广
- E. 产生的收入在商业银行营业收入中所占的比重日益上升

【答案】ABDE。中间业务的特点包括：（1）不运用或不直接运用银行的自有资金；（2）不承担或不直接承担市场风险；（3）以接受客户委托为前提为客户办理业务；（4）以收取服务费、赚取价差方式获得收益；（5）种类多、范围广。故 ABDE 正确；C 项错误。故本题正确答案选 ABDE。

85. 非银行类金融机构主要包括（ ）。

- A. 农村信用社
- B. 投资银行
- C. 证券交易所
- D. 财务公司
- E. 中央银行

【答案】BCD。非银行金融机构，除商业银行和政策性银行以外的所有金融机构，主要包括信托、证券、保险、融资租赁等机构等，故 BCD 正确；农村信用社属于银行类金融机构，故 A 项错误；中央银行是国家干预和调控经济发展的重要工具。负责制定并执行国家货币信用政策，独具货币发行权，实行金融监管，故 E 项错误。故本题正确答案选 BCD。

86. 下列金融工具中，属于长期金融工具的有（ ）。

- A. 股票
- B. 银行债券
- C. 公司债券
- D. 定期存款
- E. 活期存款

【答案】ABC。长期金融工具（资本市场）主要是指股票市场、长期债券市场、投资基金市场。故 ABC 正确；DE 错误。故本题正确答案选 ABC。

87. 下列信用形式中，属于直接信用的有（ ）。

- A. 商业企业对客户赊销商品
- B. 信用合作社对农户发放贷款
- C. 企业发行债券
- D. 银行对居民发放购房贷款
- E. 股份公司发行股票

【答案】ACE。直接信用方式包括：预付或赊销商品形成的商业信用，发行及买卖有价证券形式的公司信用、国家信用等，故 ACE 正确；BD 属于间接信用，故 BD 错误。故本题正确答案选 ACE。

88. 在弗里德曼的货币需求函数中，与货币需求成反比的有（ ）。

- A. 恒久性收入
- B. 人力财富占非人力财富的比重
- C. 股票的收益率
- D. 债券的收益率
- E. 存款利率

【答案】CDE。弗里德曼认为，影响人们持有货币的因素主要来自三个方面：（1）财富总额与财富构成。财富总额即恒久性收入越高，所需货币越多；财富构成，即人力财富和非人力财富之比，人力财富比例越高，所需准备的货币就越多；（2）金融资产的预期收益率和机会成本。其他金融资产的收益率越高，所持货币的机会成本越大，持有货币的数量就会越少；（3）其他因素。不属于上述两方面，但又影响货币需求的各种随机因素。由此可见，选项 CDE 与货币需求成反比，故 CDE 正确；AB 错误。故本题正确答案选 CDE。

89. 在半强式有效市场中，证券当前价格反映的信息有（ ）。

- A. 公司的财务报告
- B. 公司公告
- C. 有关公司红利政策的信息
- D. 内幕信息

【答案】ABC。在半强式有效市场中，当前的证券价格不仅反映了历史价格包含的所有信息，而且反映了所有有关证券的能公开获得的信息。在这里，公开信息包括公司的财务报告、公司公告、有关公司红利政策的信息和经济形势等，故 ABC 正确；在强式有效市场中，证券价格充分反映了所有信息，包括公开信息和内幕信息，故 D 项错误。故本题正确答案选 ABC。

90. 下列各项中属于不约定存期的存款类型的有（ ）。

- A.单位通知存款
- B.单位协定存款
- C.协议存款
- D.定活两便储蓄
- E.个人通知存款

【答案】ADE。不约定存期的存款类型包括单位通知存款、定活两便储蓄、个人通知存款，故 ADE 正确；单位协定存款的客户需要与商业银行签订合同来约定合同期限，故 B 项错误；协议存款客户需要签订协议，确定存款期限、金额、利率和结息方式，故 C 项错误。故本题正确答案选 ADE。

91. 系统风险又称为（ ）。

- A.可分散风险
- B.不可分散风险
- C.不可回避风险
- D.交换风险

【答案】BC。系统风险是指由于多种因素的影响和变化，导致投资者风险增大，从而给投资者带来损失的可能性，系统风险又被称为不可分散风险或不可回避风险，故 BC 正确；非系统风险是因个别上市公司特殊状况造成的风险，这类风险只与上市公司本身相联系，与整个市场没有关系。包括：财务风险、信用风险、经营风险、偶然事件风险，可以通过分散投资来消除风险，故 AD 项错误。故本题正确答案选 BC。

92. 我国当前的金融监管体制已经从“一行三会”过渡到“一委一行两会”，其中“一委一行两会”包括（ ）。

- A.国务院金融稳定发展委员会
- B.中国人民银行

- C.中国银监会
- D.中国银保监会

【答案】ABD。“一委一行两会”指国务院金融稳定发展委员会、中国人民银行、中国证券监督管理委员会以及中国银行保险监督管理委员会，中国银监会和中国保监会已经合并为新的中国银行保险监督管理委员会。故 ABD 正确；C 项错误。故本题正确答案选 ABD。

93. 商业银行负债业务中借款负债的渠道主要包括（ ）。

- A.向中央银行借款
- B.同业借款
- C.存款负债
- D.回购协议

【答案】ABD。商业银行的负债业务主要包括：（1）自有资金；（2）存款负债；（3）借款负债。其中，借款负债的渠道主要包括向中央银行借款、同业借款、回购协议以及国外市场借款等。故 ABD 正确；C 项错误。故本题正确答案选 ABD。

94. 我国的中央银行所宣布的货币政策的目标包括（ ）。

- A.促进国际化
- B.稳定物价
- C.促进经济增长
- D.促进证券市场发展

【答案】BC。我国的中央银行所宣布的货币政策的目标包括：稳定物价、充分就业、促进经济增长、国际收支平衡。故 BC 正确；AD 错误。故本题正确答案选 BC。

95. 金融衍生工具包括（ ）。

- A.远期合约
- B.期权合约
- C.期货合约
- D.互换协议
- E.外汇合约

【答案】ABCD。金融衍生产品是与基础金融产品相对应的一个概念，指建立在基础产品或基础变量之上，其价格随基础金融产品的价格（或数值）变动的派生金融产品，包括远

期合约、期权合约、期货合约、互换协议，故 ABCD 正确；E 项错误。故本题正确答案选 ABCD。

96. 属于国际收支经常项目的是（ ）。

- A. 货物与服务
- B. 收益
- C. 证券投资
- D. 经常转移
- E. 储备资产

【答案】ABD。国际收支经常账户包括货物、服务、收入和经常转移，故 ABD 正确；证券投资和储备资产属于资本和金融账户，故 CE 错误。故本题正确答案选 ABD。

97. 商业银行资产业务包括（ ）。

- A. 同业拆借
- B. 库存现金
- C. 银行贷款
- D. 证券投资
- E. 结算业务

【答案】BCE。商业银行资产业务包括现金资产、贷款、票据贴现和证券投资，故 BCE 正确；AD 错误。故本题正确答案选 BCE。

98. 商业银行的经营原则有（ ）。

- A. 安全性
- B. 效益性
- C. 非盈利性
- D. 流动性
- E. 政策性

【答案】ABD。商业银行经营与管理的原则是安全性、流动性和盈利性，2003 年改为安全性、流动性、效益性。故 ABD 正确；CE 错误。故本题正确答案选 ABD。

99. 政策性金融机构特有的职能是（ ）。

- A. 倡导性职能
- B. 金融中介职能

- C.补充性职能
- D.选择性职能

【答案】ACD。政策性金融机构特有的职能包括倡导性职能、补充性职能、选择性职能，故ACD正确；融中介职能是金融机构共有的职能，故B项错误。故本题正确答案选ACD。

100. 以下属于中央银行负债业务的是（ ）。

- A.货币发行业务
- B.证券买卖业务
- C.集中存款准备金业务
- D.再贴现业务
- E.买卖外汇业务

【答案】AC。中央银行的负债业务包括货币发行业务、存款业务（中央银行吸收存款主要包括金融机构的准备金存款、政府存款、发行中央银行票据和外国存款等）、对外负债业务，故AC正确；BDE均属于央行的资产业务。故本题正确答案选AC。

经济习题

单项选择题

1. 商品X和商品Y的价格按相同比率上升，而收入不变，预算线（ ）。

- A.向左下方平移
- B.向右上方平移
- C.不变动
- D.不能确定

【答案】A。收入不变，商品价格同比例上升，消费者能够购买的商品数量减少，预算线向左下方平移，故A项正确，BCD项错误。故本题正确答案选A。

2. 关于总需求曲线，以下表述错误的是（ ）。

- A.总需求曲线反映的是产品市场和货币市场同时处于均衡时，价格水平和总需求量的关系
- B.扩张性的财政政策使总需求曲线向右移动
- C.扩张性的货币政策使总需求曲线向右移动

D.总需求曲线向右上方倾斜

【答案】D。A项，总需求曲线反映的是产品市场和货币市场同时处于均衡时，价格水平和总需求量的反向变动关系，不当选；BC项，扩张性的财政政策和扩张性的货币政策会刺激总需求，导致总需求曲线向右移动，不当选；D项，总需求曲线反映的是价格与总需求数量之间的反向变动关系，曲线向右下方倾斜，当选。故本题正确答案选D。

3. 科斯定理认为，外部性之所以存在并且导致资源配置失当，在多数情况下是因为（ ）。

- A.交易成本过大
- B.市场垄断者的存在
- C.信息不对称
- D.产权界定不明晰

【答案】D。科斯定理是指只要产权是明确的，并且交易成本为零或者很小，则无论在开始时将财产赋予谁，市场均衡的最终结果都是有效率的，故D项正确、ABC错误。故本题正确答案选D。

4. 完全竞争和垄断竞争市场的主要区别在于（ ）。

- A.生产者数量的多少
- B.产品是否具有差别
- C.消费者数量的多少
- D.进入障碍的大小

【答案】B。垄断竞争市场和完全竞争市场的主要区别是本行业内各企业生产者的产品的差别程度，故B项正确；完全竞争和垄断竞争市场的生产者和消费者的数量都比较多，且比较容易进出，故ACD不符合题意，予以排除。故本题正确答案选B。

5. 计算国内生产总值与国民生产总值时，计算的方面是不同的。一国从国外取得的净要素收入大于零，说明（ ）。

- A.GNP>GDP
- B.GNP=GDP
- C.GNP<GDP
- D.GNP与GDP不可比

【答案】A。国民生产总值（GNP）：某国国民在一定时期内运用所拥有的生产要素所生产的全部最终产品（包括商品和服务）的市场价值。 $GNP=GDP+$ 本国公民在国外生产的最终产品的价值总和 $-$ 外国公民在本国生产的最终产品的价值总和 $=GDP+$ 国外要素支付净额（NFP）。 $NFP>0$ ，所以 $GNP>GDP$ ，A 项正确、BCD 错误。故本题正确答案选 A。

6. 对凯恩斯“基本心理规律”的正确表达是（ ）。

- A. 随收入的增加，消费也相应增加，而消费的增加又会促进收入的进一步增加
- B. 收入的增长幅度总是大于消费的增长幅度
- C. 消费额总是与人们的收入水平有关
- D. 收入的增长幅度总小于消费的增长幅度

【答案】B。凯恩斯心理规律：随着收入的增加，消费也会增加，但是消费的增加不及收入增加多，故 B 项正确、A 项错误；C 项没有正确表述出消费与收入的关系，表述不准确，故 C 项不选；D 项说法与凯恩斯的基本心理规律相反，故 D 项不选。故本题正确答案选 B。

7. 以下不属于常用的宏观经济指标的是？（ ）

- A. 国内生产总值
- B. 消费者物价指数
- C. 生产者物价指数
- D. 股票指数

【答案】D。股票指数只针对股票市场，是金融市场的一个子类，不属于宏观经济指标，故 D 项正确；国内生产总值、消费者物价指数、生产者物价指数都属于宏观经济指标，故 ABC 错误；故本题正确答案选 D。

8. 引起结构性通货膨胀的主要原因在于（ ）。

- A. 各部门工资相继上升
- B. 货币需求过大
- C. 部门间生产率提高快慢不同
- D. 国际市场上的不稳定

【答案】C。结构性通货膨胀理论把通货膨胀的起因归结为经济结构本身所具有的特点。社会经济结构的特点是，各个部门生产率的提高速度有快有慢。现代社会经济结构容易使生产要素从生产率低的部门转移到生产率高的部门，但是，生产率提高慢的部门在工资和价格

问题上也要求向生产率提高快的部门“看齐”，要求“赶上去”，其结果就是一般价格水平的上涨。故 C 项正确；各部门工资相继上升是生产率提高的快慢不同导致的结果，不是引起结构性通货膨胀的原因，故 A 项错误；货币需求过大和国际市场上的不稳定不会导致结构性通货膨胀，故 BD 项错误。故本题正确答案选 C。

9. 流动性陷阱指的是（ ）。

- A.人们普遍预期利率将上升时，愿意持有货币而不愿意持有债券
- B.人们普遍预期利率将上升时，愿意持有债券而不愿意持有货币
- C.人们普遍预期利率将下降时，愿意持有货币而不愿意持有债券
- D.人们普遍预期利率将下降时，愿意持有债券而不愿意持有货币

【答案】A。流动性陷阱是经济学家凯恩斯提出的一种假说，凯恩斯认为，利率与货币需求呈反比，当利率降到某一低点时，货币需求会无限增大，此时无人愿意持有债券（由于此时债券价格太高，人们都认为债券价格未来会下跌），都愿意持有货币，货币需求就陷阱一样，故 A 项正确、BCD 错误。故本题正确答案选 A。

10. 当经济过热时，政府应采取的财政政策包括（ ）。

- A.减少政府财政支出
- B.扩大财政赤字
- C.减少税收
- D.增加货币供给量

【答案】A。经济过热时政府应采取紧缩性财政政策，增加财政收入、减少财政支出，具体就是增加税收，这样会缩小财政赤字，故 A 项正确，BC 项错误；增加货币供给量属于扩张性的货币政策，故 D 项错误。故本题正确答案选 A。

11. 无差异曲线如果是呈直角形的话，说明（ ）。

- A.消费者对两种商品的主观评价是替代品
- B.消费者对两种商品的主观评价是互补品
- C.消费者对两种商品的主观评价是完全替代品
- D.消费者对两种商品的主观评价是完全互补品

【答案】D。完全互补品是指两种商品必须按固定不变的比例配合同时被使用，无差异曲线为直角形状，故 D 项正确；完全替代品是指两种商品之间的替代比例是固定不变的情

况，相应的无差异曲线是一条斜率不变的直线，故 C 错误；无差异曲线的一般形状是凸向原点，极端情况为完全替代品和完全互补品，故 AB 错误。故本题正确答案选 D。

12. 规模报酬递增是在下述哪一种情况下发生的？（ ）。

- A. 按比例连续增加各种生产要素
- B. 不按比例连续增加各种生产要素
- C. 连续投入某种生产要素而保持其它生产要素不变
- D. 上述都正确

【答案】A。规模报酬是指其他条件不变时，企业内部各种生产要素按相同比例变化所带来的产量变化，故 A 项正确；B 项是规模经济，C 项是边际报酬，故 BCD 错误。故本题正确答案选 A。

13. 对于向上倾斜的需求曲线而言，（ ）。

- A. 收入效应肯定大于替代效应，且商品肯定是正常商品
- B. 收入效应的大小肯定和替代效应的大小相同
- C. 商品肯定是低档品，并且收入效应肯定比替代效应大
- D. 以上都不对

【答案】C。向上倾斜的需求曲线表明随着价格的升高，人们对该商品的需求数量增加，这说明替代效应和收入效应相加的总效应与价格是同方向变动的，任何商品的替代效应都与价格反方向变动，并且收入效应的作用大于替代效应，故该商品属于特殊的低档品，故 C 项正确，ABD 错误，故本题正确答案选 C。

14. 价格变动影响对总收益的影响取决于（ ）。

- A. 需求收入弹性
- B. 供给数量弹性
- C. 供给价格弹性
- D. 需求价格弹性

【答案】D。需求价格弹性，富有弹性的，厂商收益 TR 与价格 P 成反方向变动，降价增加厂商销售收入，涨价减少收入，缺乏弹性的，厂商收益 TR 与价格 P 成同方向变动。降价减少厂商销售收入，涨价增加收入，因此需求价格弹性影响总收益，D 项正确；需求收入弹性表示在一定时期内消费者对某种商品的需求量的变动对消费者收入变动的反应程度，故

排除 A 项；没有供给的数量弹性，故排除 B 项；供给的价格弹性是供给量变动率对价格变动率的敏感程度，对总收益无影响，故排除 D 项。故本题正确答案选 D。

15. 不论在何种市场上，企业实现利润最大化的决策原则都是（ ）。

- A. 边际收益等于边际成本
- B. 边际收益大于边际成本
- C. 价格大于平均成本
- D. 劳动边际产量为零

【答案】A。利润最大化要求边际收益等于边际成本，故 A 项正确；当边际收益大于边际成本时，厂商会继续生产该产品，且利润随着产量的增加会继续上升，但未达到最大，故 B 项错误；当价格大于平均成本时，厂商的经济利润大于 0，但也未达到最大，故 C 项错误；当劳动边际产量为零时，总产量达到最大，并不意味着企业实现利润最大化，故 D 项错误。故本题正确答案选 A。

16. “挤出效应”发生于（ ）。

- A. 货币供给减少使利率提高，挤出了对利率敏感的私人部门支出
- B. 私人部门增税，减少了私人部门的可支配收入和支出
- C. 所得税的减少，提高了利率，挤出了对利率敏感的私人部门支出
- D. 政府支出减少，引起消费支出下降

【答案】C。“挤出效应”是指由于国家投资的增加导致利率上升，进而挤占了私人投资，由此可知，C 项最为符合。答案选 C。“挤出效应”发生于财政政策下，政府支出的增加使得利率提高，而不是货币供给的减少，A 选项错误。“挤出效应”并不是私人部门增税，而是政府部门支出的增加，B 选项错误。“挤出效应”是政府支出的增加而不是减少引起了消费支出的增加，D 选项错误。故本题正确答案选择 C。

17. 下列关于总供给曲线说法不正确的是（ ）。

- A. 古典主义短期总供给曲线是一条平行线
- B. 凯恩斯主义的短期总供给曲线向右上方倾斜
- C. 极端凯恩斯主义短期总供给曲线是一条平行线
- D. 凯恩斯主义的长期总供给曲线是一条垂直线

【答案】A。古典经济学家认为劳动力市场会像其他竞争性市场一样会迅速出清，不存在工资黏性的问题，所以即使在短期仍然处于充分就业的状态，所以古典主义短期总供给曲线是一条垂直线，BCD 均正确。A 选项错误，故本题正确答案选 A。

18. 以下关于需求价格弹性的影响因素说法中，错误的是（ ）。

- A. 一种商品若有许多相近的替代品，那么这种商品的需求价格弹性大
- B. 一种商品如果是生活基本必需品，其需求弹性就大
- C. 一种商品的用途越多，它的需求弹性就越大，反之就缺乏弹性
- D. 时间越短，商品的需求弹性就越缺乏

【答案】B。影响商品需求价格弹性的因素有：①该商品的替代品的种类多少和可替代程度大小。替代品越多或可替代程度越大，弹性越大；②购买该商品的支出在消费者总的支出中所占比例大小。购买该商品的支出占消费者总支出的比例越大，弹性越大，如奢侈品；③该商品在满足消费者欲望中的重要性。该商品对消费者越重要，弹性越小，例如生活必需品；④该商品用途的多少。该商品用途越多，弹性越大；⑤该商品价格变动后所考察的消费者调节需求量的时间长短。所考察的调节时间越长，弹性越大，故 B 项正确、ACD 错误。故本题正确答案选 B。

19. 石油、通讯行业最接近以下哪种市场？（ ）

- A. 完全竞争
- B. 垄断竞争
- C. 寡头垄断
- D. 完全垄断

【答案】C。本题考察各种市场的代表行业。石油、通讯行业在整个市场中仅有为数不多的几家供应商，属于寡头垄断市场，所以 C 项是正确的。完全竞争市场有许多买者和卖者，所以 A 错，垄断竞争市场的厂商也比较多，所以 B 错，完全垄断市场中有且只有一家厂商，所以 D 错，故本题正确答案选 C。

20. 经济租金是要素收入（或价格）的一个部分，经济租金等于要素收入与其（ ）之差。

- A. 显性成本
- B. 机会成本
- C. 隐性成本

D.可变成本

【答案】B。经济租金是要素收入（或价格）的一个部分，经济租金等于要素收入与其机会成本之差，所以 B 选项正确。显性成本是厂商在生产要素市场的实际可见支出，A 选项错误。隐性成本是厂商拥有的且被用于该企业生产过程的那些生产要素的价格。包括自有资金、土地、房子、企业家才能等，所以 C 选项错误。可变成本是随产量变动而变动的那部分成本，如原材料、燃料和动力以及生产工人的工资费用，所以 D 选项错误。故本题正确答案选 B。

21. 在充分就业时，总供给曲线是垂直线，紧缩的财政政策将（ ）。

- A.降低价格和实际产出水平
- B.对价格和实际产出无影响
- C.降低价格水平但对实际产出无影响
- D.提高实际产出水平但对价格无影响

【答案】C。如果总供给曲线是垂直的，紧缩型的财政政策会导致 AD 曲线的左移，将降低价格水平，但是实际产出不受影响，故 C 项正确，ABD 项错误。故本题正确答案选 C。

22. 若 X 和 Y 两产品的交叉弹性是-2，则（ ）。

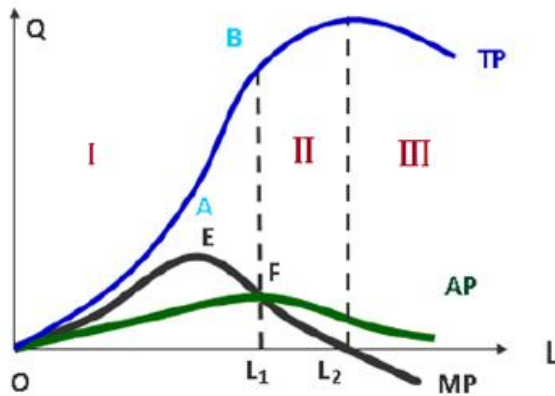
- A.X 和 Y 是替代品
- B.X 和 Y 是正常商品
- C.X 和 Y 是劣质品
- D.X 和 Y 是互补品

【答案】D。如果 X、Y 两商品之间互为互补品，则 $e_{xy} < 0$ ，符合题意，故 D 项正确；如果 X 和 Y 是替代品，则 $e_{xy} > 0$ ，与题干不符，故 A 项错误；已知 X 和 Y 两产品的交叉弹性，并不能确定 X 和 Y 是正常商品还是劣质品，故排除 BC。故本题正确答案选 D。

23. 根据可变要素的总产量曲线，平均产量曲线和边际产量曲线之间的关系，可将生产划分为几个不同阶段，任何理性的生产者都会将生产选择在（ ）。

- A.第一阶段
- B.第二阶段
- C.第三阶段
- D.第四阶段

【答案】B。经过 AP 和 MP 的交点、MP 为 0 的点且与 L 轴垂直的两条线将生产划分为三个阶段（如下图）。在第二阶段，总产量达到最大值，因此理性的生产者都将会将生产选择在第二阶段，故 B 项正确、ACD 错误。故本题正确答案选 B。



24. 下列对垄断企业和完全竞争企业的描述中，不正确的是（ ）。

- A. 都试图最大化利润
- B. 都把产量确定在边际收益等于边际成本那一点
- C. 都面对一条完全有弹性的需求曲线
- D. 如果边际成本超过边际收益，都将减少生产

【答案】C。完全竞争市场单个厂商的需求曲线是一条与横轴平行的水平线，具有完全弹性，而垄断企业的需求曲线比较陡峭，弹性较小，故 C 项说法错误，符合题干要求；无论完全竞争还是垄断企业在生产过程中都追求利润最大化，故 A 项正确；无论在什么市场类型，厂商都根据边际收益等于边际成本的原则来确定生产，故 B 项正确；如果 $MR < MC$ ，企业会减少生产直到 $MR = MC$ ，如果 $MR > MC$ 企业会扩大生产直到 $MR = MC$ ，故 D 项正确。本题选非，故本题正确答案选 C。

25. 某工人在工资率为每小时 10 元的时候每周收入 400 元，每小时 15 元的时候每周收入 550 元，由此可以断定（ ）。

- A. 收入效应起着主要作用
- B. 替代效应起着主要作用
- C. 收入效应和替代效应都没有发生作用
- D. 无法确定

【答案】A。收入效应是指当工资率越高劳动者减少劳动时间仍然可维持较高的生活水平时，劳动者就越倾向于保持和享用更多的闲暇，因而工资率的上升不会使劳动者增加劳动

供给。替代效应是指当工资率上涨时，单位时间所获得的收入增加，劳动者为获得更多的收入，宁愿牺牲闲暇，增加劳动量以多获得工资收入。在每小时 10 元时，工人工作 40 小时，当每小时 15 元时，工人只工作了 36.7 小时。工作时间缩短说明 550 元已经满足了工人的收入愿望，所以他不会再更多地去延长工作时间，主要是收入效应起作用，故 A 项正确。BCD 都与上述推论相悖，故予以排除。故本题正确答案选 A。

26. 某企业发现，在现有的技术条件下，劳动与资本的边际产量之比高于劳动和资本的价格之比，则说明（ ）。

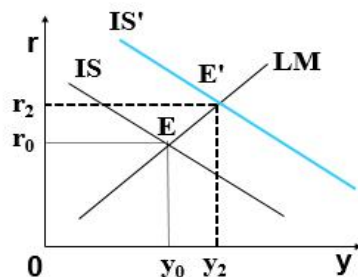
- A. 该企业只要愿意多投入成本就可能取得更多的产量
- B. 只要资本的价格下降，以同样的成本就可以取得更多的产量
- C. 以同样的成本增加劳动的投入，减少资本的投入，就可以取得更多的产量
- D. 以同样的成本减少劳动的投入，增加资本的投入，就可以取得更多的产量

【答案】C。劳动与资本的边际产量之比高于劳动和资本的价格之比，说明在成本既定的情况下，增加同样单位的劳动带来的产量大于资本带来的产量，因此要增加劳动，故 C 项正确，ABD 错误。故本题正确答案选 C。

27. 根据 IS-LM 模型，税收降低会导致（ ）。

- A. 产出下降
- B. 通货膨胀率升高
- C. 利率升高
- D. 失业升高

【答案】C。税收降低会导致 IS 曲线向右移动，LM 曲线不变，因此新的均衡点由 E 到 E'，导致利率升高，收入增加，故 C 项正确，A 项错误；BD 是无关项，故 BD 错误。故本题正确答案选 C。



28. 用收入法计算的 GDP 等于 ()。

- A. 消费+投资+政府支出+净出口
- B. 工资+利息+租金+利润+间接税
- C. 工资+利息+租金+利润+间接税+折旧
- D. 工资+利息+中间产品+间接税+利润

【答案】C。用收入法核算国内生产总值时： $GDP=工资+利息+利润+租金+间接税和企业转移支付+折旧+统计误差$ ，故 C 项正确；用支出法核算的 $GDP=消费+投资+政府支出+净出口$ ，故 A 项错误。故本题正确答案选 C。

29. 如果连续地增加某种生产要素，而其他生产要素投入不变，在总产量达到最大时，边际产量曲线 ()。

- A. 与横轴相交
- B. 经过原点
- C. 与平均产量曲线相交
- D. 与纵轴相交

【答案】A。根据总产量和边际产量之间的关系，当 $MPL>0$ 时，TPL 递增； $MPL<0$ 时，TPL 递减； $MPL=0$ ，TPL 达到最大值。故当总产量达到最大时，该生产要素的边际产量为零，所以边际产量曲线与横轴相交，故 A 项正确，BCD 错误。故本题正确答案选 A。

30. 在一些国家，不少家庭医生即上门为社区里的富人服务又上门为社区里的穷人服务，不过对富人的收费高于穷人，这是因为 ()。

- A. 富人的需求弹性大于穷人的需求弹性
- B. 富人的需求弹性小于穷人的需求弹性
- C. 两个市场需求弹性相等
- D. 以上都正确

【答案】B。题目中，医生上门看病这种服务对富人而言，占消费总支出的比重比较小；对于穷人而言，占消费总支出的比重比较大。该服务对富人来说是一种生活必需品，对穷人则是一种奢侈品，所以穷人的需求弹性高于富人的需求弹性，故 B 项正确、ACD 错误。故本题正确答案选 B。

多项选择题

31. 一般认为, 边际报酬递减规律并不是根据经济学中的某种理论或原理推导出来的规律, 它只是根据对实际的生产和技术情况观察所做出的经验性的概括, 反映了生产过程中的一种纯技术关系。该规律只有在 () 具备时才会发生作用。

- A. 可变的生产要素投入量必须超过一定点
- B. 生产技术水平既定不变
- C. 投入要素是完全替代品
- D. 一种投入要素可变外, 其他投入要素均固定不变

【答案】ABD。边际报酬递减规律只有在下述条件具备时才会发生作用: ①生产技术水平既定不变; ②除一种投入要素可变外, 其他投入要素均固定不变; ③可变的生产要素投入量必须超过一定点, 即投入要素不是完全替代品。故 ABD 项正确, C 项错误。故本题正确答案选 ABD。

32. 近年来, 在经济建设领域, 我国坚持稳中求进的工作总基调, 坚持实施积极的财政政策和稳健的货币政策, 着力创新和完善宏观调控, 着眼“放水养鱼”、增强后劲。以下哪些属于积极的财政政策的具体措施? ()

- A. 实行结构性减税
- B. 降低存款准备金率
- C. 提高存贷款利率
- D. 增加财政支出

【答案】AD。积极的财政政策主要是指增加支出或减少税收, AD 正确。BC 属于货币政策, 不选。故本题正确答案选 AD。

33. 无差异曲线的特点表现在 ()。

- A. 无差异曲线是一条向右下方倾斜的曲线
- B. 在同一个平面上可以有无数条无差异曲线
- C. 无差异曲线不能相交
- D. 无差异曲线凸向原点

【答案】ABCD。无差异曲线的特点包括: 无差异曲线是一条向右下方倾斜的曲线; 在同一个平面上可以有无数条无差异曲线; 无差异曲线不能相交; 无差异曲线凸向原点, 故 ABCD 都正确。故本题正确答案选 ABCD。

34. 某种商品的供给曲线的移动是由于 ()。

- A. 商品价格的变化
- B. 生产技术条件的变化
- C. 生产这种商品的成本的变化
- D. 政府向生产企业提供补贴

【答案】BCD。商品价格的变化导致的是商品供给量的变化，而非供给曲线的变化，故 A 选项错误；其余各项的变化都会引起供给曲线的变化，故 BCD 正确。故本题正确答案选 BCD。

35. 导致总需求曲线向右移动的因素有（ ）。

- A. 名义货币供给量增加
- B. 一般价格水平上升
- C. 政府购买支出增加
- D. 税收增加
- E. 税收减少

【答案】ACE。扩张性的财政政策或扩张性的货币政策都会使总需求曲线向右移动，故 ACE 项正确；一般价格水平上升和税收增加都属于都是导致总需求曲线左移，故 BD 项错误。故本题正确答案选 ACE。

36. “外部影响”是造成市场机制低效率的一个重要原因。对付外部影响通常有三个办法（ ）。

- A. 税收和补贴
- B. 企业合并
- C. 明确财产权
- D. 限制垄断价格

【答案】ABC。“外部影响”是造成市场机制低效率的一个重要原因。对付外部影响通常有三个办法：税收和补贴、企业合并和明确财产权。最后这个办法的依据是“科斯定理”。ABC 正确。垄断是市场失灵的一个重要原因，政府对付垄断的办法包括限制垄断价格和反垄断法等等。D 项错误。故本题正确答案选 ABC。

37. 需求曲线之所以向右下方倾斜，是因为价格的变化具有（ ）效应。

- A. 收入
- B. 替代

- C.递减
- D.规模经济
- E.导向

【答案】AB。需求曲线向右下方倾斜的原因是由于价格具有收入和替代效应，故 AB 正确；对于同一种商品，商品的价格与需求量成反比，但题干问的是价格变化具有何种效应，故 C 项排除；规模经济属于生产理论，需求是对消费者而言的，故 D 项排除；需求曲线里的价格变化不存在导向效应，故 E 项错误。故本题正确答案选 AB。

38. 凯恩斯关于货币需求的动机包括（ ）。

- A.交易动机
- B.财富动机
- C.投机动机
- D.谨慎动机

【答案】ACD。凯恩斯关于货币需求的动机包括，交易动机、投机动机以及谨慎动机三个，其中交易动机和谨慎动机和收入正相关，而投机动机和利率负相关。ACD 三项说法正确。B 选项说法错误。故本题正确答案选择 ACD。

39. 当社会总供给大于社会总需求时，为实施宏观调控而选择的财政政策工具包括（ ）。

- A.减少财政支出
- B.增加财政支出
- C.降低税率
- D.提高税率
- E.减少财政补贴

【答案】BC。当社会总供给大于社会总需求时，即总需求不足，应当采取扩张性的财政政策，增加政府支出，减少税收收入，故 BC 正确，ADE 错误。故本题正确答案选 BC。

40. 一般来说，衡量通货膨胀的常用指标（ ）。

- A.消费者物价指数
- B.生产者物价指数
- C.国内生产总值
- D.国内生产总值物价平减指数

E.居民生活消费指数

【答案】ABD。衡量通货膨胀的常用指标有三个：分别是消费者物价指数、生产者物价指数以及国内生产总值物价平减指数，故 ABD 正确、CE 错误。故本题正确答案选 ABD。

财会习题

单项选择题

1. 甲公司为增值税一般纳税人，2019年6月1日对外销售一批商品，开具增值税专用发票上注明的金额为50万元，增值税税额为6.5万元。代购货单位垫付相关的运费3万元，增值税税额0.27万元。甲公司因销售该批货物收取的包装物押金10万元，款项尚未收到。则甲公司因销售该批商品确认的应收账款的金额为（ ）万元。

- A.53
- B.59.77
- C.56.5
- D.59.5

【答案】B。甲公司因销售该批货物收取的包装物押金计入其他应付款，不通过“应收账款”科目核算，所以甲公司因销售该批商品确认的应收账款的金额=50+6.5+3+0.27=59.77（万元），B正确，ACD均错误。故本题正确答案选B。

2. 下列各项中，关于收回后用于连续生产应税消费品的委托加工物资在加工过程中发生的相关费用，不应计入委托加工物资成本的是（ ）。

- A.发出加工物资应承担的材料超支差异
- B.由委托方代缴的消费税
- C.企业支付给受托方的加工费
- D.企业发出物资支付的运费

【答案】B。委托加工物资收回后用于继续生产应税消费品，消费税不计入收回委托加工物资成本，应记入“应交税费——应交消费税”科目借方，B正确，ABD错误。故本题正确答案选B。

3. DA公司采用售价金额核算法进行核算，2019年3月1日库存商品的进价成本为500000元，售价总额为700000元，本月购进该商品的进价成本为400000元，售价总额为550000元，本月实现销售收入800000元，则月末结存该商品的实际成本为（ ）元。

- A.224000
- B.576000
- C.324000
- D.30000

【答案】C。商品进销差价率= $[(700000-500000)+(550000-400000)]/(700000+550000) \times 100\%=28\%$ ；本月销售商品应分摊的商品进销差价= $800000 \times 28\%=224000$ （元）；本月销售商品的实际成本= $800000-224000=576000$ （元）；期末结存商品的实际成本= $500000+400000-576000=324000$ （元），选项 C 正确，ABD 错误。故本题正确答案选 C。

4. 企业在现金清查的过程中，如果发现应由责任方赔偿的现金短缺，应计入（ ）。
- A.管理费用
 - B.营业外支出
 - C.其他应收款
 - D.以前年度损益调整

【答案】C。如果发现现金短缺，属于应由责任方赔偿的部分，计入其他应收款；属于无法查明原因的，计入管理费用。不涉及营业外支出和以前年度损益调整科目，C 当选，ABD 错误。故本题正确答案选 C。

5. 企业为了到外地进行临时或零星采购，而汇往采购地银行开立采购专户的款项应计入（ ）。
- A.银行存款
 - B.应付账款
 - C.其他货币资金
 - D.其他应收款

【答案】C。企业为了到外地进行临时或零星采购，而汇往采购地银行开立采购专户的款项属于外埠存款，应记入“其他货币资金——外埠存款”科目核算，选项 C 正确，ABD 错误。故本题正确答案选 C。

6. 应收票据贴现时，贴现息计入（ ）。
- A.银行存款
 - B.财务费用
 - C.原材料

D.材料采购

【答案】B。对于票据贴现，企业通常应按实际收到的金额，借记“银行存款”科目，按应收票据的票面金额，贷记“应收票据”科目，按照其差额，借记或贷记“财务费用”科目，B当选，ACD错误。故本题正确答案选B。

7. 下列各项中，不应通过“其他应收款”科目核算的是（ ）。

- A.租入包装物支付的押金
- B.应向保险公司收取的理赔款
- C.为职工垫付的水电费
- D.为购货方代垫的运杂费

【答案】D。为购货方代垫的运杂费，通过“应收账款”科目核算，D当选，ABD错误。故本题正确答案选D。

8. 为了保证现金的安全完整，企业应当按规定对库存现金进行定期和不定期的清查，一般采用实地盘点法，对于清查的结果应当编制（ ）。

- A.往来款项对账单
- B.银行存款余额调节表
- C.现金盘点报告单
- D.实存账存对比表

【答案】C。为了保证现金的安全完整，企业应当按规定对库存现金进行定期和不定期的清查，一般采用实地盘点法，对于清查的结果应当编制现金盘点报告单，C项正确，ABD错误。故本题正确答案选C。

9. 2019年12月1日，某企业“存货跌价准备——原材料”科目贷方余额为10万元。2019年12月31日，“原材料”科目的期末余额为110万元，由于市场价格有所上升，使得原材料的预计可变现净值为115万元，不考虑其他因素。2019年12月31日原材料的账面价值为（ ）万元。

- A.105
- B.110
- C.115
- D.100

【答案】B。2019年12月31日，原材料成本低于可变现净值，但是以前计提过存货跌价准备，当减值的影响因素消失时，应当将减记的金额在原已计提的存货跌价准备范围内予以恢复。因此应当冲回“存货跌价准备”金额为10万元。2019年12月31日，原材料的账面价值为110（万元），B当选，ACD错误。故本题正确答案选B。

10. 2019年12月，某企业购入一台设备，初始入账价值400万元，设备于当月交付使用，预计使用寿命5年，预计净残值4万元，采用年数总和法计提折旧，不考虑其他因素，2020年该设备应计提折旧额为（ ）万元。

- A.132
- B.160
- C.105.6
- D.96

【答案】A。2019年该固定资产应当计提的折旧金额= $(400-4) \times 5/15=132$ （万元），A当选，BCD错误。故本题正确答案选A。

11. 甲企业2019年5月份发生的下列相关税费中，不应通过“税金及附加”科目核算的是（ ）。

- A.房产税
- B.城市维护建设税
- C.城镇土地使用税
- D.进口应税物资在进口环节交纳消费税

【答案】D。房产税、城镇土地使用税、城市维护建设税计入税金及附加；进口应税物资在进口环节交纳消费税，计入该项物资的成本，D当选，ABC错误。故本题正确答案选D。

12. 某企业资产总额为100万元，发生下列三笔经济业务：①向银行借款25万元存入银行。②用银行存款偿还债务15万元。③收回应收账款6万元存入银行。此三笔业务发生后其资产总额为（ ）。

- A.110万元
- B.116万元
- C.96万元
- D.90万元

【答案】A。业务发生后的资产总额=100+25-15=110（万元）。收回应收账款6万存入银行，应收账款总额减少，银行存款总额增加，资产总额不变，故A选项正确，其余BCD三项计算有误。故本题正确答案选A。

13. 下列会计科目中，不属于资产类的是（ ）。

- A. 应收账款
- B. 坏账准备
- C. 预提费用
- D. 预付账款

【答案】C。预提费用：是指企业按规定预先提取但尚未实际支付的各项费用。就是企业还没支付，但应该要支付的，要记入负债。中国新会计准则已废除该科目，原属于预提费用的业务现应计入“其他应付款”科目，故C选项是本题答案，其余三项都属于资产，故排除。故本题正确答案选C。

14. 试算平衡表是根据（ ）确定的。

- A. 会计科目
- B. 借贷记账法记账规则
- C. 借贷方余额
- D. “利润=收入-费用”恒等式

【答案】B。试算平衡表是根据借贷记账法的记账规则编制。公式：1.全部账户的借方期初余额合计数等于全部账户的贷方期初余额合计数；2.全部账户的借方发生额合计等于全部账户的贷方发生额合计；3.全部账户的借方期末余额合计等于全部账户的贷方期末余额合计，故B选项正确。其余ACD三项都不符合题干。故本题正确答案选B。

15. 负债的形成一定是由于（ ）。

- A. 过去的交易、事项形成的现时义务
- B. 现在的交易、事项形成的未来义务
- C. 过去的交易、事项形成的未来义务
- D. 现在的交易、事项形成的现时义务

【答案】A。负债，是指企业过去的交易或者事项形成的、预期会导致经济利益流出企业的现时义务。负债实质上是企业在一定时期之后必须偿还的经济债务，其偿还期或具体金

额在它们发生或成立之时就已由合同、法规所规定与制约，是企业必须履行的一种义务，故 A 选项正确，其余三项的表述均有错误，故排除，BCD 说法正确。故本题正确答案选 A。

16. 下列关于收入的说法，不正确的是（ ）。

A. 收入与所有者投入资本有关

B. 收入会导致企业所有者权益的增加

C. 收入是企业在日常活动中形成的经济利益的总流入

D. 收入形成的经济利益总流入的形式多种多样，既可能表现为资产的增加，也可能表现为负债的减少

【答案】A。收入是指企业在日常活动中所形成的、会导致所有者权益增加的、非所有者投入资本的经济利益的总流入，包括销售商品收入、劳务收入、让渡资产使用权收入、利息收入、租金收入、股利收入等，但不包括为第三方或客户代收的款项，故 A 选项是本题答案，其余 BCD 三项均是正确的，故排除。故本题正确答案选 A。

17. 在会计核算的基本前提中，界定会计核算和会计信息的空间范围的是（ ）。

A. 会计主体

B. 持续经营

C. 会计期间

D. 货币计量

【答案】A。会计主体是规定会计核算的空间范围，不仅区分自身与其他企业的经济活动，而且区分企业和投资者的经济活动。会计主体是确定会计核算空间范围的基本前提，故 A 选项正确；持续经营、会计分期是时间范围的界定，故 BC 两项错误；货币计量是使会计核算成为可能，故 D 选项错误。故本题正确答案选 A。

18. 企业吸收投资、举借各项借款所收到的现金，在现金流量表中应属于（ ）。

A. 经营活动产生的现金流量

B. 投资活动产生的现金流量

C. 筹资活动产生的现金流量

D. 其他活动产生的现金流量

【答案】C。筹资活动产生的现金流量主要包括吸收投资、发行股票、分配利润、发行债券、偿还债务等流入和流出的现金和现金等价物。因此，吸收投资、举借各项借款所收到的现金属于筹资活动，故 C 选项正确，其余 ABD 三项错误。故本题正确答案选 C。

19. 下列属于企业应收债权的是（ ）。

- A. 应付账款
- B. 预收账款
- C. 其他应收款
- D. 应付利息

【答案】C。应收债权是一种资产，只有其他应收款属于资产，故 C 选项正确。其他 ABD 三项均属于负债，故 ABD 三项错误。故本题正确答案选 C。

20. 某科目的期初余额为 900 元，期末余额为 5000 元，本期减少发生额为 600 元，则本期增加发生额为（ ）元。

- A. 3500
- B. 300
- C. 4700
- D. 5300

【答案】C。本题的考点为会计科目金额的计算。期末余额=期初余额+本期增加发生额-本期减少发生额，本期增加发生额=期末余额-期初余额+本期减少发生额=5000-900+600=4700（元），故 C 选项正确，其余 ABD 三项均有错误。故本题正确答案选 C。

21. 会计科目按提供指标的（ ）分类，可分为总分类科目和明细分类科目。

- A. 结构
- B. 经济内容
- C. 流动性
- D. 详细程度

【答案】D。会计科目按详略程度分，可分为总分类科目和明细分类科目，故 D 选项正确，其余 ABC 三项不符合题干。故本题正确答案选 D。

22. 下列账户中，期末一般没有余额的是（ ）账户。

- A. 生产成本
- B. 应交税费
- C. 制造费用
- D. 累计折旧

【答案】C。制造费用主要指车间的耗费，一般月末都会分配进入在产品当中，故 C 选项正确。A 项生产成本月末可能存在余额，这是期末尚未完工的在产品的价值，故 A 选项错误。B 项应交税费属于负债类账户，月末可能有余额，故 B 选项错误。D 项累计折旧是固定资产的备抵账户，固定资产未被处置前，累计折旧贷方就存在余额，故 D 选项错误。故本题正确答案选 C。

23. 下列各项中属于一个企业的资产类项目的是（ ）。

- A. 预收账款
- B. 应收账款
- C. 预提费用
- D. 资本公积

【答案】B。选项 B “应收账款”属于资产类；选项 D “资本公积”属于所有者权益类。选项 A “预收账款”和选项 C “预提费用”属于负债类。故本题正确答案选 B。

24. 下列选项中，能够通过试算平衡查找的是（ ）。

- A. 重记经济业务
- B. 漏记经济业务
- C. 借贷方向相反
- D. 借贷金额不等

【答案】D。借贷方金额不等可以通过试算平衡查找，故 D 选项为正确答案。试算平衡无法查找重记、漏记、借贷方向相反，故 ABC 都无法通过试算平衡查找。故本题正确答案选 D。

25. 下列表述正确的是（ ）。

- A. 资产借方登记减少
- B. 收入的余额一般在贷方
- C. 负债的余额一般在借方
- D. 费用借方登记增加

【答案】D。费用借方登记增加，贷方登记减少，故 D 选项正确。资产借方登记增加，故 A 项错误；损益类账户期末无余额，故 B 项错误；负债的余额一般在贷方，故 C 项错误。故本题正确答案选 D。

26. 会计的基本职能包括（ ）。

- A.核算与监督
- B.参与经济决策
- C.预测经济前景
- D.评价经营业绩

【答案】A。A选项是会计基本职能，故A选项正确。选项BCD属于会计的拓展职能，故BCD三项错误。故本题正确答案选A。

27. 下列各项中，不符合资产会计要素定义的是（ ）。

- A.原材料
- B.委托加工物资
- C.盘亏的固定资产
- D.尚待加工的半成品

【答案】C。“盘亏的固定资产”预期不会给企业带来经济利益，不属于企业的资产，故C选项是本题答案，其余ABD三项都符合资产定义，故ABD三项排除。故本题正确答案选C。

28. 在下列项目中，与“制造费用”科目应归属于同一类的是（ ）。

- A.无形资产
- B.管理费用
- C.生产成本
- D.资产减值损失

【答案】C。制造费用属于成本类科目，故C选项正确。A是资产类科目，故A选项错误。BD是损益类科目，故BD两项错误。故本题正确答案选C。

29. 下列各项中，属于总分类会计科目的是（ ）。

- A.应交增值税
- B.应付账款
- C.专利权
- D.专用设备

【答案】B。选项B应付账款为总分类会计科目，故B选项正确。选项A是“应交税费-应交增值税”，选项C是“无形资产-专利权”，选项D是“固定资产-专用设备”，与此可见选项ACD项都是明细分类会计科目，故ACD三项排除。故本题正确答案选B。

30. 账户的开设依据是（ ）。

- A. 会计对象
- B. 会计科目
- C. 会计要素
- D. 会计方法

【答案】B。会计科目是账户的名称，也是设置账户的依据。故选 B。选项 A 会计对象主要是核算和监督的内容，不是开设账户的依据；选项 C 是会计要素是对会计对象所作的基本分类，是会计核算对象的具体化，是用于反映会计主体财务状况和经营成果的基本单位，也不是开设账户的依据。选项 D 会计方法并非账户开设的依据。故本题正确答案选 B。

31. 符合资产类账户记账规则的是（ ）。

- A. 增加记借方
- B. 增加记贷方
- C. 减少记借方
- D. 期末若有余额，在贷方

【答案】A。资产类账户借方登记增加，贷方登记减少，期末若有余额一般在借方，故 A 项正确，D 项错误。账户结构中，资产，成本，费用类账户借方登记增加，贷方登记减少；负债，所有者权益，收入类账户贷方登记增加，借方登记减少。故本题 B，C 错误。故本题正确答案选 A。

32. 应付账款账户期初贷方余额为 2000 元，本期贷方发生额为 5000 元，本期贷方余额为 2000 元，该账户借方发生额为（ ）元。

- A. 借方 5000
- B. 借方 3000
- C. 借方 2000
- D. 贷方 2000

【答案】A。应付账款属于负债类账户，贷方期末余额=贷方期初余额+贷方本期发生额-借方本期发生额；所以本期借方发生额=贷方期初余额+贷方本期发生额-贷方期末余额=2000+5000-2000=5000（元）。其他选项 BCD 计算结果均不正确。故本题正确答案选 A。

33. 余额试算平衡法下的平衡关系有（ ）。

- A. 全部账户借方本期发生额合计=全部账户贷方本期发生额合计

- B.全部账户借方期初余额合计=全部账户贷方期末余额合计
- C.借方科目金额=贷方科目金额
- D.全部账户借方期末余额合计=全部账户贷方期末余额合计

【答案】D。D选项是余额试算平衡法下的平衡关系，故D选项正确。A项属于发生额平衡法下的公式，故A选项错误；B项全部会计科目的期初（末）借方余额合计=全部科目的期初（末）贷方余额合计，故B选项错误；C项全部账户借方期初（末）余额合计=全部账户贷方期初（末）余额合计，故C选项错误。故本题正确答案选D。

34. 假定某企业应收账款账户期初余额为10000元，本期借方发生额为30000元，贷方发生额为10000元，则期末余额为（ ）。

- A.借方 10000
- B.贷方 30000
- C.借方 30000
- D.都不正确

【答案】C。应收账款是资产类科目，余额在借方，期末余额=期初余额+本期借方发生额-本期贷方发生额=10000+30000-10000=30000元，故C选项正确，其余ABD三项计算有误。故本题正确答案选C。

35. 某企业上年末资产总额为900万元，所有者权益为500万元，假设该企业今年向银行借款100万元用于购置设备，则该企业的负债总额为（ ）万元。

- A.400
- B.900
- C.500
- D.100

【答案】C。根据会计恒等式“资产=负债+所有者权益”，得到上年末企业的负债总额=900-500=400（万元），向银行借款100万元购置设备，引起资产和负债同时增加100万元，则企业的负债总额为500万元，故C选项正确，ABD三项计算有误。故本题正确答案选C。

36. 会计主体是指会计所服务的（ ）。

- A.特定单位
- B.投资者
- C.债权人

D.管理者

【答案】A。会计是以货币为主要计量单位，反映和监督一个特定经济主体经济活动的经济管理工作。会计主体即为会计工作的空间范围，故 A 选项正确。会计不为了某个人而服务，故 BCD 三项错误。故本题正确答案选 A。

37. 流动负债是指可以在（ ）偿还的现时义务，包括短期借款、应付账款等。

A.一年内

B.一年或超过一年的一个营业周期内

C.一个营业周期内

D.一年或超过一年的一个营业周期以上

【答案】B。流动负债是指可以在一年或超过一年的一个营业周期内偿还的现时义务，包括短期借款、应付账款等，故 B 选项正确。AC 两项只是概念的一部分，故 AC 两项错误。D 选项应该是一个营业周期内，故 D 选项错误。故本题正确答案选 B。

38. 下列有关会计方面的表述中，不正确的是（ ）。

A.经济越发展，会计越重要

B.会计按其报告对象不同，分为财务会计与管理会计

C.会计就是记账、算账和报账

D.会计是以货币为主要计量单位，反映和监督一个单位经济活动的一种经济管理活动

【答案】C。会计是以货币作为主要计量单位，运用专门方法，核算和监督一个单位经济活动的一种经济管理工作。会计的本质是管理活动，而不仅仅是记账、算账和报账，故 C 选项正确，D 选项排除。A 选项随着经济的发展会计的地位越来越重要，故 A 选项排除。B 选项会计按其报告对象不同，分为财务会计与管理会计两类，故 B 选项排除。故本题正确答案选 C。

39. 下列关于试算平衡法的表述中，不正确的是（ ）。

A.包括发生额试算平衡法和余额试算平衡法

B.试算不平衡，表明账户记录肯定有错误

C.试算平衡，说明账户记录一定正确

D.发生额试算平衡法的理论依据是“有借必有贷、借贷必相等”

【答案】C。试算平衡，并不能说明会计科目记录绝对正确，因为有些错误并不会影响借贷双方平衡关系，故 C 选项是本题答案。A 选项试算平衡分为两种，发生额平衡和余额

平衡，故 A 选项排除。B 选项试算平衡如果不平衡肯定说明有错误，故 B 选项排除。D 选项余额平衡的依据是会计等式，发生额试算平衡法的理论依据是记账规则，故 D 选项排除。故本题正确答案选 C。

40. 下列关于会计要素的表述中，正确的是（ ）。

- A. 负债是企业承担的潜在义务
- B. 资产一定是企业拥有的
- C. 净利润是企业利润总额减去所得税之后的数字
- D. 收入和利得的唯一区别就在于收入是日常活动形成的，而利得是非日常活动形成的

【答案】C。净利润=利润总额-所得税，故选项 C 正确；负债是企业承担的现时义务，选项 A 错误；资产可能是企业拥有的，也可能是企业控制的，选项 B 错误。收入是日常活动形成的，利得是非日常活动形成的，收入是经济利益的总流入，利得是经济利益的净流入，选项 D 错误。故本题正确答案选 C。

41. 利润表的基本要素不包括（ ）。

- A. 负债
- B. 利润
- C. 收入
- D. 费用

【答案】A。会计报表要素：资产、负债、所有者权益、收入、费用、利润，资产、负债、所有者权益构成资产负债表，故 A 选项是本题答案。收入、费用、利润构成利润表，故 BCD 三项排除。故本题正确答案选 A。

42. 下列各项中，应计入管理费用的是（ ）。

- A. 预计产品质量保证损失
- B. 聘请中介机构年报审计费
- C. 专设售后服务网点的职工薪酬
- D. 企业负担的生产职工养老保险费

【答案】B。选项 B，计入管理费用，故 B 选项正确。选项 A、C，计入销售费用，故 AC 两项错误；选项 D，计入生产成本，故 D 选项错误。故本题正确答案选 B。

43. 下列各项中，会导致企业资产负债率下降的是（ ）。

- A. 收回应收款项

- B.计提资产减值准备
- C.盈余公积转增资本
- D.接受股东追加投资

【答案】D。资产负债率=负债/资产；选项D，使得资产增加，所有者权益增加，降低资产负债率，故D选项正确。选项A，资产总额不发生变动，不影响资产负债率，故A选项错误；选项B，使得资产价值减少，增加资产负债率，故B选项错误。选项C，属于所有者权益内部的此增彼减，不影响资产负债率，故C选项错误。故本题正确答案选D。

44. 下列各项中，不属于留存收益的是（ ）。

- A.资本溢价
- B.任意盈余公积
- C.未分配利润
- D.法定盈余公积

【答案】A。留存收益包括盈余公积和未分配利润，盈余公积包括法定盈余公积和任意盈余公积，故A选项是本题答案，其余BCD三项排除。故本题正确答案选A。

45. 甲、乙公司均为增值税一般纳税人，使用的增值税税率为17%，甲公司接受乙公司投资转入的原材料一批，账面价值100000元，投资协议约定价值120000元，假定投资协议约定的价值与公允价值相符，该项投资没有产生资本溢价。甲公司实收资本应增加（ ）元。

- A.100000
- B.117000
- C.120000
- D.140400

【答案】D。甲公司实收资本增加=120000×(1+17%)=140400(元)，故D选项正确，其余ABC三项计算有误。故本题正确答案选D。

46. 甲公司目前资本总额1000万元，其中普通股500万元，长期借款200万元，公司债券308万元，计划通过筹资来调节资本结构，目标资本结构为普通股50%，长期借款25%，公司债券5%，追加筹资800万元，个别资本成本率预计分别为：银行贷款6%，公司债券10%普通股12%，以新增资金额占比作为权重，则追加的800万元筹资的边际成本是（ ）。

- A.9.33%

- B.9.75%
- C.10%
- D.10.2%

【答案】C。边际资本成本是企业追加筹资的资本成本，筹资组合方案时，边际资本成本采用目标价值权数计算，本题中边际资本成本= $(50\% \times 12\%) + (25\% \times 6\%) + (25\% \times 10\%) = 10\%$ ，选项 ABD 均计算错误，故本题正确答案选 C。

47. 采用销售百分比法预测资金需求量时，（ ）对预测结果几乎没有影响。
- A.应收账款
 - B.存货
 - C.短期借款
 - D.应交税金

【答案】C。销售百分比法预测资金需求时，经营性资产与经营性负债的差额通常与销售额保持稳定的比例关系。经营性资产通常包括库存现金、应收账款（选项 A）、存货（选项 B）等，经营性负债包括应付票据、应付账款、应交税金（选项 D）等，不包括短期借款、短期融资费用、长期负债等筹资性负债。本题为选非题，故本题正确答案选 C。

48. 运用成本模型和随机模型计算最佳现金持有量时，都会涉及到现金的（ ）。
- A.机会成本
 - B.生产成本
 - C.短缺成本
 - D.管理成本

【答案】A。在成本分析模式下，确定最佳现金持有量的相关成本主要有机会成本（选项 A）和短缺成本（选项 C）；在随机模式下确定最佳现金持有量的相关成本包括机会成本（选项 A）和交易成本。故本题正确答案选 A。

49. 表示资金时间价值的利息率是（ ）。
- A.没有风险和没有通货膨胀条件下社会平均利润率
 - B.银行同期贷款利率
 - C.银行同期存款利率
 - D.加权资本成本率

【答案】A。本题考查的是资金时间价值的量的规定性。资金时间价值是没有风险和没有通货膨胀条件下的社会平均利润率。资金的时间价值，机会成本的体现，提示企业的管理者，使用资金是要付出代价的。纯粹利率，也就是实际利率，是名义利率扣除通货膨胀率的影响。而资金的时间价值就是实际利率，即纯粹利率就是资金的时间价值。选项 BCD 均不符合题意，故本题正确答案选 A。

50. 企业在经营决策时对经营成本中固定成本的利用率为（ ）。

- A. 财务杠杆
- B. 总杠杆
- C. 联合杠杆
- D. 经营杠杆

【答案】D。经营风险，是指因经营上的原因导致企业息税前利润变动的风险。即由于经营杠杆作用，当销售额下降时，企业息税前利润下降得更快，从而给企业带来的风险。选项 ABC 均不符合题意，故本题正确答案选 D。

51. 下列各项中，不属于投资项目现金流出的是（ ）。

- A. 固定资产投资
- B. 折旧与摊销
- C. 营运成本
- D. 无形资产投资

【答案】B。本题考查投资项目现金流出包含的内容并选错误项。折旧与摊销属于非付现成本，不会引起现金流出企业，所以不属于投资项目现金流出量内容。A 项：项目前期购置固定资产会导致现金流出。D 项：投资无形资产会导致现金流出。C 项：前期垫支的营运资金会导致现金流出，在项目期末通常可收回。故本题正确答案选 B。

52. 不属于存货的储存变动成本的是（ ）。

- A. 存货占用资金的应急利息
- B. 存货的破损变质损失
- C. 存货的保险费用
- D. 拖欠发货损失

【答案】D。拖欠发货损失，是企业的短缺成本，不是存货的储存变动成本，D 正确，选项 ABC 不符合题意，故本题正确答案选 D。

53. 不属于企业筹资成本内容的是（ ）。

- A.向材料供应商预付的购货定金
- B.向银行支付的借款利息
- C.向股东支付的股利
- D.向相关机构支付的发行的债券的手续费用

【答案】A。筹资成本内容主要是债权与股权筹资成本，A 项购货定金并不是筹资成本，选项 BCD 属于筹资成本内容，故本题正确答案选 A。

54. 与发行债券相比，发行普通股票筹资的优点在于（ ）。

- A.可以稳定公司的控制权
- B.可以形成稳定的资本基础
- C.可以降低资本成本
- D.可以利用财务杠杆

【答案】B。发行普通股股票筹资的优点是形成稳定的资本基础，B 项正确，发行股票分散公司的控制权，A 项不正确；增加了资本成本，C 项不正确；债权筹资才会产生财务杠杆，D 项不正确。故本题正确答案选 B。

55. 关于杠杆原理的说法错误的是（ ）。

- A.经营杠杆是指固定成本不变的条件下，业务量变动对经营利润的影响程度
- B.财务杠杆是指债务利息不变的条件下，对投资者收益的影响程度
- C.复合杠杆是经营杠杆和财务杠杆综合作用效果
- D.鉴于杠杆越大，风险越大，故应尽可能降低杠杆

【答案】D。杠杆作用有其特定的适用情况，并非一味的降低杠杆，D 项不正确。本题为选非题，故本题正确答案选 D。

56. 关于企业的资本成本说法错误的是（ ）。

- A.资本成本是企业筹资和使用资本而承付的代价
- B.向银行支付的借款利息和向股东支付的股利等都构成企业的资本成本
- C.从投资者的角度看，企业的资本成本也是投资者要求的必要报酬
- D.所有的资本成本都构成企业产品的成本

【答案】D。并非所有的资本成本都构成产品成本，例如一般经营过程中借款利息费用化存在计入财务费用的部分。故本题正确答案选 D。

57. 在不考虑筹款限制的前提下，下列筹资方式中个别资本成本最高的通常是（ ）。

- A. 发行普通股
- B. 留存收益筹资
- C. 发行优先股
- D. 发行公司债券

【答案】A。留存收益的资本成本与普通股类似，只不过没有筹资费，由于普通股的发行费用较高，所以其资本成本高于留存收益的资本成本，且高于债务筹资的资本成本。故选项 A 正确；选项 B 错误；股权的筹资成本大于债务的筹资成本，主要是由于股利从税后净利润中支付，不能抵税，而债务资本的利息可在税前扣除，可以抵税；故选项 D 错误；优先股股东投资风险小，要求的回报低，普通股股东投资风险大，要求的回报高，故选项 C 错误。故本题正确答案选 A。

58. 甲公司筹资，长期借款 700 万元以下，资本成本 10%，超过 700 万元，资本成本为 14%，发行债券，资本成本 12%，发行普通股，资本成本 16%，现该公司，需筹资 2000 万元，长期借款占 40%，债券占 10%，普通股占 50%，该公司边际资本成本为（ ）。

- A. 26%
- B. 28%
- C. 37%
- D. 14.8%

【答案】D。甲公司筹资 2000 万元，长期借款占 40%，债券占 10%，普通股占 50%，所以长期借款筹资 800 万元，债券 200 万元，普通股 1000 万元，其个别资本成本分别为 14%、12%和 16%，边际资本成本为 $40\% \times 14\% + 10\% \times 12\% + 50\% \times 16\% = 14.8\%$ ，选项 ABC 均计算错误，故本题正确答案选 D。

59. 当一些债务即将到期时，企业虽然有足够的偿债能力，但为了保持现有的资本结构，仍然举新债还旧债。这种筹资的动机是（ ）。

- A. 扩张性筹资动机
- B. 支付性筹资动机
- C. 调整性筹资动机
- D. 创立性筹资动机

【答案】C。调整性筹资动机，是指企业因调整资本结构而产生的筹资动机。当一些债务即将到期，企业虽然有足够的偿债能力，但为了保持现有的资本结构，仍然举借新债以偿还旧债，这是为了调整资本结构，故选项 C 正确；选项 A，扩张性筹资动机指企业因扩大经营规模或对外投资需要而产生的筹资动机。可排除；选项 B，支付性筹资动机，是指为了满足经营业务活动的正常波动所形成的支付需要而产生的筹资动机。可排除；选项 D，创立性筹资动机指企业设立时，为取得资本金并形成开展经营活动的基本条件而产生的筹资动机。可排除。故本题正确答案选 C。

60. 在下列方法中，可以直接用于项目寿命期不相同的多个互斥方案比较决策的方法是（ ）。

- A.净现值法
- B.年金净流量法
- C.内含报酬率法
- D.现值指数法

【答案】B。净现值指标受投资项目寿命期的影响，而年金净流量法是互斥方案最恰当的决策方法。选项 ACD 均不符合题意，故本题正确答案选 B。

多项选择题

61. 下列资产负债表项目中，需要根据明细科目的期末余额计算填列的有（ ）。

- A.预付款项
- B.短期借款
- C.资本公积
- D.应付账款

【答案】AD。资产负债表中的“预付款项”项目应根据“预付账款”和“应付账款”科目所属各明细科目期末借方余额的合计数减去“坏账准备”科目中有关预付账款计提的坏账准备期末余额后的金额填列，选项 A 正确；“短期借款”“资本公积”项目应根据总账科目余额直接填列，选项 BC 不正确；“应付账款”应根据“应付账款”和“预付账款”科目所属的相关明细科目的期末贷方余额合计数填列，选项 D 正确。故本题正确答案选 AD。

62. 甲公司属于增值税小规模纳税人，2019 年 9 月 1 日收到乙公司作为资本投入的原材料一批，该批原材料的合同约定价值是 1500 万元，增值税的进项税额为 195 万元，假设合

同约定的价值与公允价值相符，同时不考虑其他因素，则甲公司的以下会计处理中，正确的有（ ）。

- A.应该计入原材料的金额是 1500 万元
- B.应该计入原材料的金额是 1695 万元
- C.甲公司实收资本的数额是 1500 万元
- D.甲公司实收资本的数额是 1695 万元

【答案】BD。甲公司属于小规模纳税人，增值税的进项税额不能抵扣，应计入原材料成本，所以计入原材料的金额=1500+195=1695（万元），选项 A 不正确，选项 B 正确；无论是一般纳税人还是小规模纳税人，假设合同约定价值与公允价值相符的情况下，计入实收资本的金额应该是合同约定价值和增值税进项税额之和=1500+195=1695（万元），选项 C 不正确，选项 D 正确。故本题正确答案选 BD。

63. 政府会计核算中预算会计报表至少包括（ ）。

- A.预算收入支出表
- B.预算结转结余变动表
- C.财政拨款预算收入支出表
- D.所有者权益变动表

【答案】ABC。政府会计核算中预算会计报表至少包括预算收入支出表、预算结转结余变动表、财政拨款预算收入支出表，D 项错误，ABC 项正确。故本题正确答案选 ABC。

64. 下列各项中，通过“应付票据”科目核算的有（ ）。

- A.商业承兑汇票
- B.银行本票
- C.银行汇票
- D.银行承兑汇票

【答案】AD。选项 BC，通过“其他货币资金”科目核算，BC 项错误，AD 项正确。故本题正确答案选 AD。

65. 期间费用包括（ ）。

- A.生产费用
- B.管理费用
- C.销售费用

D.财务费用

【答案】BCD。期间费用是指企业本期发生的、不能直接或间接归入营业成本，而是直接计入当期损益的各项费用，包括销售费用、管理费用和财务费用等，故 BCD 三项正确。

A 选项属于成本不属于期间费用，故 A 选项排除。故本题正确答案选 BCD。

66. 下列各项中，会导致账实不符的有（ ）。

- A.记账中漏记经济业务
- B.收、发财产时，计量不准确而造成数量上的差错
- C.记账中错记经济业务
- D.财产毁损

【答案】ABCD。造成账实不符的原因是多方面的，如财产物资保管过程中发生的自然损耗；财产收发过程中由于计量或检验不准，造成多收或少收的差错；由于管理不善、制度不严造成的财产损坏、丢失、被盗；在账簿记录中发生的重记、漏记、错记；由于有关原始凭证未到，形成未达账项，造成双方账实不符；发生自然灾害等，故 ABCD 四项均正确。

故本题正确答案选 ABCD。

67. 会计记账基础是指会计确认、计量和报告的基础，包括（ ）。

- A.历史成本
- B.权责发生制
- C.重置成本
- D.收付实现制

【答案】BD。会计记账基础包括权责发生制和收付实现制，故 BD 两项正确。历史成本和重置成本属于会计计量属性，故 AC 两项错误。故本题正确答案选 BD。

68. 借方登记本期减少发生额的账户有（ ）。

- A.资产类账户
- B.负债类账户
- C.收入类账户
- D.费用类账户

【答案】BC。选项 BC 选项，借方登记本期减少发生额，故 BC 两项正确。选项 AD，借方登记本期增加发生额，故 AD 两项错误。故本题正确答案选 BC。

69. 下列关于利润表的表述中，正确的有（ ）。

- A. 可据以分析、评价企业的盈利状况和工作业绩
- B. 是企业的主要财务报表之一
- C. 表中各项目是按照流动性排列的
- D. 可据以分析企业的获利能力和利润的未来发展趋势

【答案】ABD。利润表是反映企业某一时期经营的成果的会计报表，故 ABD 三项正确。选项 C 资产负债表各项目才是按照流动性排列的，故 C 选项错误。故本题正确答案选 ABD。

70. 下列各项中，应确认为企业资产的有（ ）。

- A. 购入的无形资产
- B. 已霉烂变质无使用价值的存货
- C. 融资性租入的固定资产
- D. 计划在下个月购进的材料

【答案】AC。A 选项购入的无形资产符合资产的定义，故 A 选项正确。C 选项融资性租入的固定资产，考虑实质重于形式的原则，符合资产的定义，故 C 选项正确。选项 B，不能给企业带来经济利益不作为资产，故 B 选项错误。选项 D，资产必须是企业过去的交易或事项形成的，未来交易或事项不能形成企业的资产，故 D 选项错误。故本题正确答案选 AC。

71. 当某上市公司的股票价值被低估时，该公司通常可以采用沟通有（ ）。

- A. 加强与投资者的沟通
- B. 回购股票
- C. 增发股票
- D. 并购
- E. 高管人员减持股票

【答案】AB。总的来说，股票的价值主要体现在每股权益比率和对公司成长的预期上。如果每股权益比率越高，那么相应的股票价值越高；反之越低。如果公司发展非常好，规模不断扩大，效益不断提高，能够不断分红，那么，股票价值就越高；反之越低。当公司股价相对于公司净资产甚至现金资产被严重低估时，它向市场传递的是不利于公司发展的错误信号，公司就有必要采取必要的措施。股票回购向市场传递公司对股价严重低迷不满的信息，能够扭转股价过分低迷的现状，选项 B 正确；加强与投资者的沟通可以让主要投资者保持

原有的持股比例，避免发生大规模股票减持，从而使股价进一步下跌，选项 A 正确；选项 CDE 会造成股票价值被低估更加严重，选项 CDE 错误。故本题正确答案选 AB。

72. 信用条件是公司接受客户信用时所提出的付款条件，由（ ）等要素组成。

- A.信用期间
- B.收款结算
- C.信息标准
- D.现金利息
- E.折扣期限

【答案】AE。信用条件是销货企业要求赊购客户支付货款的条件，包括信用期限、折扣期限和现金折扣。信用期限是企业为顾客规定的最长付款时间，折扣期限是为顾客规定的可享受现金折扣的付款时间，现金折扣是在顾客提前付款时给予的优惠，选项 A、E 符合题意；收款结算、信息标准、现金利息不属于信用条件内容，选项 B、C、D 不符合题意。故本题正确答案选 AE。

73. 债券的价格会随着市利率的变化而变化，下列表述中正确的有（ ）。

- A.若到期时间不变，当市场利率上升时，债券价值下降
- B.当债券票面利率大于市场利率时，债券发行时的价格低于债券的面值
- C.若到期时间缩短，市场利率对债券价值的影响程度会降低
- D.若到期时间延长，市场利率对债券价值的影响程度会降低
- E.若到期时间不变，当市场利率上升时，债券价值上升

【答案】AC。市场利率与债券价值反向变动，当到期时间不变时，市场利率的上升会导致债券价值的下降，选项 A 正确，选项 E 错误；时间越长，债券价值对市场利率越敏感，所以到期时间缩短，市场利率对债券价值的影响程度会降低，选项 C 正确，选项 D 错误；当债券票面利率大于市场利率时，债券发行时的价格高于债券的面值，选项 B 错误。故本题正确答案选 AC。

74. A 公司是北京市海淀区一家非上市民营企业，其会计信息的使用者主要包括（ ）等。

- A.公司的股东
- B.A 公司的经理人员
- C.A 公司的债务人

- D.证券市场的股民
- E.海淀区工商主管部门

【答案】BE。会计信息的使用者主要包括投资者、债权人、企业管理者、政府及其相关部门和社会公众等。非上市民营企业会计信息使用者主要包括公司经理人员、所在区域工商主管部门，故选项 BE 正确，选项 ACD 错误。故本题正确答案选 BE。

75. 企业以利润最大化为财务管理目标的缺点包括（ ）。

- A.没有考虑利润的资金时间价值
- B.没有考虑实现利润的风险差异
- C.没有考虑利润与投资资本关系
- D.可能导致短期财务决策导向
- E.利润指标计算简单

【答案】ABCD。本题考查的是财务管理目标的优缺点。企业利润最大化缺点包括：没有考虑利润实现时间和资金时间价值；没有考虑风险问题；没有反映创造的利润与投入资本之间的关系；可能导致企业短期财务决策倾向，影响企业长远发展。E 项：利润指标计算简单是企业利润最大化的优点。故 E 项不选。故本题正确答案选 ABCD。

76. 关于同一投资方案的说法，正确的有（ ）。

- A.资本成本越高，净现值越低
- B.资本成本越高，净现值越高
- C.资本成本相当于内部报酬率时，净现值为零
- D.资本成本高于内部报酬率时，净现值小于零
- E.资本成本高于内部报酬率时，净现值大于零

【答案】ACD。本题考查的是净现值。投资项目优劣应以投资人要求的收益率——“资本成本”为基础。投资项目的收益率超过资本成本时，企业价值增加，可接受该投资项目，说明净现值大于零；投资项目的收益率小于资本成本时，企业价值减少，可拒绝该投资项目，说明净现值小于零。所以 CD 正确。根据净现值的计算公式可知，当行业基础收益率（资本成本）越大时，净现值越低。所以 A 正确。B 项：根据净现值的计算公式可知，当行业基础收益率（资本成本）越大时，净现值越低。E 项：投资项目优劣应以投资人要求的收益率——“资本成本”为基础。投资项目的收益率超过资本成本时，企业价值增加，可接受该投

投资项目，说明净现值大于零；投资项目的收益率小于资本成本时，企业价值减少，可拒绝该投资项目，说明净现值小于零。故本题正确答案选 ACD。

77. 某企业拟投资一条生产线，该项目投资期限 5 年，现金成本为 10%，各年的预计现金净流量（NCF）现值分别为：0 时点的 NCF 现值为-200 万元，第 1 年的 NCF 现值为-45.46 万元，第 2 年的 NCF 现值为 82.46 万元，第 3 年的 NCF 现值为 75.13 万元，第 4 年的 NCF 现值为 170.75 万元，第 5 年的 NCF 现值为 155.23 万元。关于该项目的说法，正确的有（ ）。

- A.项目现值指数大于 1
- B.项目动态投资回收期为 3.51 年
- C.项目内含报酬率大于 10%
- D.项目会计报酬率大于 10%
- E.项目静态投资回收期为 4 年

【答案】ABCD。本题考查净现值法、内含报酬率法、回收期法的具体应用。本题中，现值指数是指投资项目未来现金净流量的总现值与原始投资现值之比，即 438.11 万元与 200 万元相比，大于 1，A 正确；动态投资回收期的计算公式为（累计净现金流量现值出现正值的年数-1）+上一年累计净现金流量现值的绝对值/出现正值年份净现金流量的现值，即（4-1）+87.69/170.75=3.51，B 正确；因为累计净现值大于 0，所以内含报酬率大于现金成本，C 正确；把每年的 NCF 现值还原回去，分别是，-50，100，100，250，250，得到 5 年累计净利润 650 万元，年均净利润 130 万元，再除以原始投资额 200 万，大于 10%，D 正确。E 项：回收期就是使累计的经济效益等于最初的投资费用所需的时间，原始投资额-200 万，根据选项 D 中的计算结果，可知静态投资回收期为 3.2 年。故本题正确答案选 ABCD。

78. 在选择资产时，下列说法不正确的是（ ）。

- A.当预期收益不同时，风险追求者会选择风险小的
- B.当风险相同时，风险回避者会选择预期收益大的
- C.如果风险不同，风险中立者会选择预期收益大的
- D.如果风险相同，风险中立者将无法选择
- E.如果风险相同，风险中立者将选择预期收益大的

【答案】ABD。本题考查不同风险偏好对投资的影响并选错误项。风险追求者的原则是：当预期收益相同时，选择风险大的，因为这会给他们带来更大的效用；而风险回避者的态度为：当预期收益相同时，偏好于具有低风险的资产；而这两者的共同点为：对于具有同

样风险的资产，选择具有高预期收益率的资产。风险中立者选择资产的唯一标准是预期收益的大小，而不管风险状况如何，这是因为所有预期收益相同的资产将给他们带来同样的效用。因此，ABD 不符合这一理论。C 项：不管风险状况如何，风险中立者会选择预期收益大的方案。故本题正确答案选 ABD。

79. 下列选项中，属于现金支出管理措施的有（ ）。

- A. 推迟支付应付款
- B. 以支票代替汇票
- C. 使用零余额账户
- D. 使用现金浮游量
- E. 争取现金收支同步

【答案】ACDE。本题考查现金管理的方法。现金支出管理的主要任务是尽可能延缓现金的支出时间。现金支出管理的措施有：（1）使用现金浮游量；（2）推迟应付款的支付；（3）汇票代替支票；（4）改进员工工资支付模式；（5）透支；（6）争取现金流出与现金流入同步；（7）使用零余额账户。故本题正确答案选 ACDE。

80. 在企业日常经营中提供较为优惠的信用条件可扩大销售，但也会付出代价。这些代价包括（ ）。

- A. 应收账款的机会成本
- B. 可能的坏账成本
- C. 收账发生的费用
- D. 提供现金折扣的成本
- E. 调查顾客信用状况的费用

【答案】ABCDE。本题考查信用政策的具体应用。信用政策是指企业为对应收账款进行规划与控制而确立的基本原则性行为规范。应收账款的机会成本是指因为投放于应收账款而放弃其他投资机会丧失的收益，选项 A 正确；坏账成本为因应收账款无法收回而给企业带来的损失，选项 B 正确；收账发生的费用为企业对应收账款进行管理而耗费的开支，选项 C 正确；提供现金折扣的成本是顾客提前付款给予优惠而少获取的销货收入，选项 D 正确；调查顾客信用状况的费用为通过对客户信用状况进行调查分析，防范坏账提供决策依据产生的成本，选项 E 正确。故本题正确答案选 ABCDE。

公基习题

单项选择题

1. 质权人在质权存续期间，未经出质人同意，擅自使用、处分质押财产，给出质人造成损害的，应当承担（ ）。

- A. 刑事责任
- B. 法律责任
- C. 清偿责任
- D. 赔偿责任

【答案】D。根据《民法典》第十八章第四百三十一条规定，质权人在质权存续期间，未经出质人同意，擅自使用、处分质押财产，造成出质人损害的，应当承担赔偿责任。故本题正确答案选D。

2. 根据我国《宪法》，有权提出修宪议案的是（ ）。

- A. 国务院
- B. 国家主席
- C. 五分之一以上的全国人民代表大会代表
- D. 全国人民代表大会常务委员会委员长

【答案】C。《宪法》第六十四条规定，宪法的修改，由全国人民代表大会常务委员会或者五分之一以上的全国人民代表大会代表提议，并由全国人民代表大会以全体代表的三分之二以上的多数通过。故本题正确答案选C。

3. 下列关于破产财产申报的说法错误的是（ ）。

- A. 未到期的债权，在破产申请受理时视为到期
- B. 附条件的债权，在破产申请受理时因条件尚未成就故不能申报
- C. 债务人的保证人或其他连带债务人代替债务人清偿债务的，可以申报债权
- D. 连带债权人可以由其中一人代表全体连带债权人申报债权

【答案】B。本题考查的是《企业破产法》的相关规定。根据《企业破产法》的相关规定，未到期的债权，在破产申请受理时视为到期。因此A项正确。附条件、附期限的债权和诉讼、仲裁未决的债权，债权人也可以申报其债权。因此B项错误。债务人的保证人或者其他连带债务人代替债务人清偿债务的，可以申报债权。债权人申报债权时，应当书面说

明债权的数额和有无财产担保，并提交有关证据。申报的债权是连带债权的，应当说明。连带债权人可以由其中一人代表全体连带债权人申报债权，也可以共同申报债权。所以 CD 项正确。故本题正确答案选 B。

4. 要约是订立合同的一种方式，它符合以下哪些规定？（ ）

- (1) 内容具体确定；
- (2) 表明经要约人承诺，要约人即受该意思表示约束。

- A. (1) 和 (2) 都不需要符合
- B. (1) 和 (2) 都要符合
- C. 只有 (1)
- D. 只有 (2)

【答案】B。《民法典》第四百七十一条：当事人订立合同，可以采取要约、承诺方式或者其他方式。《民法典》第四百七十二条：要约是希望与他人订立合同的意思表示，该意思表示应当符合下列条件：（一）内容具体确定；（二）表明经受要约人承诺，要约人即受该意思表示约束。故本题正确答案选 B。

5. 小王回家后，看到姐夫郑某那辆 SUV 车钥匙放在桌上，于是未经允许，开着车出去兜风，结果撞伤路人。在责任认定及赔偿责任方面，下列说法正确的是（ ）。

- A. 在责任认定方面，郑某负有连带责任
- B. 小王承担赔偿责任，郑某没有赔偿责任
- C. 郑某对车钥匙管理不善，承担监管不严的责任
- D. 在赔偿方面，小王和郑某共同负担

【答案】B。《民法典》第一千二百一十二条：未经允许驾驶他人机动车，发生交通事故造成损害，属于该机动车一方责任的，由机动车使用人承担赔偿责任；机动车所有人、管理人对损害的发生有过错的，承担相应的赔偿责任，但是本章另有规定的除外。故本题正确答案选 B。

6. 当事人逾期不履行行政处罚决定的，作出行政处罚决定的行政机关可以对当事人每日按罚款数额的（ ）加处罚款。

- A. 百分之一
- B. 百分之二
- C. 百分之三

D.百分之五

【答案】C。C项，依据《行政处罚法》第51条规定，当事人逾期不履行行政处罚决定的，作出行政处罚决定的行政机关可以采取下列措施：①到期不缴纳罚款的，每日按罚款数额的百分之三加处罚款；②根据法律规定，将查封、扣押的财物拍卖或者将冻结的存款划拨抵缴罚款；③申请人民法院强制执行，当选。ABD项，为混淆选项，不当选。故本题正确答案选C。

7. 四书包括《论语》、《大学》、《孟子》和（ ）。

- A.《礼记》
- B.《中庸》
- C.《周易》
- D.《春秋》

【答案】B。此题考查考生对文学常识的掌握情况。A、C、D选项同《诗经》、《尚书》并称为五经。故本题正确答案选B。

8. 夏日雷雨过后，人们会感到空气特别清新。其主要原因是（ ）。

- A.雷雨过后，空气湿度增加
- B.雷雨过程中气温快速下降
- C.雷雨过程中雷电导致空气中的臭氧分子增加
- D.雷雨过程中空气中的灰尘随雨水降落到地面

【答案】C。夏日雷雨过后，人们会感到空气特别清新，是因为在闪电时，发生的化学变化会使空气中的氧气有些变成了臭氧，少量的臭氧可以给人以清新的感觉。故本题正确答案选C。

9. 下列诗句与描写的景点对应正确的是（ ）。

- A.会当凌绝顶，一览众山小——安徽黄山
- B.水光潋滟晴方好，山色空蒙雨亦奇——杭州西湖
- C.二十四桥明月夜，玉人何处教吹箫——北京昆明湖
- D.飞流直下三千尺，疑是银河落九天——贵州黄果树瀑布

【答案】B。A项，“会当凌绝顶，一览众山小”出自于杜甫的《望岳》，描写的景点是泰山，对应错误，排除。B项，“水光潋滟晴方好，山色空蒙雨亦奇”出自苏轼的《饮湖上初晴后雨》，描写的景点是杭州西湖，对应正确，当选。C项，“二十四桥明月夜，玉人

何处教吹箫”出自杜牧的《寄扬州韩绰判官》，描写的景点是扬州的二十四桥，对应错误，排除。D项，“飞流直下三千尺，疑是银河落九天”出自李白的《望庐山瀑布》，描写的景点是江西庐山，对应错误，排除。故本题正确答案选B。

10. 二进制数 11011 对应的十进制数是（ ）。

- A.11
- B.27
- C.25
- D.18

【答案】B。二进制数 11011 换算成十进制= $2^4+2^3+2+1=16+8+2+1=27$ ，故 B 项正确，ACD 项错误。故本题正确答案选 B。

11. 下面不属于软件测试实施步骤的是（ ）。

- A.集成测试
- B.回归测试
- C.确认测试
- D.单元测试

【答案】B。软件测试主要包括单元测试、集成测试、确认测试和系统测试。故本题正确答案选 B。

12. 对于古代称谓，下列说法错误的是（ ）。

- A.阁下是对长辈的尊称
- B.足下是下级对上级或同辈之间互相尊敬的称呼
- C.内子用于丈夫向别人称自己的妻子
- D.“舍”用以谦称自己的家或自己的卑幼亲属

【答案】A。“阁下”是旧时对别人的尊敬。常用于书信之中，为挚友亲朋间尊称的敬辞。A项认为阁下是对长辈的尊称，是不正确的。“足下”在古代，下称谓上，或同辈相称，都用“足下”。B项正确。古代称自己的妻子为“贱内”、“内子”、“内助”、“中馈”、“糟糠之妻”等等。C项正确。古人称自己一方的亲属朋友时，常用“家”、“舍”等谦词。D项正确。故本题正确答案选 A。

13. 公文办理包括收文办理、发文办理和整理归档。其中发文办理的主要程序是（ ）。

- A.复核、登记、印制、核发

- B.签收、登记、核发、印制
- C.传阅、催办、答复、初审
- D.核发、登记、印制、承办

【答案】A。发文办理是指机关内部为制发公文所进行的拟制、处置与管理活动。发文办理的一般程序为：复核、登记、印制、核发，这一程序具有很强的确定性与不可逆性。故本题正确答案选 A。

14. 人体中白细胞的主要作用是（ ）。

- A.凝血
- B.气体交换
- C.免疫
- D.输送氧气

【答案】C。白细胞，俗称白血球，它对人体具有重要的保护机能，能够防御“外敌”的入侵，有“人体卫士”的美称。故本题正确答案选 C。

15. 信息技术革命与经济社会活动的交融催生了大数据。下列选项中不属于大数据特征的是（ ）。

- A.Virtual（虚拟）
- B.Variety（多样）
- C.Volume（大量）
- D.Velocity（高速）

【答案】A。大数据的 5V 特点：Volume（大量）、Velocity（高速）、Variety（多样）、Value（低价值密度）、Veracity（真实性）。没有虚拟。故本题正确答案选 A。

16. 二叉树遍历是指按照一定规则和次序访问二叉树中的所有节点，并且每个节点仅被访问一次，下列不属于二叉树遍历形式的是（ ）。

- A.先序遍历
- B.中序遍历
- C.后序遍历
- D.无序遍历

【答案】D。二叉树遍历的三种形式包括：先序遍历、中序遍历和后序遍历，没有无序遍历这一说法。故本题正确答案选 D。

17. 一个批处理作业从进入系统并驻留在外存的后备队列上开始，直至作业运行完毕，可能要经历三级调度，其中被称为作业调度、长程调度或宏观调度的是（ ）。

- A.高级调度
- B.中级调度
- C.低级调度
- D.初级调度

【答案】A。本题考查的是批处理中进程的调度算法。在三种常用的算法中，高级调度的调度对象是作业（job），故被称为作业调度、长度调度的是高级调度。故本题正确答案选 A。

18. 我国《反垄断法》规定，（ ）负责组织、协调、指导反垄断工作。

- A.反垄断委员会
- B.商务部
- C.国家发展改革委员会
- D.国家工商行政管理总局

【答案】A。我国《反垄断法》规定，国务院设立反垄断委员会，负责组织、协调、指导反垄断工作。反垄断执法机构是指国务院规定的承担反垄断执法职责的机构，主要包括：商务部、国家发展改革委员会和国家工商行政管理总局。故本题正确答案选 A。

19. 下列关于主送机关正确的说法是（ ）。

A.主送机关是指公文的主要受理机关，应当使用全称或者规范化简称、统称，位置在标题下右侧顶格

- B.上行文的主送机关一般是 1 个，请示、批复、函的主送机关只能是 1 个
- C.普发性的下行公文，主送机关较多，但是不能使用泛称
- D.公告、通告以及部分事项性通知必须写主送机关

【答案】C。《党政机关公文处理工作条例》规定：“公文的主要受理机关，应当使用机关全称、规范化简称或者同类型机关统称。”位置在标题下左侧顶格，A 说法错误。上行文的主送机关一般是一个。函的主送机关可以不止一个，B 说法错误。主送机关使用的是机关全称、规范化简称和同类型机关的统称，不使用泛称是正确的，C 正确。没有特指主送机关的公布性公文，如公告、通告等，不写主送机关，D 表述错误。故本题正确答案选 C。

20. 下列关于我国二十四节气的先后排序，有误的一项是（ ）。

- A.立春—谷雨—惊蛰—清明
- B.立夏—小满—夏至—小暑
- C.立秋—处暑—白露—寒露
- D.立冬—大雪—冬至—大寒

【答案】A。二十四节气是根据太阳在黄道上的位置划分的，反映我国一定地区（以黄河中下游地区为代表）一年中的自然现象与农事季节特征的二十四个节候。即立春、雨水、惊蛰、春分、清明、谷雨、立夏、小满、芒种、夏至、小暑、大暑、立秋、处暑、白露、秋分、寒露、霜降、立冬、小雪、大雪、冬至、小寒、大寒。据此，排序有误的是A项。BCD排序正确，故本题正确答案选A。

21. 下列关于农业的说法正确的是（ ）。

- A.花生、大豆、向日葵和芝麻都属于油料作物
- B.农药在夏天中午气温较高时喷洒灭虫效果最好
- C.有机农作物通常种在便于运输的交通主干线附近
- D.追肥是农闲时期为调节土地所含养分而施用的肥料

【答案】A。农药在上午8-10点，下午5点以后灭虫效果最好，故B错。追肥是指在作物生长过程中加施的肥料，追肥的作用主要是为了供应作物某个时期对养分的大量需要，或者补充基肥的不足，故D错。有机农作物要远离交通主干线附近，故C错。花生、大豆、向日葵和芝麻都是油料作物，故本题正确答案选A。

22. （ ）是我国的根本政治制度。

- A.人民民主专政制度
- B.中国共产党领导的多党合作和政治协商制度
- C.人民代表大会制度
- D.民主集中制

【答案】C。A项，人民民主专政是指工人阶级领导的，以工农联盟为基础的，对人民实行民主和对敌人实行专政的国家制度，是我国的国体，A项不当选。B项，中国共产党领导的多党合作和政治协商制度是中华人民共和国的一项基本的政治制度，是具有中国特色的政党制度，B项不当选。C项，《宪法》规定，中华人民共和国的一切权力属于人民，人民通过人民代表大会行使权力，人民代表大会制度是我国的根本政治制度，C项当选。D项，民主集中制指民主基础上的集中和集中指导下的民主相结合的制度，是党的根本组织制度和

领导制度,也是马克思主义认识论和群众路线在党的生活和组织建设中的运用,D项不当选。故本题正确答案选C。

23. 下列关于气候常识的表述,不正确的是()。

- A.大量砍伐森林会导致全球变暖
- B.地球大气对流层的气温呈上热下冷的状态
- C.台风、沙尘暴和泥石流均为我国主要的地质灾害
- D.梅雨发生季节正是我国梅子的黄熟季节

【答案】B。A项,全球气候变暖是一种人为现象。由于人们焚烧化石燃料,如石油,煤炭等,或砍伐森林并将其焚烧时会产生大量的二氧化碳等温室气体,这些温室气体导致温度上升,造成全球气候变暖,说法正确,本题是选非题,A项不当选。B项,对流层的直接热源是地面辐射,离地面越远,空气也越稀薄,吸收的地面辐射越少,所以下热上冷。冷空气密度大,因而上下垂直对流,B项当选。C项,台风、沙尘暴是气象灾害,泥石流是地质灾害,说法错误,本题具有争议性。D项,特指初夏时节的梅雨季节梅雨,又称黄梅天,指中国长江中下游地区、台湾、日本中南部、韩国南部等地,每年6月中下旬至7月上半月之间持续天阴有雨的自然气候,D项不当选。故本题正确答案选B。

24. 2000多年前三大水利工程是()、灵渠、郑国渠。

- A.京杭大运河
- B.都江堰
- C.芍陂
- D.龙首渠

【答案】B。A项,京杭大运河始建于春秋时期,隋王朝在天下统一后即做出了贯通南北运河的决定,A项不当选。B项,2000多年前,我国三大水利工程分别为四川的都江堰、陕西的郑国渠和广西兴安的灵渠,这三大水利工程均为秦朝所建,因此也是秦朝的三大水利工程,B项当选。C项,芍陂是由春秋时楚相孙叔敖主持修建的水利工程,C项不当选。D项,龙首渠位于陕西省,是中国历史上第一条地下水渠,是一引洛渠道,在开发洛河水利的历史上是首创工程,它是今洛惠渠的前身,建于西汉武帝年间,D项不当选。故本题正确答案选B。

25. 提出“中庸”这一中国传统文化最高价值原则的人是()。

- A.老子

- B.孔子
- C.孟子
- D.韩非子

【答案】B。A项，老子的主要思想是“道生万物”的宇宙生成说，把宇宙看成一个自然产生、自然演变的过程，天地万物是依照自然规律发展变化的，而“道”是世界的本源，老子哲学的精髓是他的朴素辩证法思想，认为天地万物都是相反相成的。“有无相生，难易相成，高下相倾，声音相和，前后相随”，矛盾双方相互依存，互为条件。A项不当选。B项，中庸即为适度。出自《论语·雍也》：“中庸之为德也，其至矣乎！”，B项当选。C项，孟子的主要哲学思想，是他的人类性善论，“性善论”是孟子谈人生和谈政治的理论根据，在他的思想体系中是一个中心环节，C不当选。D项，韩非子是法家代表，主张法制，加强中央集权，认为人性本恶。D不当选。故本题正确答案选B。

26. 我国刑法规定：单位犯罪的主体是单位，包括公司、企业、事业单位、机关、团体。依据上述规定，下列说法错误的是（ ）。

- A.某市热电集团是公用企业，因而不能成为单位犯罪中的企业
- B.某市工商行政管理局能够成为单位犯罪中的机关
- C.某市工会能够成为单位犯罪中的团体
- D.某市中学能够成为单位犯罪中的事业单位

【答案】A。犯罪主体是指实施危害社会的行为、依法应当负刑事责任的自然人和单位。自然人主体是指达到刑事责任能力的自然人，单位主体是指实施危害社会行为并依法应负刑事责任的公司、企业、事业单位、机关、团体，A项说法错误，但本题是选非题，故A当选。BCD不当选。故本题正确答案选A。

27. “人能守法，斯能自由。”这句话说明（ ）。

- A.离开法律的自由才是真正的自由
- B.自由是以守法为前提的
- C.任何人都有不受限制的自由
- D.世界上没有真正的自由

【答案】B。自由是人的基本人权，但是自由是相对的，要在法律允许的范围内。故B项当选，ACD项，不当选。故本题正确答案选B。

28. 下列河流与所注入的海洋，对应关系不正确的是（ ）。

- A.多瑙河—黑海
- B.黄河—东海
- C.亚马逊河—大西洋
- D.密西西比河—墨西哥湾

【答案】B。A项，多瑙河在欧洲仅次于伏尔加河，是欧洲第二长河，它发源于德国西南部的黑林山的东坡，在乌克兰中南部注入黑海，A不当选。B项，渤海，黄河自西向东分别流经青海、四川、甘肃、宁夏、内蒙古、陕西、山西、河南及山东9个省（自治区），最后流入渤海，B项当选。C项，亚马逊河是从西向东流，亚马逊河起源于雪峰上的融水，一路汇集百川，然后流经多个国家最后注入大西洋，C项不当选。D项，密西西比河自北向南注入墨西哥湾，是世界第四长河，D项不当选。故本题正确答案选B。

29. 《论语》是儒家大师孔子的代表作，（ ）在此基础上发扬了孔子学说。
- A.《道德经》《墨子》
 - B.《道德经》《中庸》
 - C.《大学》《中庸》
 - D.《大学》《墨子》

【答案】C。本题考查诸子百家相关知识，孔子为儒家学派代表人物，发扬其学说的作品也应为儒家著作，《大学》、《中庸》均为儒家作品，故C项正确；《道德经》为道家代表作，故AB项错误；《墨子》为墨家代表作，故D项错误。故本题正确答案选C。

30. 阴历是以月亮（ ）计时的方法。
- A.上升时间
 - B.下落时间
 - C.形状
 - D.位置

【答案】D。阴历是月亮历，也叫太阴历，是以月亮围绕地球转动的规律制定的，故D项正确，ABC项错误。故本题正确答案选D。

31. 伽利略通过望远镜，发现了（ ）的4颗卫星，统称为伽利略卫星。
- A.金星
 - B.水星
 - C.火星

D.木星

【答案】D。伽利略卫星也就是木卫一到木卫四这四颗卫星，它们都是在大约 400 年前被意大利科学家伽利略利用望远镜发现的，所以统称为伽利略卫星，符合题意的只有 D 项，ABC 项错误。故本题正确答案选 D。

32. 我国著名的仰韶文化，其最早的发现位于（ ）西北的仰韶村。

A.西安

B.杭州

C.开封

D.洛阳

【答案】D。著名的仰韶文化即首先发现于洛阳西北的仰韶村，故 ABC 项错误，D 项正确。故本题正确答案选 D。

33. 塑料制成的容器比较容易积聚油渍，其物理特性是（ ）。

A.相似相溶原理

B.离子聚合原理

C.分子聚合原理

D.相斥相溶原理

【答案】C。塑料容器油渍不容易清洗原因为分子聚合原理，故 ABD 项错误，C 项正确，故本题正确答案选 C。

34. 台风是在海洋上形成的大规模的气流运动，它的行程受到地转偏向力的影响，比如，在北半球形成的台风，它旋转的方向是（ ）。

A.海洋上是顺时针，登陆后变为逆时针

B.不管在海洋上还是陆地上都是逆时针

C.海洋上是逆时针，登陆后变为顺时针

D.不管在海洋上还是陆地上都是顺时针

【答案】B。台风是热带低气压漩涡，低气压中心气流是由四周流向低压中心。在北半球由于地转偏向力的影响，由四周流向低压中心的气流出现右偏，就形成了逆时针方向旋转的气流漩涡，故 ACD 项错误；B 项正确。故本题正确答案选 B。

35. 5G 移动通讯技术与 4G 相对比，下列描述正确的是（ ）。

A.位于 4G 基站下的两个用户，相互通信时可采用手机对手机直连方式

- B.5G 移动通讯可采用微基站的方式进行部署
- C.每个 5G 移动通讯基站比 4G 覆盖更广，速率更高
- D.同样的覆盖范围，5G 移动通讯基站的数量无需超过 4G

【答案】B。5G 移动通讯技术与 4G 相对比，由于 5G 信号衰减，更快，因此需要更多的 5G 基站，5G 基站覆盖范围较 4G 较小，故 CD 项错误；4G 基站不能采用直接相连的方式，故 A 项错误；5G 基站可采用微基站的方式进行部署，故 B 项正确。故本题正确答案选 B。

36. 针对银行金融系统的个人用户，可通过（ ）的方式加强银行业网点去中心化的服务方式。

- (1) ATM
 - (2) 智能化柜员机
 - (3) 手机 APP
 - (4) 在线银行
- A.只有 (1) (2) (4)
 - B.只有 (3) 和 (4)
 - C.只有 (1) 和 (4)
 - D.只有 (2) (3) (4)

【答案】B。ATM 机和智能化柜员机并不能加强银行业网点去中心化的服务方式，故 ACD 项错误；针对银行金融系统的个人用户，可通过手机银行和在线银行的方式加强银行业网点去中心化的服务方式，故 B 项正确。故本题正确答案选 B。

37. 芯片制造工艺一直处于发展中，从 14 纳米到 10 纳米，再到现在的 5 纳米，数字越低，芯片的先进程度也就越高。那么，14 纳米、10 纳米、5 纳米指的是（ ）。

- A.芯片单层的厚度
- B.两个晶体管之间的间隔
- C.晶体管的宽度
- D.芯片的对角线长度

【答案】B。芯片制造工艺一直处于发展中，从 14 纳米到 10 纳米，再到现在的 5 纳米，数字越低，芯片的先进程度也就越高。那么，14 纳米、10 纳米、5 纳米指的是两个晶体管之间的间隔，故 ACD 项错误，B 项正确。故本题正确答案选 B。

38. 网络爬虫技术可以自动通过网络去抓取程序、脚本等用户需要的信息，但同时带来了信息安全威胁。为了防止重要信息泄露，可以采取以下哪种策略？（ ）

- (1) 限制访问次数
- (2) 检验 header 头部信息
- (3) 登陆限制

- A.只有 (1) 和 (2)
- B.只有 (2) 和 (3)
- C.只有 (1) 和 (3)
- D.三项策略都可以

【答案】D。网络爬虫技术可以自动通过网络去抓取程序、脚本等用户需要的信息，但同时带来了信息安全威胁。为了防止重要信息泄露，可以采取限制访问次数、检验 header 头部信息、登陆限制等措施，故 ABC 项错误；D 项正确。故本题正确答案选 D。

39. 消费者购买到不符合质量要求的商品时，会发生退货行为，甚至为此产生纠纷。依照《消费者权益保护法》，退货时的正确说法是（ ）。

- (1) 如果消费者同商家有约定，则以约定为准
- (2) 如果消费者同商家没有相关约定，则依法可在 7 日内退货
- (3) 如果在没有相关约定的情况下，超出 7 日，则不能退货，只能要求商家更换或者修理

- A.三项说法都对
- B.只有 (1) 和 (2)
- C.只有 (1) 和 (3)
- D.只有 (2) 和 (3)

【答案】B。经营者提供的商品或者服务不符合质量要求的，消费者可以依照国家规定、当事人约定退货，或者要求经营者履行更换、修理等义务。没有国家规定和当事人约定的，消费者可以自收到商品之日起七日内退货；七日后符合法定解除合同条件的，消费者可以及时退货，不符合法定解除合同条件的，可以要求经营者履行更换、修理等义务。依照前款规定进行退货、更换、修理的，经营者应当承担运输等必要费用。(3) 说法过于绝对，不当选。故本题正确答案选 B。

40. 新型基础设施建设（简称：新基建）是以新发展理念为引领，以技术创新为驱动，以信息网络为基础，面向高质量发展需要，提供数字转型、智能升级、融合创新等服务的基础设施体系。涉及的领域包括（ ）。

- (1) 5G 基站建设
- (2) 城际高速铁路和城市轨道交通
- (3) 新能源汽车充电桩
- (4) 大数据中心、人工智能
- (5) 工业互联网
- (6) 特高压

- A. (1) (2) (3) (4) (5) (6)
- B. 只有 (1) (3) (4) (5)
- C. 只有 (2) (4) (5) (6)
- D. 只有 (1) (3) (4) (5) (6)

【答案】A。白皮书对“新基建”包含的5G、大数据中心、人工智能发展、工业互联网、新能源汽车充电桩、特高压、城际高速铁路和城市轨道交通等七大领域的全球发展现状做出分析判断，并针对全球主要国家促进“新基建”的主要政策措施进行分析，指出其采取的主要政策手段和方式。故本题正确答案选A。

41. 下列说法中正确的是（ ）。

- A. 计算机体积越大，其功能就越强
- B. 两个显示器屏幕尺寸相同，则它们的分辨率必定相同
- C. 点阵打印机的针数越多，则能打印的汉字字体就越多
- D. 在微机性能指标中，CPU的主频越高，其运算速度越快

【答案】D。计算机的功能与体积之间没有必然联系，故A项错误；屏幕尺寸和点距都一定时，屏幕的分辨率才一定。当两项中有一项发生变化，分辨率就会发生变化。所以，屏幕分辨率和屏幕尺寸之间，并没有固定的关系，故B项错误；当点阵打印机的针数数量增加时，打印显示软件必须支持用户需要的字体，能打印的汉字字体才能更多，故C项错误；CPU的主频，即CPU内核工作的时钟频率，提高主频对于提高CPU运算速度是至关重要的。故本题正确答案选D。

42. 根据我国宪法规定，对公民财产权的限制不包括（ ）。

- A. 公民财产权要受到依法纳税义务的限制
- B. 公民财产权要受到国家依法实施的征收或征用的限制
- C. 公民不得以损害公共利益和他人利益的方式行使财产权
- D. 公民必须以有利于公共利益的方式行使财产权

【答案】D。《宪法》第 12 条规定：“社会主义的公共财产神圣不可侵犯。国家保护社会主义的公共财产。禁止任何组织或者个人用任何手段侵占或者破坏国家的和集体的财产。”第 13 条规定：“公民的合法的私有财产不受侵犯。国家依照法律规定保护公民的私有财产权和继承权。国家为了公共利益的需要，可以依照法律规定对公民的私有财产实行征收或者征用并给予补偿。”第 56 条规定：“中华人民共和国公民有依照法律纳税的义务。”根据法条的规定可知，选项 A、B、C 的表述正确。故本题正确答案选 D。

43. 1954 年毛泽东在《浪淘沙·北戴河》中写道，“往事越千年，魏武挥鞭，东临碣石有遗篇”。这里“魏武”指的是（ ）。

- A. 孙臆
- B. 曹操
- C. 刘彻
- D. 李愷

【答案】B。1954 年夏天，毛泽东在北戴河海滨避暑时，写成了《浪淘沙·北戴河》，句中引用了曹操的《观沧海》，魏武指的是曹操，曹操死后被追封为魏武帝。故本题正确答案选 B。

44. 下列成语与反映的哲学原理对应错误的是（ ）。

- A. 量体裁衣——具体问题具体分析
- B. 白马非马——要抓住事物的主要矛盾
- C. 竭泽而渔——未能以发展的眼光看问题
- D. 讳疾忌医——否认矛盾的客观存在

【答案】B。“白马非马”出自战国时期公孙龙的辩论，在他看来，“白马”与“马”这两个概念不同，因此它们之间毫无联系，从而推断出“白马”不是“马”。白马非马从根本上说是割裂了一般和个别、共性和个性的关系。B 选项错误。ACD 三项对应正确。故本题正确答案选 B。

45. 为担保债务履行，甲将生产设备、1000 万股股权质押给银行，获得 2000 万流动资金。对此过程中产生的法律权利，下列分析中正确的是（ ）。

- A. 生产设备和股权对应的都是权利质权
- B. 生产设备对应的是抵押权，而股权对应的权利质权
- C. 生产设备和股权对应的都是抵押权
- D. 生产设备对应的是权利质权，而股权对应的是抵押权

【答案】B。《民法典》第三百九十六条：企业、个体工商户、农业生产经营者可以将现有的以及将有的生产设备、原材料、半成品、产品抵押，债务人不履行到期债务或者发生当事人约定的实现抵押权的情形，债权人有权就抵押财产确定时的动产优先受偿。《民法典》第四百四十条：债务人或者第三人有权处分的下列权利可以出质：（一）汇票、本票、支票；（二）债券、存款单；（三）仓单、提单；（四）可以转让的基金份额、股权；（五）可以转让的注册商标专用权、专利权、著作权等知识产权中的财产权；（六）现有的以及将有的应收账款；（七）法律、行政法规规定可以出质的其他财产权利。所以生产设备对应的是抵押权，而股权对应的权利质权。故本题正确答案选 B。

46. 李大爷为某市市民，无子女无亲人，一日忽然故去。经查，李大爷并非集体所有制组织成员，他留下的一套商品房，现金若干，均未指定谁人继承。这种情况下，依据《民法典》，应当如何处理？（ ）

- A. 归国家所有，用于公益事业
- B. 归集体所有，作为集体资产的一部分
- C. 归国家所有，变现充入国库
- D. 归集体所有，变现充当集体建设资金

【答案】A。《民法典》第一千一百六十条：无人继承又无人受遗赠的遗产，归国家所有，用于公益事业；死者生前是集体所有制组织成员的，归所在集体所有制组织所有。故本题正确答案选 A。

47. 小张到某网络公司应聘，应聘成功后，该公司与小张签订了期限为 2 年的劳动合同，则该公司可约定小张的试用期为（ ）。

- A. 1 个月
- B. 3 个月
- C. 6 个月

D.9个月

【答案】A。《劳动合同法》第十九条第二款，劳动合同期限一年以上不满三年的，试用期不得超过二个月。题干中小张签订了2年的劳动合同，所以试用期不得超过二个月。只有A项少于二个月。故本题正确答案选A。

48. 关于降水的时空分布叙述，正确的是（ ）。

- A.地形雨都出现在山地的南坡
- B.季风气候区都是雨热同季
- C.信风带都干旱少雨
- D.沿海地区降雨都比较丰富

【答案】A。地形雨是世界降水形式中的四大降水方式之一（其余三个是：锋面雨、对流雨、台风雨）。当潮湿的气团前进时，遇到高山阻挡，气流被迫缓慢上升，引起绝热降温，发生凝结，这样形成的降雨，称为地形雨。地形雨因为发生在地形的阻挡作用当中而得名。降水的山坡正好是迎风的一面，我国位于北半球，受季风和洋流的影响较大，暖湿气流由南向北前进，遇到高山阻挡上升成为地形雨，此时正好出于山地南坡，因此我国的地形雨都出现在山地的南坡，即迎风坡。故本题正确答案选A。

49. 习近平总书记指出“一名干部有了坚定的理想信念，能做到‘风雨不动安如山’”，此话引用诗句中（ ）。

- A.杜甫《茅屋为秋风所破歌》
- B.范仲淹《岳阳楼记》
- C.李白《梦游天姥吟留别》
- D.白居易《卖炭翁》

【答案】A。“风雨不动安如山”出自唐代杜甫的《茅屋为秋风所破歌》，原句是“安得广厦千万间，大庇天下寒士俱欢颜！风雨不动安如山。”大意为，如何能得到千万间宽敞高大的房子，庇护那些贫寒之士，让他们开颜欢笑。房屋像山一样安稳，风雨也无法动摇。故本题正确答案选A。

50. 下列成语与反映的哲学原理对应错误的是（ ）。

- A.量体裁衣——具体问题具体分析
- B.白马非马——要抓住事物的主要矛盾
- C.竭泽而渔——未能以发展的眼光看问题

D. 讳疾忌医——否认矛盾的客观存在

【答案】B。“白马非马”出自战国时期公孙龙的辩论，在他看来，“白马”与“马”这两个概念不同，因此它们之间毫无联系，从而推断出“白马”不是“马”。白马非马从根本上说是割裂了一般和个别、共性和个性的关系。B选项错误。ACD三项对应正确。故本题正确答案选B。

多项选择题

51. 云计算通常包含（ ）层次的服务。

- A. 基础设施即服务
- B. 分布计算即服务
- C. 软件即服务
- D. 平台即服务

【答案】ACD。云计算包括以下几个层次的服务：基础设施即服务（IaaS）、平台即服务（PaaS）和软件即服务（SaaS）。云计算服务通常提供通用的通过浏览器访问的在线商业应用，软件和数据可存储在数据中心，故ACD项说法正确，B项说法错误。故本题正确答案选ACD。

52. TCP/IP中具有代表性的两个传输层协议是（ ）。

- A. UDP
- B. TCP
- C. IP
- D. ICMP

【答案】AB。本题考查的是计算机网络基础。传输层协议主要是：传输控制协议TCP（Transmission Control Protocol）和用户数据报协议UDP（User Datagram Protocol）。其他是网络层。故本题正确答案选AB。

53. 李某在某商业银行工作期间，以完成放贷额度为由，强令商业银行向某企业发放贷款，造成商业银行损失五十万元。对此，应（ ）。

- A. 李某应当承担全部或者部分赔偿责任
- B. 提起诉讼，依法追究李某的刑事责任
- C. 处以一百万至一百五十万的罚款
- D. 对李某给予纪律处分

【答案】AB。李某强令商业银行向某企业发放贷款，造成银行损失，构成了违法发放贷款罪。违法发放贷款罪是指银行或者其他金融机构的工作人员违反国家规定发放贷款，数额巨大或者造成重大损失的，处五年以下有期徒刑或者拘役，并处一万元以上十万元以下罚金；数额特别巨大或者造成特别重大损失的，处五年以上有期徒刑，并处二万元以上二十万元以下罚金，故 AB 正确，CD 错误。故本题正确答案选 AB。

54. 微处理器是微型计算机的核心设备，影响微处理器性能的指标通常包括（ ）。

- A.主频
- B.内核数量
- C.字长
- D.接口类型
- E.快速缓存

【答案】AC。微处理器有三个重要的性能指标，它们是：时钟频率（主频）、字长和内存。故本题正确答案选 AC。

55. 习近平总书记重要讲话中提到：带头做到两个维护，是加强中央和国家机关党的建设的首要任务。两个维护是指（ ）。

- A.坚决维护党中央的方针和决策部署
- B.坚决维护中央人民政府集中统一领导
- C.坚决维护习近平总书记党中央的核心、全党的核心地位
- D.坚决维护党中央权威和集中统一领导

【答案】CD。党的十八大以来，党和国家事业之所以能取得历史性成就，发生历史性变革，最根本的原因，就在于以习近平同志为核心的党中央的坚强领导，就在于习近平新时代中国特色社会主义思想的科学指引。坚决维护习近平总书记党中央的核心、全党的核心地位，维护党中央权威和集中统一领导，是党和国家前途命运所系，是全国各族人民根本利益所在，是最根本的政治纪律和政治规矩。故本题正确答案选 CD。

56. 经济规律是经济现象和经济过程中一种（ ）的联系。

- A.必然的
- B.内在的
- C.不变的
- D.本质的

【答案】ABD。经济规律在不同的经济条件下会有不同表现，故C项错误；经济规律产生和发生作用的条件是客观的，经济规律的作用不以人的主观意志为转移，人们既不能消灭、废除或改造、也不能创造经济规律。所以经济规律是经济现象和经济过程内在的、本质的、必然的联系，故ABD项正确。故本题正确答案选ABD。

57. 海水循环的主要原因是（ ）。

- A.潮汐运动
- B.风
- C.海水密度
- D.火山爆发

【答案】AB。海水一直运动，从不停歇。海水的水平流动名叫洋流，垂直运动名为上升流和下降流。海水循环的主要原因是风和潮汐运动，以及海水的不同密度（由海水的温度与盐度的不同所致）。赤道地区的海水温度要比两极的海水温度高，因此就形成了温度差异。在北半球/洋流以顺时针方向流动；而在南半球；洋流则以逆时针方向流动。赤道附近，洋流的流动方向相反——赤道北边/自西向东；赤道南边/自东向西。自赤道地区出发，向南北流动的洋流水温较高，而自两极地区出发的洋流水温较低。故本题正确答案选AB。

58. 我国古代表示第一的词语有（ ）。

- A.桂冠
- B.榜首
- C.探花
- D.鳌头

【答案】BD。B项榜首原指科举考试录取名单告示上的第一位。D项独占鳌头指的是科举考试中的第一名，鳌头指的是皇宫大殿前石阶上刻的鳌的头，考上状元的人可以踏上。A项桂冠源于西方文化，把月桂树的枝条或花环作为一种胜利或杰出的象征，后来习惯以桂冠作为光荣的称号，也比喻冠军，不属于中国传统文化，排除。C项探花为殿试中第三名。故本题正确答案选BD。

59. 下列各种烟气均对大气有严重的污染，其中经净化处理后，可用作气体燃料的是（ ）。

- A.硫酸工业尾气
- B.燃烧石灰石产生的气体

- C.炼钢炉中产生的棕色烟气
- D.焦炉煤气

【答案】CD。硫酸工业尾气中的主要成分是 SO_2 、三氧化硫，不能用作燃料；焦炉煤气中含有氢气、甲烷、乙烯等可燃性气体，回收可用作燃料；炼钢过程中产生的棕色烟气中含有 CO ，回收可用作燃料；煅烧石灰石的气体产物是 CO_2 ，不能用作燃料。故本题正确答案选 CD。

60. 下列属于世界四大科学难题的是（ ）。

- A.人体基因结构
- B.宇宙中的黑暗物质
- C.受控核聚变
- D.纳米技术

【答案】ABC。当前世界上有四个最大的科学难题，全球各专业的科学家都在设法揭开大自然的这些秘密，如能解开这些谜团，那么人类的生活以及对世界的看法将发生根本的变化。这四大难题是：人体基因结构，宇宙中的黑暗物质，受控核聚变，生命起源。故本题正确答案选 ABC。

数资习题

1. 5, 6, 8, 12, 12, 20, 17, 30, ()

- A.19
- B.23
- C.26
- D.30

【答案】B。根据题干中的奇数项“5, 8, 12, 17, ()”判断，各项增加依次为 3, 4, 5，下一个应该增加 6，因此括号内应为 $17+6=23$ ，B 项符合题意，A、C、D 选项错误。故本题正确答案选 B。

2. 2, 4, 3, 7, 16, 107, ()

- A.1594
- B.1684
- C.1707

D.1856

【答案】C。2×4-5=3，4×3-5=7，4×3-5=7，3×7-5=16，7×16-5=107，则括号内为16×107-5=1707，C选项正确，A、B、D选项错误。故本题正确答案选C。

3. 2, 3, 6, 18, 108, ()

A.216

B.1080

C.2160

D.1944

【答案】D。根据题干，可得D项正确；递推积数列，2×3=6，3×6=18，6×18=108，因此18×108=1944，D选项符合题意。A、B、C选项错误。故本题正确答案选D项。

4. 5, 6, 19, 33, (), 101

A.55

B.60

C.65

D.70

【答案】B。做差得到1、13、14、(27)、41，此为多级数列，括号内应为33+27=60，B选项正确，A、C、D选项错误。故本题正确答案选B。

5. 1/5, 2/9, 3/13, 4/17, ()

A.5/19

B.6/21

C.5/21

D.6/19

【答案】C。根据题干，可得C项正确；分子为自然数列：1，2，3，4，(5)，分母是公差为4的等差数列，则17+4=21，C选项符合题意。A、B、D选项错误。故本题正确答案选C项。

6. 128, (), 8, 2, 4, 1/2

A.64

B.55

C.16

D.28

【答案】C。规律为 $8 \div 2 = 4$ ， $2 \div 4 = 1/2$ ，则括号内为 $128 \div 8 = 16$ 。C 选项正确，A、B、D 选项错误。故本题正确答案选 C。

7. 1, 2, 7, -2, 29, ()

A.45

B.76

C.116

D.153

【答案】A。两两分组，做差取绝对值，则有 1, 9, ()，代入答案，我们发现，如果是 45，刚好得出 16，则这三个数分别是 1, 3, 4 的平方， $4 = 1 + 3$ ，可满足题意，A 选项正确，B、C、D 选项错误。故本题正确答案选择 A。

8. -1, 1, 7, 25, 79, ()

A.121

B.241

C.243

D.254

【答案】B。根据题干 -1, 1, 7, 25, 79, $-1 = 3^0 - 2$ ， $1 = 3^1 - 2$ ， $7 = 3^2 - 2$ ， $25 = 3^3 - 2$ ， $79 = 3^4 - 2$ ，根据规律可推出下一项为 $3^5 - 2 = 241$ ，B 选项符合题意，A、C、D 选项错误。故本题正确答案选 B。

9. 7, 11, 17, 26, ()

A.39

B.40

C.41

D.42

【答案】B。 $7 + 11 - 1 = 18$ ， $11 + 17 - 2 = 26$ ，括号内为 $17 + 26 - 3 = 40$ 。B 选项正确，A、C、D 选项错误。故本题正确答案选 B 项。

10. 5, 7, 9, 11, 13, ()

A.15

B.16

C.17

D.18

【答案】A。题干为公差为2的等差数列，则括号内应为 $13+2=15$ ，A选项正确，B、C、D选项错误。故本题正确答案选A。

11. 下面数列表现出一定的规律性，0.002，0.04，0.3，4，（ ），你认为填入最合适的数字是？（ ）

A.60

B.5

C.50

D.500

【答案】C。依次分别为 2×10^{-3} ， 4×10^{-2} ， 3×10^{-1} ， 4×10^0 所以下一项应为 5×10^1 即50。C选项正确，A、B、D选项错误。故本题正确答案选C。

12. 2，4，7，11，16，（ ）

A.19

B.22

C.26

D.28

【答案】B。题干两两做差得到2，3，4，5，下一项应为6，则括号内为 $16+6=22$ ，B选项正确，A、C、D选项错误。故本题正确答案选B。

13. 3，10，34，43，45，54，（ ），85

A.80

B.92

C.96

D.78

【答案】D。题干规律为 $3+85=88$ ， $10+(\quad)=88$ ， $34+54=88$ ， $43+45=88$ ，则括号内应为 $88-10=78$ ，D选项正确，A、B、C选项错误。故本题正确答案选D。

14. 5，8，2，11，-1，（ ）

A.-8

B.8

C.14

D.-5

【答案】C。5+8-2=11，8+2-11=-1，所以括号内为2+11-(-1)=14。C选项正确，A、B、D选项错误。故本题正确答案选C。

15. 下面的一组数字表现出一定的逻辑性，6，1，12，3，（ ），5，24 你认为填入括号的应该是？（ ）

A.17

B.18

C.19

D.20

【答案】B。一共有7项，可看成多重数列。用交叉法寻找偶数项的规律6，12，（ ），24，发现偶数项都是6的整数倍，分别是1倍，2倍，（ ），4倍，易知（ ）内为6的3倍，即18。B选项正确，A、C、D选项错误。故本题正确答案选B项。

16. 下面的数字中表现出一定的逻辑，170，120，82，48，（ ），你认为应该填入数列最合适的数字是？（ ）

A.38

B.36

C.28

D.26

【答案】D。170=13²+1，120=11²-1，82=9²+1，48=7²-1，所以下一项为5²+1=26。D选项正确，A、B、C选项错误。故本题正确答案选D。

17. 33×75+61×90+34×87 的尾数为（ ）。

A.1

B.2

C.3

D.4

【答案】C。三个多项式尾数分别为5+0+8，因此总体尾数为3。C选项正确，A、B、D选项错误。故本题正确答案选C。

18. 8，32，4，1/8，（ ）

A. $1/32$

B. $1/4$

C. 8

D. 32

【答案】A。根据题干判断，数列规律为：第三项是第二项比上第一项的商，下一个应该是 $(1/8) / 4 = 1/32$ ，A 项符合题意，B、C、D 选项错误。故本题正确答案选 A。

19. 0, 1, 3, 9, 33, ()

A. 147

B. 150

C. 153

D. 156

【答案】C。根据题干判断，数列规律为： $1=0+1$ ； $3=1+1\times 2$ ； $9=3+1\times 2\times 3$ ； $33=9+1\times 2\times 3\times 4$ ，下一项应该是 $153=33+1\times 2\times 3\times 4\times 5$ ，C 项符合题意，A、B、D 选项错误。故本题正确答案选 C。

20. $1/100$, $1/50$, $3/100$, $1/25$, ()

A. $1/20$

B. $2/25$

C. $3/50$

D. $4/125$

【答案】A。根据题干判断，四项中有两项分数的分母都是 100，可以考虑将剩余的分数通分，分母化为 100，分子依次是 1, 2, 3, 4，下一项是 5，因此是 $5/100$ ，约分后为 $1/20$ ，A 项符合题意，B、C、D 选项错误，故本题正确答案选 A。

21. 11, 22, 39, 464, (), 67776

A. 896

B. 5625

C. 51208

D. 51296

【答案】B。根据题干分析，将每一项拆开看，每一项的首位数字形成 1, 2, 3, 4, (5), 6 的数列，余下的位数之间形成 $1^0, 2^1, 3^2, 4^3, (5^4), 6^5$ ，所求项为 5625，B 项正确，ACD 选项不符合题意，故本题正确答案选择 B 项。

22. 2, 1, 7, 23, 121, ()

A.145

B.512

C.719

D.915

【答案】C。题干规律为 $2+1=3, 3 \times 2+1=7, 1+7=8, 8 \times 3-1=23, 7+23=30, 30 \times 4+1=121, 23+121=144, 144 \times 5-1=719$ ，C 选项正确，ABD 选项错误。故本题正确答案选 C。

23. $1/2, -1/4, 3/8, -3/16, (), -5/64$

A.4/32

B.5/24

C.3/32

D.5/32

【答案】D。根据题干分析，数列的分母形成 2, 4, 8, 16, (32), 64，分子形成 1, -1, 3, -3, (5), -5 的规律，故所求项为 $5/32$ 。D 选项正确，ABC 选项不符合题意，故本题正确答案选择 D。

24. 甲是乙现在的年龄，乙才四岁，若乙是甲现在的年龄时，甲将有 67 岁，那么乙现在在 () 岁。

A.25

B.20

C.30

D.35

【答案】A。根据题意，设甲年龄为 x ，乙年龄为 y ，列方程组： $y - (x - y) = 4, x + (x - y) = 67$ ，解得 $x=46, y=25$ 。A 选项符合题意，BCD 选项错误，故本题正确答案选 A。

25. 有一货品当前售价比原价下降了 20%，若想要以原价售出，则当前的售价基础上，需要增加百分之 ()。

A.25%

B.40%

C.22.5%

D.20%

【答案】A。根据题意，赋值原价为100，则当前售价为 $100 \times (1-20\%) = 80$ ，因此要以原价出售，当前售价基础上需增加： $(100-80) \div 80 = 25\%$ 。A选项符合题意，BCD选项错误，故本题正确答案选A。

26. 一个等于其十位数字与个位数字之和的5倍的两位数，个位数字比十位数字大，这两位数是（ ）。

A.56

B.45

C.67

D.78

【答案】B。根据题意，利用代入排除法。四个选项均符合“个位数字比十位数字大”，A选项： $(5+6) \times 5 = 55 \neq 56$ ，排除；B选项： $(4+5) \times 5 = 45 = 45$ ，正确；C选项： $(6+7) \times 5 = 65 \neq 67$ ，排除；D选项： $(7+8) \times 5 = 65 \neq 78$ ，排除。故本题正确答案选B。

27. $10.13+36.45+26.37+58.64+35.82+45.87+12.55+84.63+43.36+84.18 = ()$ 。

A.438

B.448

C.438.6

D.448.6

【答案】A。原式= $(10.13+45.87) + (36.45+12.55) + (26.37+84.63) + (58.64+43.36) + (35.82+84.18) = 56+49+111+102+120 = 438$ ，A选择正确，B、C、D选项错误。故本题正确答案选A。

28. $841 \times 846 + 124 \times 54 - 241 \times 876 + 184 \times 415 - 451 \times 241 = ()$

A.474735

B.473733

C.484734

D.474531

【答案】B。根据尾数法可得， $1 \times 6 + 4 \times 4 - 1 \times 6 + 4 \times 5 - 1 \times 1$ 尾数 $=6+6-6+0-1=0-7$ 尾数 $=3$ ，
B 选项正确，A、C、D 选项错误。故本题正确答案选 B。

29. 2, 14, 84, 420, 1680, ()

A.2400

B.3360

C.4210

D.5040

【答案】D。根据题干分析，数列做商得到二级数列为 7, 6, 5, 4, 即公差为-1 的等差数列，下一项为 $4-1=3$ ，因此括号内应为 $1680 \times 3=5040$ ，D 选项符合题意。A、B、C 选项错误，故本题正确答案选 D。

30. 7, 14, 23, 36, 55, 82, ()

A.123

B.117

C.119

D.121

【答案】C。根据题干分析，数列做差得到二级数列 7, 9, 13, 19, 27，再做差得到三级数列 2, 4, 6, 8, 即公差为 2 的等差数列，下一项为 $8+2=10$ ，则二级数列下一项为 $27+10=37$ 。因此括号内为 $82+37=119$ ，C 选项符合题意。A、B、D 选项错误，故本题正确答案选 C。

31. 要折叠一批纸飞机，若甲单独折叠要半个小时完成，乙单独折叠需要 45 分钟完成，若两人一起折叠，需要多少分钟完成 ()。

A.10

B.15

C.16

D.18

【答案】D。赋值总量为 90，则甲的效率为 $90 \div 30=3$ ，乙的效率为 $90 \div 45=2$ ，则一起折叠需要 $90 \div (3+2)=18$ 分钟。D 选项正确，A、B、C 选错误。故本题正确答案选 D。

32. 有浓度为 4% 的盐水若干克，蒸发了一些水分后浓度变成 10%，再加入 300 克 4% 的盐水后，浓度变为 6.4% 的盐水，问最初的盐水多少克？ ()

A.200

B.300

C.400

D.500

【答案】D。设最初有盐水 x 克，原来有盐 $x \times 4\%$ ，浓度变为 10%后有盐水为 $x \times 4\% \div 10\% = 0.4x$ 克，根据加入 300 克 4%的盐水后的盐水浓度得到方程 $x \times 4\% + 300 \times 4\% = (300 + 0.4x) \times 6.4\%$ ，解得 $x = 500$ 。故本题正确答案选 D。

33. 有一家公司，其中有 $\frac{4}{9}$ 的员工的基本工资是 4500， $\frac{1}{6}$ 的员工基本工资是 5000，其余员工的基本工资为 7500，请问这家公司的员工平均基本工资大约是多少元？（ ）

A.5350

B.5750

C.6050

D.6200

【答案】B。根据“有 $\frac{4}{9}$ 的员工的基本工资是 4500， $\frac{1}{6}$ 的员工基本工资是 5000”说明员工人数既是 9 的倍数又是 6 的倍数，则赋值员工人数为 18 人，则有 8 人员工基本工资为 4500，有 3 人工资为 5000 元，则其余有 7 人员工位 7500，则员工平均基本工资为 $(4500 \times 8 + 5000 \times 3 + 7500 \times 7) / 18 = 5750$ ，B 选项正确，A、C、D 选项错误。故本题正确答案选 B。

34. 1000 克苹果价值 2.4 元，柚子的价格比苹果贵一倍，如果两个柚子的重量等于 5 个每个重 100 克的苹果，3.6 元能买（ ）个柚子。

A.3

B.4

C.6

D.10

【答案】A。苹果价格（单价）=2.4 元/kg，柚子价格（单价）=2.4*2=4.8 元/kg，3.6 元能买柚子重量=3.6/4.8=0.75Kg=750g，每个柚子的重量=1/2*5*100=250g，所以能买的柚子个数=750/250=3。A 为正确选项。B、C、D 选项错误，故本题正确答案选 A。

35. 某条道路安装了 60 盏功率相同的路灯，如将其中 24 盏的灯泡换为 200 瓦的节能灯泡，则所有路灯的耗电量将比之前节约 20%。如将所有灯的灯泡换为 150 瓦的节能灯泡，则耗电量能比之前节约多少？（ ）

A.62.5%

- B.50%
- C.75%
- D.64%

【答案】A。此题求的是节约的百分比，公式应为“（现路灯-原路灯）/原路灯*100%”，原路灯的电量能未知，设原路灯的功率为 x 瓦，可得 $0.8 \times 60x = 24 \times 200 + 36x$ ，解得 $x = 400$ 。全部换为 150 瓦的节能灯泡时，可节约 $(400 - 150) \div 400 \times 100\% = 62.5\%$ 。A 选项符合题意，B、C、D 选项错误，故本题正确答案选 A。

36. 一项工程由甲，乙，丙三个工程队共同完成需要 22 天，甲队工作效率是乙队的二分之三倍，乙队 3 天的工作量是丙队 2 天工作量的三分之二，三队同时开工，2 天后，丙队被调往另一工地，那么甲，乙再干多少天才能完成该工程？（ ）

- A.20
- B.28
- C.38
- D.42

【答案】C。根据效率的限定关系，赋值效率，令乙效率=4，则甲、乙、丙效率分别为 6、4、9，三队一起效率为 19，则工作总量为 19×22 。三队合作 2 天后，总工作量为 19×2 ，则剩下工作甲乙合作需要的天数为 $19 \times 20 \div (6 + 4) = 38$ 天。C 选项符合题意，A、B、D 选项错误，故本题正确答案选 C。

37. 甲杯中有浓度为 20% 的盐水 1000 克，乙杯中有 1000 克水。把甲杯中盐水的一半倒入乙杯中，混合后再把乙杯中盐水的一半倒入甲杯中，混合后又把甲杯中的一部分盐水倒入乙杯中，使得甲乙两杯中的盐水同样多。问最后乙杯盐水的浓度为多少？（ ）

- A.6%
- B.7%
- C.8%
- D.9%

【答案】C。第三次甲得倒 250g 盐水给乙，即自身总数的 $\frac{1}{5}$ ，此时乙的溶质为 $50 + 30 = 80g$ ，则浓度为 $80 \div 1000 = 8\%$ ，C 选项正确，A、B、D 选项错误。故本题正确答案选 C。

38. 某城市出租费实行分段计费, 10 公里内 3 元, 超出 10 公里部分每公里在 3 元基础上以 1 元每公里的幅度递增, 不足公里时以整公里计算。甲乙两人分别付费 75 元和 102 元, 则乙比甲多乘 () 公里。

- A.2
- B.4
- C.6
- D.8

【答案】A。根据题意, 超过 10 公里的部分计费构成等差数列, 甲乙超过 10 公里部分各收费 72 元和 99 元。设甲乙两人超过 10 公里后分别乘坐 X 和 Y 公里, 则 $(3+1)x+x(x-1)/2=72$, $(3+1)y+y(y-1)/2=99$, 解得 $x=9$, $y=11$, 则乙比甲多乘 2 公里, A 选项正确, B、C、D 选项错误。故本题正确答案选 A。

39. 甲乙两人相距 6 千米, 同时出发相向而行, 1 小时后相遇, 同时出发同向而行, 3 小时后相遇, 速度较快的人的平均速度是 () 千米/时。

- A.2
- B.1
- C.3
- D.4

【答案】D。根据题意, 设甲速度为 x , 甲乙速度和为: $6 \div 1=6$, 则乙速度为 $6-x$, 列方程: $6 \div [x - (6-x)] = 3$, 解得 $x=4$, 乙速度为 $6-4=2$, 因此速度较快的人平均速度是 4。D 选项符合题意, ABC 选项错误, 故本题正确答案选 D。

40. 某企业销售部门发放年终奖是按照销售额核算的, 销售额低于或等于 80 万元的部分, 按照该部分的 7.5% 发放, 低于或等于 150 万元时, 高于 80 万元的部分按 10% 核算; 高于 150 万元时, 高于 150 万元的部分按 12.5% 核算。某销售的销售额为 300 万元, 请问应发放年终奖多少万元? ()

- A.27.5
- B.30
- C.31.75
- D.33.75

【答案】C。根据题干分析，销售额为 300 万元时，发放的年终奖= $80 \times 7.5\% + 70 \times 10\% + (300 - 80 - 70) \times 12.5\% = 31.75$ 万元，C 项正确，ABD 选项不符合题意，故本题正确答案选择 C 项。

41. 某工人 7 月 1 日开始上班，上班第一天加工了若干个零件，此后由于技术日益娴熟，每天都能比前一天多加工 5 个零件，直到 7 月 10 日，他一共加工了 975 个零件，该工人 7 月 1 日加工了（ ）个零件。

- A.95
- B.80
- C.120
- D.75

【答案】D。该工人每天加工的零件数构成公差为 5 的等差数列，根据求和公式，设 7 月 1 日加工了 x 个零件，则有 $(x + x + 9 \times 5) / 2 \times 10 = 975$ ，则 $x = 75$ ，D 选项正确，A、B、C 选项错误。故本题正确答案选 D。

42. 某商店购进了甲乙丙三种类型的巧克力糖，所花费的费用相等，其中，甲类型每千克的费用是 5 元，乙类型是 8 元，丙类型是 10 元。如果把这三种巧克力糖混在一起卖，那么，混合后的糖每千克成本约多少元？（ ）

- A.6
- B.7
- C.8
- D.9

【答案】B。赋值花费的费用为 40，则甲类型 8 千克，乙类型 5 千克，丙类型 4 千克，则混合后每千克成本约为 $4 \times 3 \div (8 + 5 + 4) \approx 7$ ，B 选项正确，A、C、D 选项错误。故本题正确答案选 B。

43. 书法大赛的观众对 5 幅作品进行不记名投票。每张选票都可以选择 5 幅作品中的任意一幅或多幅，但只有在选择不超过 2 幅作品时才为有效票。5 幅作品的得票数（不考虑是否有效）分别为总票数的 69%、63%、44%、58%和 56%。问本次投票的有效率最高可能为多少？（ ）

- A.65%
- B.70%

C.75%

D.80%

【答案】B。赋值观众 100 人，那么 5 幅作品得票数分别是 69、63、44、58、56，共 290 票。想要投票有效率“最高”，即有效投票人数最高，反向构造则无效投票人数最少。根据“不超过”，令所有有效投票观众都投 2 幅作品，无效人数都投 5 幅作品时，多余票数 $290 - 100 \times 2 = 90$ 所对应的人数应该最少。因此无效人数为 $90 \div (5 - 2) = 30$ 人，投票有效人数为 $100 - 30 = 70$ 人，即有效率是 70%。故本题正确答案选 B。

44. 印刷车间工人用捆扎绳绑扎一批教材，A 类捆扎绳 1 米/根，可绑扎 8 本教材，B 类捆扎绳 0.8 米/根，可捆扎 5 本教材，C 类捆扎绳每根 0.4 米，可捆扎 4 本教材。现在有 50 本教材，则最少需要使用（ ）米的捆扎绳。

A.4.8

B.5.6

C.6

D.8

【答案】B。A 类捆扎绳每本教材需要耗费 $1 \div 8 = 0.125$ 米，B 类捆扎绳每本教材需要耗费 $0.8 \div 5 = 0.16$ 米，C 类捆扎绳每本教材需要耗费 $0.4 \div 4 = 0.1$ 米，则优先选用 C 类捆扎绳， $50 \div 4 = 12 \cdots 2$ ，考虑到还剩余 2 本，则应再拿出八本得到 10 本，选用 B 捆扎绳 2 根，其余 40 本依然使用 C 捆扎绳 10 根，则需要 $2 \times 0.8 + 10 \times 0.4 = 5.6$ 米，B 选项正确，A、C、D 选项错误。故本题正确答案选 B。

45. 一个正整数天数内，某水库的放水记录显示：有 7 天要么是上午没放水，要么是下午没放水，有 5 天是下午放水，有 6 天是上午放水。已知，当下午没放水时，上午一定放水了，则考察期的天数是（ ）天。

A.7

B.8

C.6

D.9

【答案】D。设考察期天数为 x 天，根据二集合公式总数 = $A + B - AB + \text{非 } AB$ ，由题意可知每天必然至少有半天放水了，因此不存在非 AB 部分。又因为有 7 天要么上午没放水，要

么下午没放水，则上下午都防水的 $AB=x-7$ ，则可得 $x=5+6-(x-7)$ ，解得 $x=9$ ，D 选项正确，A、B、C 选项错误。故本题正确答案选 D。

46. 某科学兴趣小组在进行一项科学实验，从装满 100 克浓度为 80% 的盐水中倒出 40 克盐水后，再倒入清水将杯倒满，搅拌后再倒出 40 克盐水，然后再倒入清水将杯倒满，这样反复三次后，杯中盐水的浓度是？（ ）

- A. 11.52%
- B. 17.28%
- C. 28.8%
- D. 48%

【答案】B。每次倒出 40g，相当于倒走总溶液量的 40%，即倒出溶质 40%，剩下溶质的比例的 60%，由此可得： $80\% \times 60\% \times 60\% \times 60\% = 17.28\%$ ，B 选项符合题意，A、C、D 选项错误，故本题正确答案选 B。

47. 某剧院有 25 排座位，后一排比前一排多 2 个座位，最后一排有 70 个座位，第 3 排有多少个座位？（ ）

- A. 24
- B. 26
- C. 28
- D. 30

【答案】B。由题意可知每排的座位数构成了一个公差为 2 的等差数列，则最后一排也就是第 25 排比第 3 排应该多了 $22 \times 2 = 44$ 个座位，则第 3 排有 $70 - 44 = 26$ 个座位，B 选项正确，A、C、D 选项错误。故本题正确答案选 B。

48. 李森在一次村委会选举中，需 $\frac{2}{3}$ 的选票才能当选，当统计完 $\frac{3}{5}$ 的选票时，他得到的选票数已达到当选票 21 数的 $\frac{3}{4}$ ，它还需要得到剩下选票的几分之几才能当选？（ ）

- A. $\frac{7}{10}$
- B. $\frac{8}{11}$
- C. $\frac{5}{12}$
- D. $\frac{3}{10}$

【答案】C。假设一共 60 张票，则需要 40 张才当选，统计到 $\frac{3}{5}$ 时，也就是 $60 \times \frac{3}{5} = 36$ 张时，他得到了 $\frac{3}{4}$ ，也就是 30 张，还少 10 张，所以是 $10 / (60 - 36) = \frac{5}{12}$ ，C 选项符合题意，A、B、D 选项错误，故本题正确答案选 C。

49. 10 个连续偶数的和是从 1 开始的 10 个连续奇数和的 2.5 倍，其中最大的偶数是多少？（ ）

A.34

B.38

C.40

D.42

【答案】A。从 1 开始 10 个连续奇数和是 100，2.5 倍就是 250， $250 / 5 = 50$ 。所以最中间那两个数就是 24、26，最大为 $24 + 2 \times 5 = 34$ 。A 选项符合题意，B、C、D 选项错误，故本题正确答案选 A。

50. 有一个正方形花池，周围用边长 25cm 的方砖铺了一条宽 1.5 米的小路，共用 1776 块。花池的面积是多少平方米？（ ）

A.111

B.289

C.400

D.10404

【答案】B。水池周围的面积是 $0.25 \times 0.25 \times 1776 = 111$ ，设外围正方形边长 X，花池小正方形边长 Y，则有 $X^2 - Y^2 = 111$ ，20 的平方是 400，17 的平方是 289， $400 - 289 = 111$ ，所以花池面积就是 289，B 选项符合题意，A、C、D 选项错误，故本题正确答案选 B。

51. 小长假期间，小李开车带家人出去旅游，已知出游时的行驶速度是回程时速度的 2 倍，且回程时比出游时多花了 9 小时，那么小李出游时花了（ ）小时才到达目的地。

A.6

B.7

C.8

D.9

【答案】D。本题考查的是路程相等时，速度与时间成反比。去程速度：回程速度=2：1，那么去程时间：回程时间=1：2，又因为回程比去程多了9小时，所以去程9小时，回程18小时。D选项正确，A、B、C选项错误。故本题正确答案选D。

52. 某公司销售一款化肥产品，过去每袋进价60元，卖掉后每袋的毛利润是40元，现在这款化肥的进价降低，为了促销，商家将化肥8折出售，毛利润却比过去增加了30%，请问现在每袋化肥进价是多少元？（ ）

- A.28
- B.32
- C.40
- D.48

【答案】A。每袋化肥进价60，毛利润40，即售价为100，商家8折即为80元。设现在化肥进价X元， $80-X=40\times(1+30\%)$ ， $X=28$ 。A选项正确，B、C、D选项错误。故本题正确答案选A。

53. 一个圆形的屋子，每隔3米摆放一盆花。屋子周长90米，则共需多少盆花？（ ）

- A.30
- B.31
- C.60
- D.62

【答案】A。环形种树的变形题，根据环形种树的公式，间距为3米，总长为90米，则共种 $90/3=30$ 盆花。A选项正确，B、C、D选项错误。故本题正确答案选A。

54. 某苗木公司准备出售一批苗木，如果每株以4元出售，可卖出20万株，若苗木单价每提高0.4元，就会少卖10000株，问在最佳定价的情况下，该公司最大收入是多少万元？

- ()
- A.60
 - B.80
 - C.90
 - D.100

【答案】C。设公司收入为 y 万元，增长 n 次时公司收入最多。则列式为 $y=(4+0.4n)\times(20-n)=-0.4(n-5)^2+90$ ，所以当 $n=5$ 时， y 取最大值，此时 $y=90$ 。即当增长了5次时，销量为15万，最大收入为90万元。故本题正确答案选C。

55. 甲和乙两家工厂各开一条产量为250件/天的生产线，完成相同数量的某种产品生产任务。完成部分生产任务后，供货商向乙工厂追加了相当于两家工厂当前已完成任务总量的订单。此时乙工厂增开一条产量为200件/天的生产线，生产10整天后与甲工厂同时完成任务。问供货商是在开始生产多少天后追加的订单？（ ）

- A.2
- B.4
- C.6
- D.8

【答案】B。设供货商是在开始生产 t 天后追加的订单，则追加的任务量为 $(250+250)\times t=500t$ ，增开的效率为200的生产线生产的订单，共用10天，则有 $500t=200\times 10$ ，解得 $t=4$ （天）。故本题正确答案选B。

56. 甲、乙两名编辑校对同一本书，校对速度保持不变。甲完成20%时乙还有420页没完成，甲完成50%时乙完成了450页。问乙完成全部工作时，甲（ ）。

- A.早已完成
- B.刚好完成
- C.还剩200页
- D.还剩20%

【答案】C。当甲完成50%时，乙完成了450页，根据比例关系，即当甲完成20%时，乙完成了180页。由于此时乙还差420页，则总量为 $180+420=600$ （页）。甲完成了50%时，完成300页，此时乙完成了450页，那么甲乙效率之比为 $300:450=2:3$ ，可知乙完成600时，甲完成400页。那么当乙完成时，甲还差 $600-400=200$ 页。故本题正确答案选C。

57. 工程队接到一项工程，投入80台挖掘机。如连续施工30天，每天工作10小时，正好按期完成。但施工过程中遭遇大暴雨，有10天时间无法施工。工期还剩8天时，工程队增派70台挖掘机并加班施工。问工程队若想按期完成，平均每天需多工作多少个小时？（ ）

- A.2.5

B.3

C.1.5

D.2

【答案】D。赋值每台挖掘机的工作效率为1，根据“正好”得工程总量为 $80 \times 30 \times 10 = 24000$ 。10天未施工，即是要在剩余的8天中干完 $10 + 8 = 18$ 天的工程量。

$80 \times 18 \times 10 = (80 + 70) \times 8 \times t$ ，解得 $t = 12$ 小时，故每天要多干2小时。故本题正确答案选D。

58. 商店购入一批某种水果，如按定价销售，每千克盈利23元，销售总量的 $\frac{5}{9}$ 后，每千克降价8元卖出剩余部分，销售这批水果共盈利2275元。问按原定售价卖出了多少千克水果？（ ）

A.60

B.65

C.75

D.80

【答案】B。假设总量为 $9x$ 千克，则原价卖了 $5x$ 千克，降价卖了 $4x$ 千克。原价所得盈利为 $23 \times 5x$ 元，降价之后所的盈利为 $15 \times 4x$ 元，相加等于总盈利2275元，解方程得到 $x = 13$ 。

原价卖出 $13 \times 5 = 65$ 千克。故本题正确答案选B。

59. 甲、乙、丙和丁四辆卡车运输一批货物。已知甲车满载可以装50箱，乙车满载可以装35箱。如果只使用甲车和丁车，满载4次正好可以运完；如果只使用乙车和丁车，满载5次正好可以运完；如果只使用丙车和丁车，满载6次正好可以运完。问丙车满载可以装多少箱？（ ）

A.18

B.20

C.25

D.27

【答案】C。由题干可得方程为： $4 \times (\text{甲} + \text{丁}) = 5 \times (\text{乙} + \text{丁})$ ； $4 \times (\text{甲} + \text{丁}) = 6 \times (\text{丙} + \text{丁})$ ；代入甲=50，乙=35，解得丁 $= 4 \times 50 - 5 \times 35 = 25$ ；把丁=25代入第二个方程，可得丙=25。

故本题正确答案选C。

60. 某班共有 30 名男生，其中 20 人参加足球队，12 人参加篮球队，10 人参加排球队。已知每人至少参加一个队，有 6 人既参加足球队又参加篮球队，有 2 人既参加篮球队又参加排球队，三个队都参加的人数是既参加足球队又参加排球队人数的三分之一，那么只参加足球队的有多少人？（ ）

- A.4
- B.6
- C.8
- D.10

【答案】D。设三个都参加的人数为 x ，根据容斥原理的公式可得到 $20+12+10-6-2-3x+x=30$ ，解得 $x=2$ ，那只参加足球队的人数= $20-(6+6-2)=10$ 。D 选项符合题意，A、B、C 选项错误，故本题正确答案选 D。

61. 为丰富职工业余文化生活，某单位组织了合唱、象棋、羽毛球三项活动。在该单位的所有职工中，参加合唱活动的有 189 人，参加象棋活动的有 152 人，参加羽毛球活动的有 135 人，参加两种活动的有 130 人，参加三种活动的有 69 人，不参加任何一种活动的有 44 人。该单位的职工人数为？（ ）

- A.233
- B.252
- C.321
- D.520

【答案】B。直接代入三集合的非标准公式： $189+152+135-130-2\times 69+44=x$ ，解得 $x=252$ 。故本题正确答案选 B。

62. 幼儿园的老师有 28 颗荧光星星，每天他都会把它们奖励给表现好的小朋友。如果要求每天奖励的星星数量不等，而且不能不奖励，那么，这些星星最多可以用几天？（ ）

- A.7
- B.6
- C.5
- D.4

【答案】A。每天奖励数量不等，要时间尽可能长，则应最少奖励一个，依次增加1，构成首项为1，公差为1的等差数列，第N天奖励N个，则根据等差数列求和公式 $N(N+1)/2 \leq 28$ ，则 $N \leq 7$ ，故本题正确答案选A。

63. 某年8月有四个星期三和五个星期四，那么这月18号为星期几？（ ）

- A.星期日
- B.星期一
- C.星期二
- D.星期三

【答案】A。根据题意，8月有4个星期三，5个星期四，意味着8月1日是星期四，则15号也是星期四，所以18号是星期日。A选项符合题意，BCD选项错误，故本题正确答案选A。

64. 某市高考科目有语文、数学、英语和综合四门，A、B、C、D、E五人的高考成绩成等差数列，已知A是523分，D是574分，E数学成绩比语文多10分，英语比数学多24分，综合成绩是语文的3倍还多1分，E英语考了（ ）分。

- A.115
- B.101
- C.125
- D.91

【答案】C。由A是523分，D是574分，A、B、C、D、E五人的成绩成等差数列得公差为 $(574-523) \div 3 = 17$ ，所以E的总成绩是 $574+17=591$ ，设E语文X分，则数学、英语、综合分别为 $X+10$ 、 $X+34$ 、 $3X+1$ ，其总分为 $6X+45=591$ ，解得 $X=91$ ，所以英语分数为 $91+34=125$ ，故本题正确答案选C。

65. 将溶液倒入若干瓶子中，如果每瓶装3500毫升，那么还剩下5000毫升，如果每瓶装4000毫升，那么还剩下500毫升。那么这些瓶子一共有多少个？（ ）

- A.12
- B.11
- C.10
- D.9

【答案】D。设瓶子共有 x 个，根据题干中的条件可知： $3500 \cdot x + 5000 = 4000 \cdot x + 500$ ，解得 $x=9$ ，故本题正确答案选 D。

66. A、B 两地相距 900 公里，甲、乙两车分别从 A、B 两地相向而行，速度比为 5: 4，相遇后甲的速度降低 20%，乙也调整了速度，甲到达 B 地后，乙距 A 地还有 20 公里，乙的速度是如何调整的？（ ）

- A.降低了 20%
- B.增加了 20 公里/秒
- C.增加了 20%
- D.降低了 20 公里/秒

【答案】C。行程问题，第一次相遇，甲乙走过的距离为 500 和 400，原来速度设为 $5v$ 和 $4v$ ，甲降速后为 $4v$ ，甲到达 B 地走了 400 公里，乙走了 480 公里，根据比例关系 $480/x=400/4v$ ，得 $x=4.8v$ ， $0.8v/4v=20\%$ ，提升 20%。故本题正确答案选 C。

67. 红日商店按照定价的 80%出售一款文具盒，发现仍能获得 20%的利润，那么，红日商店定价时期望的利润百分比是（ ）。

- A.33.3%
- B.66.6%
- C.50%
- D.80%

【答案】C。根据题意，设进价 x 元，定价 y 元，列方程 $80\%y=x(1+20\%)$ ，得到 $y=1.5x$ ，利润率： $(y-x)/x=0.5x/x=0.5=50\%$ 。C 选项符合题意，ABD 选项错误，故本题正确答案选 C。

68. 某单位利用业余时间组织了 3 次义务劳动，总计有 112 人次参加。在参加义务劳动的人中，只参加 1 次、参加 2 次和 3 次全部参加的人数之比为 5: 4: 1。问该单位共有多少人参加了义务劳动？（ ）

- A.70
- B.80
- C.85
- D.102

【答案】A。由只参加1次、参加2次、参加3次人数比5:4:1可知，其人次比应为5:8:3，而总人次为112，则只参加1次、参加2次、参加3次的分别为35人次、56人次、21人次，由此可知参加1次、参加2次、参加3次人数分别为35人、28人、7人，所以总人数为70人，故本题正确答案选A。

69. 近日，农垦职工准备开发一块荒地进行种植，开发分为几期进行。第一期开发土地为一个边长为2米的正方形。第二期再以这个正方形的对角线为边开发第二块正方形土地。第三期再以第二个正方形的对角线为边做第三个正方形，以此类推，第9个正方形土地的面积为（ ）平方米。

- A.2048
- B.1024
- C.4096
- D.512

【答案】B。根据题意，第一个正方形的面积为4，第二个正方形的面积为8，第三个正方形的面积为16，第四个正方形的面积为32，以此类推，面积构成公比为2的等比数列，则第9个正方形的面积为1024，故本题正确答案选B。

70. 一座大桥，甲、乙、丙三个施工队单独建各需20、24、30天。现在三队合建，但甲队因中途另有任务提前撤出，结果用12天全部完成。那么，甲队只建了（ ）天。

- A.4
- B.6
- C.3
- D.2

【答案】D。已知甲乙丙完成时间分别是20、24、30，赋值总量为120，可得甲乙丙效率分别为6、5、4，设甲做了T天，则 $120=6T+(5+4)*12$ ，解得 $T=2$ 。故本题正确答案选D。

71. 小明从新华书店买了9本价格不同的书，一共花费351元。回到家后发现这9本书的价格恰巧成一个等差数列。已知这9本书中，最便宜的是11元。问第三贵的书是多少元？

- ()
- A.25
 - B.60

C.53

D.46

【答案】C。 $a_5 = \frac{351}{9} = 39$ ，而 $a_1 = 11$ ，所以公差为 7，第三贵的为 $a_7 = 39 + 14 = 53$ ，C

项正确。A、B、D 项不符合题意。故本题正确答案选 C。

72. 老王过年要招待客人，所以去商店买了若干瓶红星二锅头和大桶可乐。由于买的数量较多，售货员按照每瓶二锅头 25 元，每桶可乐 6 元卖给了老王。老王一共花去 205 元。

老王共买了多少瓶二锅头和可乐？（ ）

A.10

B.11

C.12

D.13

【答案】C。假设二锅头 x 瓶，可乐 y 瓶。则有 $25x + 6y = 205$ ；根据奇偶特性， $25x$ 应该为奇数，所以尾数为 5；那么 $6y$ 的尾数应该为 0；如果 $y = 5$ ，则 $x = 7$ 。一共 12 瓶，故本题正确答案选 C。

73. 小明负责将某农场的鸡蛋运送到小卖部。按照规定，每送到 1 枚完整无损的鸡蛋，可得运费 0.1 元；若鸡蛋有损，不仅得不到该鸡蛋的运费，每破损一枚鸡蛋还要赔偿 0.4 元。

小明 10 月份共运送鸡蛋 25000 枚，获得运费 2480 元。那么，在运送的过程中，鸡蛋破损了

（ ）。

A.20 枚

B.30 枚

C.40 枚

D.50 枚

【答案】C。设破损的鸡蛋为 x 枚，共运送了 2500 枚，则未破损的有 $2500 - x$ 枚。根据获得运费 2480 元，可得 $(25000 - x) \times 0.1 - 0.4x = 2480$ ，得 $x = 40$ ，故本题正确答案选 C。

74. 某工厂每开工一天取得的收入大致相同，除每月的固定支出以外，其余为获得的利润。10 月份该工厂获得利润 725000 元。11 月份因环保问题，该工厂不得不停工 10 天，获得利润 450000 元。该工厂每月的固定支出为（ ）元。（该工厂节假日照常开工）

A.50000

- B.150000
- C.100000
- D.25000

【答案】A。设每天收入为 X ，每月固定支出为 Y ，依题意有 $31X-Y=725000$ ， $20X-Y=450000$ ，解得 $Y=50000$ ，故本题正确答案选 A。

75. 调查组长将 327 个调查任务分给五名组员，根据个人能力，每人分到的任务数各不相同，分到任务最少的人最多分到（ ）个调查任务。

- A.64
- B.63
- C.65
- D.66

【答案】B。根据题意，设分到任务最少的人最多分到 x 个任务，其他人尽可能的少且不相同，则构造数列由 $(x+4)$ ， $(x+3)$ ， $(x+2)$ ， $(x+1)$ ， x ，将 5 个相加得 $5x+10=327$ ，解得 $x=63.4$ ，最多向下取整，即 63 个，B 选项符合题意。ACD 选项错误，故本题正确答案选 B。

76. 某财政局要连续审核 30 个申请财政扶持的项目，如果要求每天安排的审核项目个数互不相等且不为零，这最多需要（ ）天。

- A.10
- B.9
- C.8
- D.7

【答案】D。题目中要求最多天数，因此，每天做的任务尽量少，最少为 1，但每天处理的文件数互不相等，所以需要 1、2、3、4、5、6，如果下一天做 7 余 2，会和前面重复，所以最后一天应该是 9，加起来一共 7 天。D 选项正确，A、B、C 选项错误。故本题正确答案选 D。

77. 一条 207 米的直线型道路，要在两侧安装路灯，路灯的照明直径是 10 米。请问至少需要安装多少盏灯？（ ）

- A.22
- B.21

C.42

D.44

【答案】C。根据题意，先考虑一侧路灯数量，照明直径为 10 米，则装灯数为 $207/10=20.7$ ，约为 21 盏，所以两侧共需装灯数为 $21 \times 2=42$ （盏），C 选项符合题意。ABD 选项错误，故本题正确答案选 C。

78. 甲、乙、丙三个车间共有员工 232 人，丙车间的员工数等于甲车间的员工数加乙车间员工数的 $1/5$ ，也等于乙车间员工数加上甲车间员工数的 40%，丙车间有员工（ ）人。

A.54

B.60

C.80

D.92

【答案】D。由“甲车间的员工数加乙车间员工数的 $1/5$ ”可知，甲和乙的员工总数为 5 的倍数，因此，二者人数和的尾数是 0 或 5，那么，丙车间的人数的尾数应是 2 或 7，选项中只有 D 符合。D 选项正确，A、B、C 选项错误。故本题正确答案选 D。

79. 某企业招聘一批新员工，有 65%的应聘者通过笔试，在面试环节有 20 人被淘汰，最终录取的人数占总应聘人数的 40%，企业将录取的新员工分成若干小组进行业务培训，每个小组的人数都不相同，每组至少 2 人，问至多可以分成多少个组？（ ）

A.7

B.8

C.5

D.6

【答案】D。由于 20 人被淘汰，比例由 65%变成 40%，故 20 人占整体 25%，可得总人数为 80 人，被录取人数为 32 人。32 人进行分组，要求至少两人，且每组人数不同，所以为了分成更多小组，取每个小组最小值：2，3，4，5，6，7，取到六组后，剩下的 5 人不能构成第 7 组，最多构成 6 组。故本题正确答案选 D。

80. 甲商店购入 400 件同款夏装。7 月以进价的 1.6 倍出售，共售出 200 件；8 月以进价的 1.3 倍出售，共售出 100 件；9 月以进价的 0.7 倍将剩余的 100 件全部售出，总共获利 15000 元。问这批夏装的单件进价为多少元？（ ）

A.120

B.100

C.144

D.125

【答案】D。结合基本公式。由于8月和9月的销量相同，8月的利润率为30%，9月的亏损率为30%，因此两者的利润一正一负相互抵消。设单件进价为 x ，通过“总共”可列方程 $200 \times 0.6x = 15000$ ，解得 $x = 125$ 元。故本题正确答案选D。

81. 某蓄水池有甲、乙两个进水管，单独开甲管20小时可以灌满水池，单独开乙管30小时可以灌满水池。单独开甲进水管5小时后，开启乙进水管，两管同时进水直至灌满水池，此时，甲管比乙管多进水600升，这个蓄水池的蓄水量为（ ）升。

A.1050

B.1250

C.1500

D.2000

【答案】C。赋值蓄水量为60，则甲、乙每小时灌水量分别为3和2。单独开甲进水管5小时后，开启乙进水管，两管同时进水还需 $(60 - 3 \times 5) \div (3 + 2) = 9$ 小时灌满水池，此时甲比乙多灌水 $3 \times 5 + (3 - 2) \times 9 = 24$ ，根据题意事实上多灌为600，所以总量应为 $60 \times 600 \div 24 = 1500$ ，C正确，A、B、D错误，故本题正确答案选C。

82. 某中学共有教师272人，男女教师的比例是1:3，暑假期间男教师有 $1/2$ 出国旅游，女教师中出国旅游的比例是男教师的 $1/2$ ，该校暑假出国旅游的教师共有（ ）人。

A.51

B.85

C.101

D.119

【答案】B。男教师共 $272 \div 4 = 68$ 人，女教师204人，出国旅游的男教师有 $68 \times 1/2 = 34$ 人，出国旅游女教师有 $204 \times 1/4 = 51$ 人，所以出国旅游的老师共 $34 + 51 = 85$ 人，B正确。A、C、D均错误，故本题正确答案选B。

83. 因木材两头损坏，小明先将一根长12米木材的两端各锯下1米，然后锯了4次，锯成等长的短木条，那么，每根短木条长（ ）米。

A.2

B.24

C.2.5

D.2.25

【答案】A。两端各锯下1米后，剩余10米，锯4次说明分成了5段，则每根短木条长 $10 \div 5 = 2$ 米，A选项正确，B、C、D选项错误。故本题正确答案选A。

84. 公司举行年度核心客户联谊会，设定了抽奖环节，其中特等奖为液晶电视，中奖率为 $1/12$ ，一等奖为笔记本电脑，中奖率为 $1/6$ ，二等奖为MP4，中奖率为 $1/3$ ，其余全部为三等奖，奖品为新款手机。负责购买奖品事务的小李有急事临时改由你接手，此时最先采购的100部新款手机已经送到，请问你需要购买多少台MP4？（ ）

A.40

B.120

C.60

D.80

【答案】D。设所有的奖项的中奖概率为1，如果设三等奖的中奖概率为x，则有 $1/12 + 1/6 + 1/3 + x = 1$ ，解得 $x = 5/12$ ，由三等奖“最先采购的100部新款手机”可以求出奖项总数为 $100 \div 5/12 = 240$ 。本题中求MP4的数量为： $240 \times 1/3 = 80$ 台。D选项正确，A、B、C选项错误。故本题正确答案选D。

85. 某专业现开设4门公选课，要求每人至少选2门课，则全专业至少有（ ）人才能保证至少有6个人选的课程完全相同。

A.31

B.37

C.56

D.67

【答案】A。根据已知条件，可得A项正确；4门公选课，要求每人至少选2门课，一共有 $C(2, 4) = 6$ 种选法，单种情况的不利值为5，如果这6种选课方式每种都有5个人选择，那么再有任意1人，就会满足“至少有6个人选的课程完全相同”的条件。因此至少有 $6 \times 5 + 1 = 31$ 人，A选项符合题意。B、C、D选项错误。故本题正确答案选A项。

2019年前三季度，A省全省交通运输完成客货换算周转量4090.15亿吨公里，同比增长2.2%，增幅比上半年提升1.1个百分点，延续小幅稳步回升态势。

货运方面，公路货运拉动明显，铁路货运平稳向好。前三季度，全省完成货运量17.19亿吨，同比增长3.2%，实现货物周转量3238.07亿吨公里，增长2.1%。从运输方式来看，公路运输在全省货物运输中占比高、拉动作用大。公路运输完成货运量15.32亿吨、货物周转量2310.67亿吨公里，占全省的比重分别为89.1%和71.4%，分别增长4.4%，和3.8%。铁路货运总体平稳，完成货运量3332.82万吨，增长0.5%；实现货物周转量602.34亿吨公里，增长2.1%，增幅较上半年提升0.1个百分点。水路货运下降较快，完成货运量1.45亿吨，货物周转量311.29亿吨公里，增速分别下降7.3%和9.2%。前三季度，民航和管道货物周转量分别增长12.1%和4.6%。

客运方面，公路客运降幅收窄，铁路客运持续增长。前三季度，全省完成客运量7.85亿人，同比下降5.1%，实现旅客周转量1305.25亿人公里，下降0.6%，降幅较上半年分别收窄1.3个和1.1个百分点。二季度以来公路客运下降幅度呈逐步收窄趋势。完成公路客运量6.42亿人、旅客周转量331.09亿人公里，分别下降8.1%和11.5%，降幅较上半年收窄1.2个和2.5个百分点。铁路旅客周转量占全省的比重超过六成，完成铁路客运量1.20亿人、旅客周转量805.61亿人公里，分别增长13.0%和3.4%。完成民航客运量1172.80万人，增长10.6%；实现旅客周转量166.05亿人公里，增长5.8%。

86. 36.2019年前三季度，A省公路运输完成货运量约为铁路运输完成货运量的（ ）倍。

- A.28
- B.32
- C.40
- D.46

【答案】D。根据材料第二段“公路运输完成货运量15.32亿吨...铁路货运总体平稳，完成货运量3332.82万吨”，可得： $\frac{15.32}{0.333282} \approx 45.9$ ，最接近46倍。D选项符合题意，ABC选项错误，故本题正确答案选D。

87. 2019年前三季度，A省水路货物周转量的同比增长量约为（ ）亿吨公里。

- A.+31.54
- B.-31.54

C.+26.23

D.-26.23

【答案】B。根据材料第二段“水路货运下降较快，完成货运量 1.45 亿吨，货物周转量 311.29 亿吨公里，增速分别下降 7.3%和 9.2%”，代入增长量公式，可得： $\frac{311.29}{1-9.2\%} \times (-9.2\%)$ ，因 $-9.2\% \approx -10\% = -\frac{1}{10}$ ，所以 $\frac{311.29}{10-1} = \frac{311.29}{9}$ ，首位商 3，下降为减少量。B 选项符合题意，ACD 选项错误，故本题正确答案选 B。

88. 2019 年前三季度，铁路旅客周转量的占全省的（ ）。

A.15.2%

B.34.5%

C.61.7%

D.84.4%

【答案】C。根据材料第三段“前三季度，全省实现旅客周转量 1305.25 亿人公里... 铁路旅客周转量占全省的比重超过六成，完成旅客周转量 805.61 亿人公里”，可得： $\frac{805.61}{1305.25}$ ，首位商 6。C 选项符合题意，ABD 选项错误，故本题正确答案选 C。

89. 2018 年前三季度，全省完成客运量的（ ）亿人。

A.5.42

B.7.47

C.8.27

D.10.56

【答案】B。根据材料第三段“（2019 年）前三季度，全省完成客运量 7.85 亿人，同比下降 5.1%”，代入基期公式可得： $\frac{7.85}{1-5.1\%}$ ，利用化除为乘得 $\approx 7.85 \div 0.949 \approx 7.85 \times 1.054 \approx 7.85 + 0.39 \approx 8.24$ 。

B 选项符合题意，ACD 选项错误，故本题正确答案选 B。

90. 2019 年上半年，全省完成客运量的同比下降率约为上半年全省交通运输完成客货换算周转量同比增长率的（ ）倍。

A.5.8

B.4.8

C.3.5

D.2.6

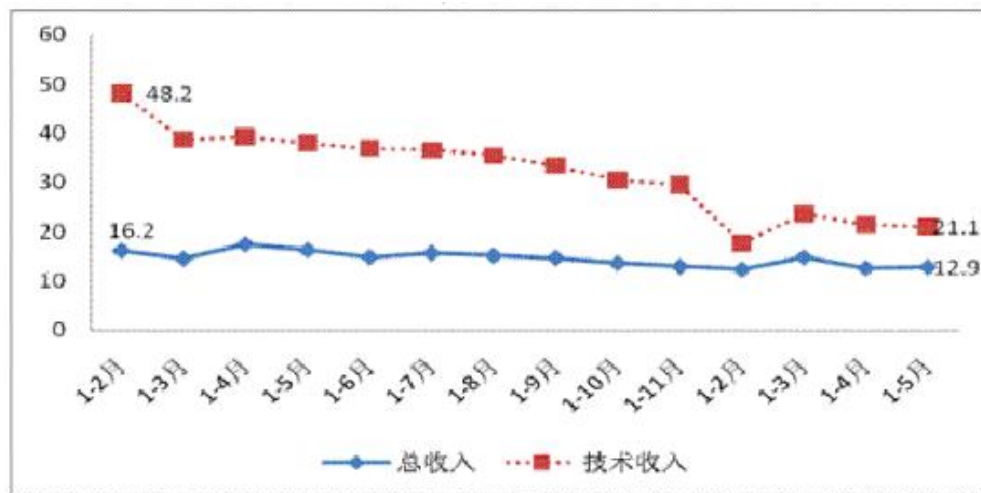
【答案】C。根据材料第一段“2019年前三季度，A省全省交通运输完成客货换算周转量同比增长2.2%，增幅比上半年提升1.1个百分点”，及第三段“（2019年）前三季度，全省完成客运量7.85亿人，同比下降5.1%，降幅较上半年收窄1.3个百分点”，可得上半年，全省完成客运量同比增长 $= -5.1% + 1.3% = -3.8%$ ，全省交通运输完成客货换算周转量同比增长 $= 2.2% - 1.1% = 1.1%$ ，因此得到 $\frac{3.8\%}{1.1\%} \approx 3.45$ 。C选项符合题意，ABD选项错误，故本题正确答案选C。

2019年1-5月，中关村示范区规模（限额）以上高新技术企业实现总收入21615.1亿元，比上年同期增长12.9%，增幅比1-4月提高0.2个百分点。主要运行情况如下：

重点高新技术领域保持增长。1-5月，中关村重点监测六大高新技术领域共实现总收入17445.2亿元，占中关村总收入的80.7%。其中，电子与信息、先进制造领域增势较好，比上年同期分别增长14.7%和13.1%。

企业科技创新活跃。1-5月，中关村研发人员合计58.6万人，比上年同期增长1.8%，研究开发费用合计866.8亿元，比上年同期增长17.9%。

2019年1-5月中关村示范区总收入及技术收入增速图



91. 2019年1-4月份，中关村示范区规模（限额）以上高新技术企业比上年同期增长约（ ）。
- A.12.9%
 - B.12.7%
 - C.13.1%

D.数据不足，难以得出

【答案】B。由“2019年1-5月，中关村示范区规模（限额）以上高新技术企业实现总收入21615.1亿元，比上年同期增长12.9%，增幅比1-4月提高0.2个百分点。”可知2019年1-4月中关村示范区规模（限额）以上高新技术企业比上年同期增长约 $12.9\% - 0.2\% = 12.7\%$ 。故本题正确答案选B。

92. 2019年1-5月份，中关村示范区规模（限额）以上高新技术企业总收入比上年同期增长约（ ）亿元。

A.24816.42

B.19145.35

C.2469.75

D.3201.32

【答案】C。由“2019年1-5月，中关村示范区规模（限额）以上高新技术企业实现总收入21615.1亿元，比上年同期增长12.9%”可知2019年1-5月份，中关村示范区规模（限额）以上高新技术企业总收入比上年同期增长约 $21615.1 / (1 + 12.9\%) \times 12.9\% \approx 2469.75$ 亿元。故本题正确答案选C。

93. 2019年1-5月，中关村重点监测六大高新技术领域总收入在同期中关村规模（限额）以上高5新技术企业总收入中的占比大约是（ ）。

A.8.01%

B.80.10%

C.18.71%

D.80.71%

【答案】D。由“2019年1-5月，中关村示范区规模（限额）以上高新技术企业实现总收入21615.1亿元……1-5月，中关村重点监测六大高新技术领域共实现总收入17445.2亿元”可得2019年1-5月，中关村重点监测六大高新技术领域总收入在同期中关村规模（限额）以上高新技术企业总收入中的占比大约是 $17445.2 / 21615.1 \approx 80.71\%$ 。故本题正确答案选D。

94. 2019年1-5月期间，中关村研发人员的人均研发费用接近（ ）万元。

A.15

B.20

C.10

D.25

【答案】A。由“1-5月，中关村研发人员合计58.6万人，比上年同期增长1.8%，研究开发费用合计866.8亿元，比上年同期增长17.9%。”可知人均研发费用是 $866.8/58.6 \approx 14.79$ ，接近A选项15万元。故本题正确答案选A。

95. 根据资料，可以推知以下说法中正确的是（ ）。

A.2018年1月至2019年5月期间，中关村示范区企业技术收入额呈下降趋势

B.2019年1-5月，中关村六大高新技术领域中，电子与信息领域同比增幅最高

C.2018年1月至2019年5月期间，中关村示范区企业研发费用呈逐月递增趋势

D.2019年1-4月，中关村规模（限额）以上高新技术企业总收入同比增幅低于去年同期数值

【答案】D。A选项，由图可知，2018年1月至2019年5月，图中折线图有波动，有下降有上升，因此不单纯是下降趋势，A选项错误；B选项，“1-5月，中关村重点监测六大高新技术领域共实现总收入17445.2亿元，占中关村总收入的80.7%。其中，电子与信息、先进制造领域增势较好，比上年同期分别增长14.7%和13.1%。”原文中没有说明电子与信息领域同比增幅为六大高新技术领域中最高，B选项错误；C选项，由“1-5月，中关村研发人员合计58.6万人，比上年同期增长1.8%，研究开发费用合计866.8亿元，比上年同期增长17.9%”原文中得不到逐月递增的结论，C选项错误。D选项，由图可知，2019年1-4月总收入同比增速低于去年同期增速，D选项正确。故本题正确答案选D。

据对全国6.0万家规模以上文化及相关产业企业调查，2020年前三季度，上述企业实现营业收入66119亿元，按可比口径计算，比上年同期下降0.6%，降幅比上半年收窄5.6个百分点；文化新业态特征较为明显的16个行业小类实现营业收入21229亿元，增长21.9%。

分行业类别看，在文化及相关产业9个行业中，新闻信息服务营业收入6434亿元，同比增长17.0%；创意设计服务10276亿元，增长9.0%；内容创作生产15855亿元，增长4.1%；文化消费终端生产12549亿元，增长0.8%；文化投资运营298亿元，增长0.2%。其余4个行业虽仍为负增长，但降幅明显收窄。

分产业类型看，文化制造业营业收入 25566 亿元，同比下降 3.8%，降幅较上半年收窄 5.7 个百分点；文化批发和零售业 10122 亿元，下降 10.0%，降幅收窄 7.7 个百分点；文化服务业 30430 亿元，增长 6.0%，增速提高 4.3 个百分点。

分领域看，文化核心领域营业收入 40423 亿元，增速由上半年下降 4.0% 转为增长 1.5%；文化相关领域 25696 亿元，下降 3.8%，降幅收窄 5.6 个百分点。

分区域看，西部地区实现营业收入 5865 亿元，增速由上半年下降 2.4% 转为增长 0.9%；东部、中部和东北地区分别为 50305 亿元、9385 亿元和 564 亿元，分别下降 0.4%、1.5% 和 15.9%，降幅分别收窄 5.9、5.2 和 3.9 个百分点。

2020 年前三季度全国规模以上文化及相关产业企业营业收入情况

	绝对额	比上年同期增长 (%)		所占比重
	(亿元)	前三季度	上半年	(%)
总 计	66119	-0.6	-6.2	100.0
按行业类别分				
新闻信息服务	6434	17.0	13.4	9.7
内容创作生产	15855	4.1	-0.3	24.0
创意设计服务	10276	9.0	3.3	15.5
文化传播渠道	6878	-16.5	-24.4	10.4
文化投资运营	298	0.2	-1.9	0.5
文化娱乐休闲服务	683	-39.9	-48.8	1.0
文化辅助生产和中介服务	9171	-9.5	-13.3	13.9
文化装备生产	3975	-3.4	-10.0	6.0
文化消费终端生产	12549	0.8	-5.9	19.0
按产业类型分				
文化制造业	25566	-3.8	-9.5	38.7
文化批发和零售业	10122	-10.0	-17.7	15.3
文化服务业	30430	6.0	1.7	46.0
按领域分				
文化核心领域	40423	1.5	-4.0	61.1
文化相关领域	25696	-3.8	-9.4	38.9
按区域分				
东部地区	50305	-0.4	-6.3	76.1
中部地区	9385	-1.5	-6.7	14.2
西部地区	5865	0.9	-2.4	8.9
东北地区	564	-15.9	-19.8	0.9

注：1.教中速度均为未扣除价格因素的名义增速。

2.表中部分数据因四舍五入，存在总计与分项合计不等的情况。

96. 2019 年前三季度，全国新闻信息服务企业的营业收入约为（ ）亿元。

- A.5340.22
- B.5499.14
- C.5673.72
- D.7527.78

【答案】B。本题考查基期量计算。根据材料第二段“新闻信息服务营业收入 6434 亿元，同比增长 17.0%”，利用公式 $6463 \div (1+17.0\%)$ ，首两位分别是 54。B 选项符合题意，ACD 选项错误。故本题正确答案选 B。

97. 2020 年前三季度，全国规模以上文化及相关产业企业营业收入最高的行业是（ ）。
- A.文化消费终端生产
 - B.新闻信息服务
 - C.内容创作生产
 - D.文体投资运营

【答案】C。本题考查简单读数。根据材料第二段“新闻信息服务营业收入 6434 亿元，同比增长 17.0%；内容创作生产 15855 亿元，增长 4.1%；文化消费终端生产 12549 亿元，增长 0.8%；文化投资运营 298 亿元，增长 0.2%”，最大的是：内容创作生产 15855 亿元。C 选项符合题意，ABD 选项错误。故本题正确答案选 C。

98. 2020 年前三季度，东部地区在全国规模以上文化及相关产业企业营业收入所占的比例约为（ ）。
- A.76.1%
 - B.38.67%
 - C.14.5%
 - D.8.9%

【答案】A。本题考查比重计算。根据材料第五段“东部、中部和东北地区分别为 50305 亿元、9385 亿元和 564 亿元”以及第一段“2020 年前三季度全国规模以上文化及相关产业企业营业收入 66119 亿元”，利用公式 $50305 \div 66119$ ，首位上是 7。A 选项符合题意，BCD 选项错误。故本题正确答案选 A。

99. 2020 年上半年，全国规模以上文化及相关产业企业营业收入增长最快的地区（ ）。
- A.东部地区
 - B.中部地区

C.西部地区

D.东北地区

【答案】C。本题考查简单度数。根据材料最后一段“西部地区实现营业收入 5865 亿元，增速由上半年下降 2.4% 转为增长 0.9%；东部、中部和东北地区分别为 50305 亿元、9385 亿元和 564 亿元，分别下降 0.4%、1.5% 和 15.9%”，增速最大的是西部地区 0.9%。C 选项符合题意，ABD 选项错误。故本题正确答案选 C。

100. 根据以上资料，下列说法正确的是（ ）。

A.2020 年前三季度，全国规模以上文化及相关产业企业营业收入绝对额比上年同期高

B.2020 年前三季度，全国规模以上文化及相关产业文化服务业营业收入所占比重相当于文化批发和零售业的三倍

C.2020 年前三季度，全国规模以上文化及相关产业企业营业收入增长最快的是文化娱乐休闲服务业

D.东北地区的文化及相关产业发展在全国处于领先地位

【答案】B。本题考查综合分析。A 选项，根据材料“2020 年前三季度，上述企业实现营业收入 66119 亿元，按可比口径计算，比上年同期下降 0.6%”，与上年比营业收入下降，A 错误。B 选项，根据材料“文化批发和零售业 10122 亿元；文化服务业 30430 亿元”， $30430 \div 10122$ 约等于 3，B 正确。C 选项，根据表格数据，文化娱乐休闲的增长率是负的 39.9%，并不是增长最快的，C 错误。D 选项，根据材料“分区域看，西部地区实现营业收入 5865 亿元，增速由上半年下降 2.4% 转为增长 0.9%；东部、中部和东北地区分别为 50305 亿元、9385 亿元和 564 亿元，分别下降 0.4%、1.5% 和 15.9%，降幅分别收窄 5.9、5.2 和 3.9 个百分点”，以及表 1 中各区域所占比重，可知东北地区发展不属于领先地位，D 错误。B 选项符合题意，ACD 选项错误。故本题正确答案选 B。

言语习题

1. （ ）今天的人类居住在一个空间探索和虚拟现实的完全现代化的世界里，但他们的活动和石器时代的狩猎者的活动基于（ ）的智力本质。例如，在受到威胁时进行对抗的本能，以及交换信息和分享秘密的动力。

依次填入括号中最恰当的一项是（ ）。

- A.其实，不同
- B.尽管，同样
- C.虽然，不同
- D.尽管，类似

【答案】B。第一空，由文段中“但”可知，第一空应选择能与“但”构成转折关系的词语，A项不符合，排除A项。第二空，由文意可知，人类虽居住在现代化世界，但和石器时代狩猎者的活动一样，表达“相同”含义的，首先排除C项，应为B项。D项“类似”只是相似，并非一样。故本题正确答案选B。

2. 越来越多的人表示愿意购买医疗保险产品，但医疗保险产品的销售情况并没有与需求保持（ ），因为消费者并不单是从开支管理角度来考虑，更多的是受到情感的（ ）。他们真正寻求的是一种心理安定，这往往是销售者所（ ）的。

依次填入，括号中最恰当的一项是（ ）。

- A.一致，左右，关注
- B.协调，干扰，利用
- C.同步，驱动，忽视
- D.统一，暗示，追求

【答案】C。本题的突破口在第三空。题干在说，越来越多人愿意购买医疗保险，而医疗保险的销售情况却没有因此而出现相应的提升，究其原因，人们在购买保险时更多的是寻求一种心理安定，而销售者没有意识到或重视这一点。故第三空不能填“关注”、“利用”“追求”，排除A、B、D。故本题正确答案选C。

3. 填入括号中最恰当的词语是（ ）。

（1）一年来，第三车间安全事故率位居榜首，给工厂造成了巨大损失，以车间主任为首的领导班子必须对此进行（ ），深刻认识到问题的严重性。

（2）对于破坏人民群众致富的行为，不管是主管哪一方面的领导，都应该勇于（ ），绝不能袖手旁观，任由其为非作歹。

- A.反思 干预
- B.反省 干预
- C.反思 干涉
- D.反省 干涉

【答案】B。第一空，“反思”有回顾思考的意思；而“反省”则有回顾，更有检讨的含义。文段中提到第三车间安全事故率较高，应该做出检讨，应为“反省”。排除AC。第二空，“干涉”着重于强行参预，横加阻挠，多指用粗暴强硬手段过问或制止，迫使对方服从。“干预”着重于过问别人的事，一般是给对方一定的压力和影响。“干涉”带有强硬，非法的味道。文段并没有非法强迫的意味，排除D项。故本题正确答案选B。

4. 研究发现，睡眠存在障碍与很多疾病有着难以（ ）的联系。有时候通过改善睡眠状态，可连带对另一种疾病的治疗起到（ ）的功效。

依次填入，括号中最恰当的一项是（ ）。

- A. 割裂，一石二鸟
- B. 分割，正本清源
- C. 确认，投石问路
- D. 区分，釜底抽薪

【答案】A。第一空，“难以割裂的联系”搭配恰当。第二空为突破口，前文的语境信息强调有时候可同时达到改善睡眠状况和治疗另一种疾病的效果，“一石二鸟”指一块石头投出去，打中两只鸟；比喻一举两得；置于此处符合语境要求。答案为A。D项中的“釜底抽薪”指把柴火从锅底抽掉；比喻从根本上解决问题。C项中的“投石问路”原指夜间潜入某处前，先投以石子，看看有无反应，借以探测情况；后用以比喻进行试探。B项中的“正本清源”指从根本上整顿，从源头上清理；比喻从根本上加以整顿清理。三者均无法体现出语境中强调的“同时起到两种效果”的意思。故本题正确答案选A。

5. 填入括号处最恰当的词语是（ ）。

(1) 这个电视的周末剧场实行电视剧十集（ ）模式，从上午八点一直持续到晚上六点。

(2) 在古代历史上，实力弱小的国家为了自保常常需要向大国提供（ ），以此换取两国之间的和平。

- A. 联播 供品
- B. 联播 贡品
- C. 联播 供品
- D. 联播 贡品

【答案】B。第一空，“联播”是中国特有的一种电视（广播）新闻节目形态。“连播”是广播电台或电视台把一个内容较长的节目分若干次连续播出。也就是连续播放的意思。第一空表示连续播放十集，应为“连播”，排除CD两项。第二空，“贡品”是古代臣民或属国献给帝王的抄物品。“供品”指供奉神佛祖宗用的瓜果酒食等。文段指小国向大国进贡，应为“贡品”。故本题正确答案选B。

6. 文化认同作为小到一个群体、大到一个民族向心力的有机“粘合剂”，是凝聚这个群体和民族伟大精神力量的_____。文化认同如果缺失，社会语境便趋于焦虑，人们的价值取向便会_____。因为，文化认同，相对于政治认同和社会认同，具有更深远的_____。

依次填入划横线部分最恰当的一项是（ ）。

- A.根基 迷失 内涵
- B.基础 失落 后盾
- C.基础 失落 意义
- D.根本 丢失 价值

【答案】A。“根基”是根本、基础之意，填入第一空最恰当；第二空表达的意思是缺乏文化认同会对价值取向产生影响，用“迷失”与“价值取向”搭配最为恰当，同时能照应前文“焦虑”。故本题正确答案选A。

7. 传统经济学习惯铺陈宏大的说辞，在人性的细节方面。总是_____，被抽空了细节的经济学，虽_____，拥有如庙堂般巍峨的气势，却还原和解读不了世界的真实。

填入横线部分最恰当的一项是（ ）。

- A.语焉不详 高屋建瓴
- B.闪烁其词 博大精深
- C.含糊其辞 鞭辟入里
- D.捉襟见肘 天马行空

【答案】A。先看第一空，句中是说传统经济学在细节方面关注不够。“闪烁其词”是指言语遮遮掩掩、吞吞吐吐；“捉襟见肘”形容衣衫褴褛，也比喻顾此失彼。据词义可排除B、D。再看第二空，“高屋建瓴”比喻居高临下、不可阻遏的形势；“鞭辟入里”形容分析透彻、切中要害。由句中“拥有如庙堂般巍峨的气势”可知，这里侧重的是气势的巍峨，故应选“高屋建瓴”。故本题正确答案选A。

8. “徒法不足以自行”，在目前公车管理还不甚规范的大环境下，单一的公车尾号限行政策值得_____，真要实行的话，要_____其负面作用。至少，要_____拿出措施防止公车因此而增加。

依次填入划横线部分最恰当的一项是（ ）。

- A.商讨 警惕 居安思危
- B.商量 防备 有备无患
- C.商议 提防 临阵磨枪
- D.商榷 谨防 未雨绸缪

【答案】D。此题关键点在第三空，填入的成语应与后文“拿出措施防止公车因此而增加”相对应，“未雨绸缪”指天还没有下雨，先把门窗绑牢，比喻事先做好准备工作。置于此处符合语义和语境。故本题正确答案选D。

9. 当我们在谈论创意的时候，大多会认为这没有什么规律可循，或者说，创意应该是_____的。我们会说：如果给创意制定一个框架的话，可能会束缚创意，让创意变成_____的工匠活。

依次填入划横线部分最恰当的一项是（ ）。

- A.天马行空 按部就班
- B.稍纵即逝 循规蹈矩
- C.自由自在 循序渐进
- D.标新立异 熟能生巧

【答案】A。第一空，根据前文的语境信息“没有什么规律可循”可知，填入的成语含义应与之对应；“天马行空”指马奔腾神速，像是腾起在空中飞行一样；多比喻诗文、书法等气势豪放；也比喻才思敏捷；置于此处符合语境。第二空，根据前文语境“如果给创意制定一个框架的话，可能会束缚创意”可知，此处强调缺乏创新，“按部就班”指按照一定的步骤、顺序进行。也指按老规矩办事，缺乏创新精神；置于此处符合语境。故本题正确答案选A。

10. 随着商品流通、贸易往来、人际交流的越来越_____，远古时代那种依靠步行的交通方式以及手提、肩扛、头顶的运输方式已很难适应社会发展的需要，于是交通运输设施的兴建与运输工具的制造便_____。

依次填入划横线部分最恰当的一项是（ ）。

- A.突出 迫在眉睫
- B.重要 备受瞩目
- C.明显 日新月异
- D.频繁 应运而生

【答案】D。第一空，“频繁”与前文语境中的“商品流通”、“贸易往来”、“人际交流”搭配均恰当。第二空，前文描述了改变交通运输方式时机的成熟，并用表示承接关系的“于是”一词引出下文，可知此处强调交通运输设施的兴建与运输工具的制造；“应运而生”指适应时机而产生，置于此处符合语境。故本题正确答案选D。

11. 越来越多的人表示愿意购买医疗保险产品，但医疗保险产品的销售情况并没有与需求保持_____。因为消费者并不单是从开支管理角度来考虑，更多的是受到情感的_____，他们真正寻求的是一种心理安定，这往往是销售者所_____的。

依次填入划横线部分最恰当的一项是（ ）。

- A.一致 左右 关注
- B.协调 干扰 利用
- C.同步 驱动 忽视
- D.统一 暗示 追求

【答案】C。本题突破点在第三空。语境强调“医疗保险产品的销售情况与需求不同步是因为销售者忽略了消费者会受情感因素影响”，C项中的“忽视”置于此处符合语境。第一空，“保持同步”搭配恰当。第二空，消费者受到“情感的驱使”搭配恰当且符合语境。故本题正确答案选C。

12. 在快速疾走的信息时代，我们不缺速度、但泛着智慧之光的_____才具长久魅力、文化不是流行、是_____是传承；大师不是过客、是恒星是路灯；名人不是符号，而是一个个鲜活的人。

依次填入划横线部分最恰当的一项是（ ）。

- A.远见 沉淀
- B.洞见 积淀
- C.卓见 积聚
- D.高见 积累

【答案】B。第一空要能体现出“智慧之光”，“洞见”“卓见”“高见”均可；第二空用来形容文化，一般用“积淀”。故本题正确答案选 B。

13. 在当前的涨价风潮中，有的商品确系成本增加而导致的终端消费价格上涨，但是也有不少商品却属于无须涨价之列，只不过看到其他产品涨价，便想搭上涨价的顺风车，为自己_____私利。这种跟风涨价的势头，政府必须采取有力措施坚决_____。

依次填入划横线部分最恰当的一项是（ ）。

- A.牟取 遏制
- B.谋取 遏制
- C.牟取 遏止
- D.谋取 遏止

【答案】C。第一个空，“谋取”和“牟取”皆可指获取不正当利益，但是从词性上来看，“谋取”为中性词，“牟取”为贬义词，填入文段，照应“私利”；第二个空，“遏制”和“遏止”强调的重点不同，“遏制”强调的是约束，“遏止”强调的是停止，“遏止”显然更适合文段语境。故本题正确答案选 C。

14. 依次填入下列各句划线部分的词语，与句意最贴切的一组是（ ）。

(1) 男子高空坠落被 60 厘米长钢筋_____胸腹，医生、消防员合力抢救。

(2) 本剧的原著小说《都市寻妖》在天涯论坛连载期间，凭借着新奇_____的故事、现代魔幻主义的文风，斩获了百万点击。

(3) 党的十八大以来，每年全国两会同代表委员共商_____，脱贫攻坚都是习近平总书记必讲的重要问题。

- A.贯串 鬼怪 国是
- B.贯穿 鬼怪 国事
- C.贯串 诡怪 国事
- D.贯穿 诡怪 国是

【答案】D。第一空，“贯穿”除了指“从头到尾穿过一个或一系列事物”之外，还指“连贯、穿过、通过”，既可用于抽象的事物，也可用于具体的事物。“贯串”一般只指“从头到尾穿过一个或一系列事物”，一般只用于较抽象的事物。文段指穿过胸腹，是具体事物，应为“贯穿”，排除 AC。第二空，“诡怪”意为诡谲怪异。两个词都可以说通。再看第三

空，“国事”指国家的事情，“国是”指国家大事或国家重大政策。文段指商量国家大事，且“共商国是”为常用搭配。排除 B 项。故本题正确答案选 D。

15. 6 年前的场景还_____，整个慢城地区，景色已更加精致——村姑进了城，学会了城里人的打扮，但依然不失_____。每到周末，厌倦了快节奏城市生活的人，便来到这里放松心情、品尝农家美食。大山村，依然那么美。

依次填入横线部分最恰当的一项是（ ）。

- A. 历历在目 淳朴
- B. 记忆犹新 精致
- C. 念念不忘 朴实
- D. 浮想联翩 精巧

【答案】A。逻辑填空题，结合语境辨析选项。首先看第二空，第二空应该是和“村姑”相照应，并且与“城里人的打扮”构成反义，排除 B、D。再来看第一空，历历在目的意思是“指远方的景物看得清清楚楚，或过去的事情清清楚楚地重现在眼前。”而念念不忘的意思是“形容牢记于心，时刻不忘。”主要强调的是牢记，是有意识的，并且一般前面有主语，如“谁对谁念念不忘”。所以用历历在目更合适一些。故本题正确答案选 A。

16. 一些人对传统文化的理解存在误区，认为凡是老祖宗传下来的文化遗产，就不能有丝毫的改变，必须在当代_____地得到传承。这种认识或许有助于_____传统文化的经典性，但这也决定了传统文化只能被小众欣赏。这名为保护传统，实则_____了传统与现实，终将使得传统文化被历史尘埃所湮没。

依次填入画横线部分最恰当的一项是（ ）。

- A. 一板一眼 凸显 混淆
- B. 原汁原味 维护 模糊
- C. 原封不动 保持 割裂
- D. 一字不差 发扬 阻断

【答案】C。第一步，分析语境，第一空与文段中“不能有丝毫的改变”的意思相近。“原封不动”“一字不差”都保持原来的样子，一点不加变动的意思。第二步，辨析“保持”和“发扬”。根据语境，“不能有丝毫改变”表明传统文化的经典性得到保持。“发扬”意为发展和提倡，有更进一步的意思。不符合语境，排除 D 选项。第三步，第三空“割裂”强调分割开，多指抽象的事物。而“阻断”强调因为阻止而中断进程或进展。传统与现实是

两个抽象事物，不是进程或进展，“割裂”更加恰当。C 当选。A 项：“一板一眼”比喻言行有条理，合规矩，不马虎。不符合语境。B 项：“原汁原味”比喻事物本来的，没有受到外来影响的风格、特性，没有强调不做改变，且“原汁原味”是形容词，而此处需要一个副词。故本题正确答案选 C。

17. 一方面，受世界经济_____影响，大宗资源产品价格走低，资源型企业纷纷陷入困境，资源型城市财政收入也急剧下降，无力增加投入；另一方面，随着经济发展进入新常态，大规模经济刺激已经_____，来自中央政府的强力支持相应减弱，资源型城市债务扩张趋于收紧。资源型城市转型面临的资金约束日益_____。

依次填入画横线部分最恰当的一项是（ ）。

- A. 下行 失效 紧张
- B. 萎缩 放缓 强化
- C. 低迷 弱化 严重
- D. 恶化 减退 明显

【答案】C。第一步，第一空，“经济形势恶化”，“经济”不与“恶化”搭配，排除 D 项。第二步，第二空，“刺激”有强弱之分，不能与“放缓”搭配，排除 B 项。根据后文，来自中央政府的支持相应减弱，说明前面的刺激并不是完全不起作用了。排除 A 项。带入第三空验证，面临的资金约束日益严重，语义通顺。故本题正确答案选 C。

18. 唐朝社会的各色人物在唐朝文人笔下_____，活灵活现，世界名著中有著名的四大吝啬鬼形象，即阿巴贡、泼留希金、夏洛克和葛朗台，而唐朝文人笔下的吝啬和贪婪之人亦_____。这些生活社会各阶层的人，被唐代文人刻画得_____，读来呼之欲出，令人不禁莞尔。

依次填入划线部分最恰当的一项是（ ）。

- A. 惟妙惟肖 不相上下 绘声绘色
- B. 跃然纸上 大相径庭 酣畅淋漓
- C. 栩栩如生 毫不逊色 入木三分
- D. 引人入胜 风格各异 活灵活现

【答案】C。第一空根据“活灵活现”可知，唐朝文人笔下的人物生动形象。“引人入胜”侧重风景或者艺术作品吸引人，并不表达“生动形象”的含义，排除 D 项。“惟妙惟肖”“跃然纸上”“栩栩如生”均有“生动逼真”之意，符合语境。第二空根据“亦”可知，

唐朝文人笔下的吝啬和贪婪之人的形象和世界名著中的是同样的。“大相径庭”侧重比喻相差很远，大不相同，不符合语境，排除 B 项。“不相上下”“毫不逊色”都有“同样”之意，符合语境。第三空与“刻画得”搭配。“绘声绘色”侧重描述得逼真，不能搭配“刻画得”，一般与“描绘”搭配，排除 A 项。“入木三分”侧重分析深刻，多与“刻画”搭配。故本题正确答案选 C。

19. 《海洋星球》是一部编排细致、表现手法新颖的环保纪录片。影片用几句_____的开场白点明人与海洋关系的主题后，便将镜头对准了 40 亿年前的太古时期。我们通过画面了解到，洋流如何孕育了生命的雏形，藻类如何引发了新生命的爆发，海洋生物如何互相追逐捕食，形成_____的生物链。

依次填入划横线部分最恰当的一项是（ ）。

- A. 开门见山 延绵不绝
- B. 提纲挈领 环环相扣
- C. 铿锵有力 唇齿相依
- D. 醍醐灌顶 密不可分

【答案】B。突破口为第二空。该空与“生物链”搭配，“绵延不绝”一般与建筑物、山峦等搭配，排除 A 项。另外，根据“洋流如何孕育了生命的雏形，藻类如何引发了新生命的爆发，海洋生物如何互相追逐捕食”可知，不同生物之间的关系密切。“唇齿相依”一般是指两个事物间相互依靠，但是生物链涉及的生物是多种，排除 C 项。观察第一空。根据“影片用几句……的开场白点明……主题”可知，影片的开场白是非常简明扼要的。“醍醐灌顶”比喻听了高明的意见，使人受到很大启发，不契合文意，排除 D 项。故本题正确答案选 B。

20. 水资源短缺一直是我国在人口增长、城市化和工业化过程中所面临的一个长期的、趋势性的问题，成为制约我国经济发展的一大瓶颈。专家认为，海水淡化是沿海及临海地区最经济、最实用、最灵活的水危机解决方案。随着技术的进步，海水淡化的成本将逐步降低，最终将达到与成本正逐步上升的城市自来水竞争的程度，从而得以大规模推广。

这段文字主要强调的是（ ）。

- A. 海水淡化的必要性和可行性
- B. 海水淡化的经济性和实用性
- C. 制约中国经济发展的水危机

D.解决沿海地区水危机的有效措施

【答案】A。文段首先提出了水资源短缺这一问题，随后提出海水淡化这一解决方案。结尾以“海水淡化的成本将逐渐降低，即可行性和经济型”来论证“海水淡化这一对策的合理性”，因此文段重点在第二句，“海水淡化是解决方案”。B选项“经济性和实用性”针对文段最后一句说的，是论证的内容。故本题正确答案选A。

21. 对于个体和一个国家来说，人的生存是首先要解决的头等大事，虽然环境保护已越来越多地被提及和关注，但比起解决“吃饭”问题，始终要屈居第二的。这也是发展中国家为什么多重复走发达国家先污染后治理的老路的原因，并非看不到教训，而是谋求发展的艰巨任务使得各国不得不走捷径，优先选择煤炭这种低廉可靠、提高贫困人口生活水平还能促进就业的发展型能源。

这段文字的主要意思是（ ）。

- A.环境保护和经济发展同样重要
- B.发展中国家为了生存和发展不得不先污染后治理
- C.解决温饱问题比保护环境更重要
- D.发展中国家谋求发展忽略了环境保护

【答案】B。文段开篇介绍了“‘环境保护’比起解决‘吃饭’问题，始终要屈居第二”这一话题，进而通过总结引出结论，即发展中国家选择走先污染后治理的老路的原因。B项是对文段的凝练概括，正确。A、C两项未提到“发展中国家”这一概念，排除；D项“发展中国家谋求发展忽略了环境保护”表述错误，排除。故本题正确答案选B。

22. 教育并不是越早越好，而是越合适越好。可是很多家长固执地相信，抢跑是在为孩子争分夺秒。自然界万物都按照生长规律自然生长，适当施加外力可以促其生长，倘若施外力不当，就容易出现倒退甚至枯萎现象。教育孩子也是一样的道理。

作者通过这段文字最想表达的意思是（ ）。

- A.家长不要对孩子进行早期教育
- B.要依据孩子现有的身心发展水平和知识水平对其进行教育
- C.让孩子不受约束地自然成长是最好的教育
- D.很多家长有一种错误的教育理念

【答案】B。文段论述了教育不是越早越好，而是越合适越好，其后是解释说明，非重点内容，针对主旨句提出对策，是要依据孩子现有的身心发展和知识水平对其进行教育。故

答案选择 B 项。A 项与文意不符合，作者是想告诉我们早期教育要合适，不是不要进行。C 项让孩子不受约束成长，是曲解文意，和文段意思不符合。D 项是错误的教育理念，不是作者论述重点，作者论述重点是正确教育理念。故本题正确答案选 B。

23. 人们看到别人处于紧急状态情境中而不去救援，不是由于人性的丧失，而是由于其他人在场，使其责任意识降低，从而抑制了人们的援助动机。这种责任分散心理，又称旁观者效应。个人所承担的责任变得不明确，从而责任感淡化，事情最终以谁都以为不会发生的方式发生。由于“责任扩散”，因而见义勇为，见死不救所产生的罪恶感、内疚感也同样会扩散到其他人身，某一个人所要承担的道德评价的风险大大减小，他所感受到的道德谴责的力度也大大降低，从而在下次类似情境下完全可能采取同样的态度与行为。

这段话主要介绍了（ ）。

- A. 避免道德冷漠的措施
- B. 造成道德冷漠的原因
- C. 旁观者效应发生的心理机制
- D. 旁观者效应出现的背景环境

【答案】C。文段前文介绍了旁观者效应，之后叙述“责任扩散”，罪恶感、内疚感扩散之后，道德谴责的力度降低了，实际就是谈心理层面的问题，故同义替换得出 C 项。B 项是干扰项，道德冷漠在原文中没有体现，排除。A、D 项中“措施”、“背景环境”原文没有体现，容易排除。故本题正确答案选 C。

24. 关于贫困，巴菲特是这样看待的：“对于一个人的成长来说，贫困可以磨砺一个人的志气，可以使人养成吃苦耐劳的品质，知道更加珍惜现有的一切，从这个角度讲贫困是事业成功的推动器。贫困就像深埋在地下的煤炭，能挖掘出来就是财富，挖不出来，还是贫困。而要把潜在财富变为现实财富，则取决于多种因素，环境机遇、人的能力品质、正确判断、奋斗精神，缺一不可。贫困是财富还是苦难，关键在于我们自己，有人被贫困压倒，一辈子窝窝囊囊，有人则在贫困面前崛起，终究成就了一番大事业，强者与弱者的区别仅此而已。”

上面这段文字意在强调（ ）。

- A. 贫困可以使人养成吃苦耐劳的品质，是事业成功的推动器
- B. 把潜在的贫困挖掘出来变成财富取决于多种不可或缺的因素
- C. 强者与弱者的区别就在于是否被贫困压倒
- D. 贫困可以是财富，也可以是苦难，关键是看你怎么去对待

【答案】D。整个文段引用了巴菲特的一段话，涉及内容是对于贫困的看法。在文段中巴菲特首先肯定了贫困积极的一面，接着以深埋在地下的煤炭进行形象比喻，极富理趣地告诉我们一个辩证的道理，即“贫困可以是财富，也可以是苦难，关键看你怎么去对待”，并以表示强调的“关键在于”进行引导。因此，文段意在激励人们，只有自己付出努力，才能把贫困转化成财富。故本题正确答案选D。

25. 在自然科学领域，那种从低级到高级、从落后到先进的发展序列是清晰可见的，其进步发展史是一个旧理论不断被新理论扬弃取代、科学体系与科学思想不断新陈代谢的过程，那种随着时间的推移而呈现出的向着更高更新的目标发展的趋势十分明显；而人文科学领域虽然也有知识体系与话语的新陈代谢与不断更新，但是在人文科学领域还有另外一种更突出的现象，那就是一些基本主题与命题的重复性与永恒性，这使得人文科学的发展常常显现为对于既有的知识与问题不断赋予新的时代内容和气息的人类精神观念的演进过程。

下列对于这段话的理解，错误的一项是（ ）。

- A. 自然科学的发展呈现为一个不断超越、不断进步的过程
- B. 基本主题与命题的重复性与永恒性是人文科学发展中的一个突出现象
- C. 随着时间的推移，自然科学总是向着更高更新的目标发展
- D. 人文科学的历史进程呈现为清晰的从低级到高级、从落后到先进的发展序列

【答案】D。由原文“在自然科学领域，那种从低级到高级、从落后到先进的发展序列是清晰可见的”及后文的“而人文科学领域虽然也有知识体系与话语的新陈代谢与不断更新，但是……”可知，选项D表述的规律适用于自然科学的历史进程，因此D选项表述有误。故本题正确答案选D。

26. 市场经济以自愿交易为基础，交易即产权的交换，交易顺利完成的前提是产权的界定和保护。若无产权保护，市场就有可能变成战场，侵占将取代互利，成为配置资源的主要方式。若想防止暴力配置资源，社会必须保护产权和保证契约的执行，这就需要一个完善的法律体系，法律的作用是惩罚侵权者和违约者。

这段文字意在说明（ ）。

- A. 产权受到法律保护市场经济才能够正常运行
- B. 制定产权保护的相关法律可以有效惩治侵权
- C. 市场经济发展的前提是遵循公平互利的原则
- D. 资源的有效配置应从产权的界定和保护入手

【答案】A。阅读文段我们可以看出这个文段是“总-分-总”的结构。第一句话的主要意思是：对产权进行界定和保护才能保证市场经济的正常运行。中间一句话则从反面分析没有产权保护可能给市场经济带来的危害。最后一句话则是指出要用法律来对产权进行保护去保障市场经济的正常运行。前后两个观点基本上一致，可以得知这段文字的重点就是在于论述产权保护和市场经济正常运转之间的关系。A项是对文段主要内容的同义替换，因此是最符合题意的选项。故本题正确答案选A。

27. 现收藏于陕西省博物馆的八棱金杯，是唐代比较有代表性的作品，1970年发掘出土。此杯为国家一级文物，高6.4厘米，侈口八角，圈足。八个面之间以连珠式图案相分割，分别装饰有拍板、吹箫、弹奏琵琶等人物浮雕图案，人物形象高鼻深目，明显是当时的西域胡人形象。此外，还有忍冬纹、卷草纹，以及山石、飞鸟、蝴蝶等装饰图案。这件文物对研究唐代金属工艺、造型艺术、文化交流、歌舞音乐以及服装穿戴等社会现象都有极大帮助。

下列说法与原文不相符的是（ ）。

- A.唐代时已有箫、琵琶等音乐器具
- B.当时西域与唐王朝有一定文化交流
- C.八棱金杯是唐王朝赠送给西域的礼品
- D.金杯的八个面之间以连珠式图案相分割

【答案】C。A项对应文段中“分别装饰有拍板、吹箫、弹奏琵琶等人物浮雕图案”。B对应文段中“明显是当时的西域胡人形象”。D对应文段中“八个面之间以连珠式图案相分割”，C选项在文中并无体现，为无中生有。故本题正确答案选C。

28. 偶然性在心理学中扮演的角色时常被外行人士甚至临床心理从业者忽略。人们很难意识到，行为的变化有一部分是随机因素引起的，因此心理学家不应自诩能够预测每一个案的行为。心理学的预测应该是概率性的，表示自己可以在个体层次上进行心理预测，是临床心理学家常犯的错误。

这段文字意在说明（ ）。

- A.临床心理学家更擅长对个体进行心理预测
- B.目前对人类行为预测的准确性还不高
- C.心理学的预测是对行为的总体预测
- D.人的行为发展变化具有偶然性

【答案】C。文段主要说的是在心理学上，偶然性扮演的角色经常被忽略导致临床心理学家经常犯错误。由“心理学家不应自诩能够预测每一个案的行为”和“表示自己可以在……常犯的错误”可知，A项说法错误；B项文段中没有体现，文段强调的是在个体层次上进行的心理预测存在错误；整个文段的主体框架是心理学，而D项没有涉及偶然性在心理学上的作用，故排除D项。根据“心理学的预测应该是概率性的”可知，心理学的预测是对总体大趋势的概率性预测。故本题正确答案选C。

29. 在社会与生活步伐加快的今天，人们难得闲暇去仔细翻阅报刊来捕捉当下集体意识的火花、把握社会想象的脉搏。互联网上的搜索引擎为难以脱身的人们提供了方便，它已成为人们获取信息的重要手段。网民只需手指一点，即可了解社会当天所发生的和最受关注的热点。然而网络搜索以及与此相关的讨论，会因网络信息的不断更新而很快成为“历史”。探讨如何把这些作为社会发展轨迹的“暂时性”保留下来，以便现在和将来作为了解社会的独特窗口，将是一件富有创意的工作。

如果这段文字是一篇文章的开头，接下来作者最可能（ ）。

- A. 引导大众科学、自觉地利用搜索引擎去了解社会
- B. 介绍在收集、整理网络热点信息方面的某种尝试
- C. 探讨如何使网络成为直观、直接了解社会的途径
- D. 剖析以快速、零碎为特征的网络阅读的潜在危害

【答案】B。文段后半部分主要论述的话题是如何将网络搜索以及与此相关的讨论保存下来，那么根据话题一致原则，接下来应该谈论的是关于如何保存的具体方法，即收集、整理。B项表述正确。A、C选项，运用网络，前文已经有提及，而且跟保存没有关系，排除。D选项，网络阅读，跟前文没有联系。故本题正确答案选B。

30. 超级火山的爆发强度将超过人类历史上任何一次火山喷发。研究发现，当岩浆升到地壳中后又无法突破时，就有可能爆发超级火山，压力下产生这种结果，可能意味着当岩浆最终爆发冲出时，某广阔区域内的某一点将被完全毁灭。世界末日论认为，这种事件将喷发出数百万吨重的残骸，并向大气中释放大量有毒气体，让整个世界陷入到所谓的核冬天。最糟糕的是，它可以将部分地区的生命、甚至整个地球的生命都消灭干净。

这段文字主要揭示的是（ ）。

- A. 世界末日论的基本观点
- B. 超级火山爆发的原因

- C.超级火山造成的危害
- D.地球生命面临的威胁

【答案】C。文段第一句为主题句，谈到了超级火山爆发带来的强烈影响。“研究发现”以及后文的“世界末日论认为”都是围绕该论点展开的具体论述。C项，符合。A、D两项都是世界末日论观点内的内容，仅仅属于分论点；B项只在研究发现的前面提及了，并非文段的结论。故本题正确答案选C。

31. 传统的“穿越”，对象是空间，如“穿越边境”、“穿越沙漠”；现在流行的是“穿越”则是“穿越时空”，是文艺作品中一种展开情节的流行手段。穿越电影、穿越电视剧、穿越小说等共同的特点，是人物会不断地往来于不同的时空。这种时空的错乱，容易造成受众的费解或误解。于是，“穿越”亦有了“玄”、“乱”“令人莫名其妙”等意思。

这段内容主要说明（ ）。

- A.“穿越”一词被赋予了新含义，有了“玄”、“乱”等意思
- B.“穿越”成为文艺创作中一种展开情节的流行手法
- C.因时空的错乱，“穿越”作品容易给受众造成误读
- D.“穿越”作品中的人物可以自由地往来于各个时空

【答案】A。文段的前半段是为了引出现在穿越作品这个话题，并指出现今作品中的穿越是时空的穿越。文段后半段提到现今穿越的特点，也是文段的重点，由于“穿越”中的时空错乱易造成受众的费解，“于是”后道出了现在穿越被赋予的新的含义。A项是文段强调的重点内容，因此选A项。B项仅仅是第一句话的概括，不准确。C项谈到穿越作品给予受众的感觉，是为了进一步解释穿越被赋予新含义的原因，因此在这里也不准确。D项是穿越作品中人物的特点，不能够概括全文，因此不选。故本题正确答案选A。

32. 古人写诗“二句三年得，一吟双泪流”；写小说，动辄“闭门谢客，披阅十载”。现在许多作家每年出好几部长篇，几十万字，个把月就写成了。没有对生活的日积月累，没有对人生的深思熟虑，没有对写作的精心布局，没有对文字的字斟句酌，反复修改，怎么会有精品？又怎能抵抗时间的淘汰？“创作”如果说不同于别的工作，就在于一个“创”字；如果说有难度，也在于一个“创”字，既不同于前人，又不同于自己。

这段文字主要表明（ ）。

- A.生活是创作的源泉
- B.时间是艺术作品的试金石

- C.今人的创作态度不如古人严肃
- D.长期潜心创作，才会出高质量的作品

【答案】D。文段通过对比古今作家在创作作品过程上的巨大差别，在尾句提出自己的观点，即只有长期潜心创作，才会出高质量的作品。A项文中并没有提到；B项中的说法失之片面；C项过于绝对，是错误的。故本题正确答案选D。

33. 公元1616年，莎士比亚与汤显祖同年逝世。二人都可算作16、17世纪之交的伟大剧作家。二人都爱写剧本，不过写法却不大一样。比如《罗密欧与朱丽叶》故事临近结尾，一双恋人殉情身亡，惨烈的悲剧以双方家族的和解收尾。和解的意愿的确美妙，只可惜，莎翁用于和解的笔墨太过不经意，仿佛仅仅为了“和解”的概念草草应付收场。《牡丹亭》里的杜丽娘，因梦中的相遇而思，而哀，而死，又因此而还生，而圆满。汤显祖将笔墨挥洒于爱而不耗损于恨，推敲于柔美而不沉醉于暴力，他笔下的爱，期待、给予、容纳、无嗔。

这段文字的主旨是（ ）。

- A.阐述莎士比亚和汤显祖的伟大之处
- B.分析《牡丹亭》独特的写作手法
- C.比较莎士比亚和汤显祖的艺术风格
- D.总结中外古典戏曲的共同点

【答案】C。文段可以分为两层，前三句话是总述，点明了文段的主旨——莎士比亚和汤显祖是同时代的伟大剧作家，但是二人的剧本写法不一样。之后的内容是分说，以《罗密欧与朱丽叶》和《牡丹亭》为例，具体比较二者艺术风格的不同。因此，只有C项完整地概括了文段的主旨。故本题正确答案选C。A项的主体与原文主体不符，原文主要谈论的对象是两个人的作品和风格，排除；B项表述片面，排除；D项偷换概念，把范围扩大了，排除；故答案选C。

34. 文明和文化是不同的。文明使所有的地方所有的民族越来越相似，按照德国人埃利亚斯《文明的进程》的说法，文明是一个群体社会中大家按照同一规则生活，就好像按照一个节拍跳舞，不至于踩到脚一样；而文化使一个民族与别的民族不同，它是与生俱来的，不是规则而是习惯。其实城市化也可以这样看：城市迅速发展，摩天大楼变成城市象征，这其实是现代文明在世界各个角落强势发展的结果。但是，我们又希望文明不要压倒文化，“同一”不要消灭“差异”。

这段文字意在（ ）。

- A. 质疑现代文明忽略民族个性的趋势
- B. 探究城市化进程与文明发展的关系
- C. 强调城市化进程中保存文化的必要性
- D. 比较文明与文化对人类发展的不同影响

【答案】C。文段前半部分讲文明与文化的不同之处，后半部分是讲城市化其实是文明发展的表现，接着用转折词指出在文明的发展过程中要确保对文化的保存。文段重点在后半部分，C项当选。A项“现代文明忽略民族个性的趋势”原文并没有体现，而且“趋势”是一种将来时态，文中作者只是阐明自己的看法，并没有对此提出“预测”等，所以排除A。原文确实提到了“城市化进程”和“文明”之间的关系，但是作者谈论这二者之间的关系是为了呼吁“文明不要压倒文化”，最终是落在保存“文化”，所以B项非重点，排除；D项在原文中没有过多的体现。故本题正确答案选C。

35. 每个人的德行都与公共生活紧密相关。现代国家中的公民，是构成社会的基本分子，离不开公共生活。公共生活的重要部分之一，就是完全超越利己动机的公益慈善。事实上，追问人的本性，每个社会成员都有向善、为善的一面。与其说这是完成他的社会责任，不如说这会给他带来助人的喜悦和欢愉。这既是本性，也是权利。那种片面地将公益慈善视为社会精英特权或某些组织禁脔的思想，是无视人之本性的陋见，不利于公共伦理和公共道德的形成，是阻碍现代公民意识生成的绊脚石。

这段文字意在强调（ ）。

- A. 德性与公共生活紧密相关
- B. 行善给人带来喜悦和欢愉
- C. 做善事是社会成员的权利
- D. 不正确的慈善观危害甚大

【答案】C。根据文段前两句的意思，可知“德性与公益慈善密切相关”。接着介绍了“做善事是本性，也是权利”。尾句通过反面论证进一步强调“行善是每个社会成员的权利，而非社会精英的特权”。文段重点句是“这既是本性，也是权利”。文段重在强调“行善是每个社会成员的本性和权利”。故本题正确答案选C。

36. 网络影评在传统影评集体失语的生态环境下迅速兴起并蓬勃发展，借助互联网这个载体，网络影评因突破时空界限而体现出开放、互动、便捷的特征，因回归到大众而使内容

形式趋向多元，因摆脱了现实的身份制约和利益牵挂而得以真实表露和独立发声。相较于传统影评，网络影评的优势体现在篇幅、格式、风格和传播上具有更多的自由。

作者通过这段文字意在强调（ ）。

- A.网络影评兴起并蓬勃发展的趋势
- B.网络影评兴起并蓬勃发展的条件
- C.网络影评兴起并蓬勃发展的前景
- D.网络影评兴起并蓬勃发展的原因

【答案】D。文段首句提出观点“网络影评在……下迅速兴起并蓬勃发展”，下文用了三个排比句“网络影评因……，因……，因……”阐述了网络影评的特征，尾句与传统影评对比阐述了网络影评在形式上的优势，这些都是造成网络影评蓬勃发展的原因。D项，当选。A项“趋势”和C项“前景”都是未来发展态势，文段阐述的是现状，故A项、C项错误；文段中多次出现“因”，文段阐述的是网络影评发展的原因，而非条件，故B项错误。故本题正确答案选D。

37. 城市文化与企业文化，作为文化分层意义上的中观文化和微观文化形态，无时无刻不发生着相互作用，乃至对二者的形成和发展产生深远的积极影响。城市文化作为中观环境，为所在企业文化的影响和发展提供了背景和源头。企业文化群体形成后，又与城市文化相互交叉、渗透，为其带来新的理念和发展动力，形成二者互相交融、取长补短、共同繁荣的局面。就青岛100多年的发展历史而言，企业文化在城市文化体系中占据了举足轻重的主导地位，优秀企业群体所彰显出的企业界精神构成了青岛“诚信、博大、和谐、卓越”城市思想的内核。可以说，青岛的企业文化建设工作面临着创世界品牌、立百年基业的艰巨任务，担负着塑造青岛城市精神、弘扬城市文化的历史使命。

这段话支持了这样一种观点，即（ ）。

- A.企业文化是城市文化中的一部分
- B.城市文化对企业文化的形成和发展产生深远的积极影响
- C.企业文化群体为城市文化的形成提供背景和理念
- D.青岛企业文化有待继续发展，任务艰巨

【答案】D。文段前半部分说明城市文化与企业文化“二者互相交融、取长补短、共同繁荣”，是为了引出后半部分在青岛企业文化肩负的任务艰巨。因此主体是青岛的企业文化，

答案为D。主体是青岛的企业文化，运用主体排除法可知，而A、B、C三项的主体并不是青岛企业文化，因此排除三项。故本题正确答案选D。

38. 下列各句中，加下划线的成语使用恰当的一句是（ ）。

A.从人们早就耳濡目染的传统曲目《天仙配》、《女驸马》，到让人耳目一新的现代佳作《徽州女人》、《雷雨》，这一发展历程表现出黄梅戏艺术旺盛的生命力。

B.我省有关部门负责人多次就环境保护问题发表讲话，旨在加大环境监督的执法力度，强化环境保的参与意识，因为环境与我们每个人的生活休戚与共。

C.作为中国高温合金的奠基人，师昌绪先生多次领导攻关会战，运筹帷幄，斩关夺隘，在我国航空发动机材料的研究方面倾注了大量心血，建立了卓越功勋。

D.近年来，人们购买中国自主品牌轿车的热情蔚然成风，主要是因为国产品牌质量不断提高。同时也可能与某些国际品牌多次发生因质量问题被召回的事件有关。

【答案】C。A项不合语境，“耳濡目染”指耳朵经常听到，眼睛经常看到，不知不觉地受到影响，这里应该改为“耳熟能详”。B项“休戚与共”：有福同享，有难同当。形容关系密切，利害相关。不合对象，这里应该用“息息相关”。D项指一件事表逐渐发展盛行，形成一种良好风气，用错对象。故本题正确答案选C。

39. 文化产品不同于一般产品，它直接作用于精神领域，关乎人的心灵世界，关乎民族的精神面貌，关乎社会的文明进步。对文化产品创作生产要进一步加强正确引导。导向正确了，文化就能健康发展，人民群众就能长期受益。

本段文字的主旨是（ ）。

A.文化产品是直接作用于精神领域的非一般产品

B.文化产品创作应该更加注重精神领域

C.文化产品创作生产要坚持正确的导向

D.文化能否健康发展完全依赖于导向是否正确

【答案】C。文段开头说明了文化产品对于人类社会文明进步的重要性，接下来又强调了正确导向对文化产品创作生产的重要作用，答案应为C项“文化产品创作生产要坚持正确的导向”。A项只是简单概括了文化产品的特征，并非文段主旨；B项说法在文中没有体现；D项表述过于绝对，文化的健康发展在一定程度上依赖于导向正确与否，但并非“完全依赖”。故本题正确答案选C。

40. 由于近年来黄河水资源过度开发利用, 1972 年以来, 黄河有 21 个年份出现断流; 1997 年, 黄河断流 226 天。断流河段一直延伸到开封, 长达 704 公里, 一方面黄河“脑水荒”, 另一方面流域内用水有增无减。专家预计, 到 2010 年, 遇到正常来水年份, 黄河用水缺口将达 40 亿立方米; 遇到缺水年份, 黄河用水缺口将达 100 亿立方米。黄河支持流域社会经济的功能已到极限。

这段文字意在说明 ()。

- A. 黄河水资源利用已突破河流承载的极限
- B. 开发利用黄河水资源已造成河流长年干涸断流
- C. 黄河“生命”将很快终结
- D. 黄河自身平衡的“生态水量”已一去不复返

【答案】A。文段首句阐述了由于黄河水资源过度开发与利用, 导致黄河出现了严重的断流现象。后文引用专家的预测, 进一步阐述未来无论是正常来水年份还是缺水年份黄河用水缺口都会很大, 并在最后表明“黄河支持流域社会经济的功能已到极限”。由此可以看出, 文段主要想表达的是黄河水资源的利用已经达到了极限。A 项为文段中心内容的同义替换, 答案为 A。B 项错误, 材料并未提及什么原因造成的黄河断流; C 项表述绝对化, 不能准确说明文意; D 项不是原文主要论述的内容。故本题正确答案选 A。

41. 有人说, 传统小说是依赖经验的写作。而网络小说则依赖想象的写作。看来, 这两种写作需要找到一个结合点。依赖经验的写作需要吸纳网络小说的想象, 而依赖想象的写作则需要糅入传统小说中丰富充实的经验。因此, 当今的文学要从原创力日益萎缩的窘境中走出来。作家们增加生活经验的积累应该是一个非常关键的举措。但这还只是由经验通往原创力的第一步。接下来必须在检验上进行认真的修炼, 使生活经验转化为心灵体验, 使客观的经验世界转化为作家主观的心灵世界。

这段文字重点强调的是 ()。

- A. 如何转化经验吸纳想象
- B. 怎样找到传说和网络小说的结合点
- C. 作家应该如何不断的积累生活经验
- D. 如何提高文学的原创力

【答案】D。文段开头指出, 传统小说和网络小说依赖的侧重点不同, 需要找到一个结合点, 互相借鉴。然后通过因此指出当今文学原创力的提升, 增加生活经验是一方面, 然后

通过“但”引出另一方面，即认真修炼，将生活经验转化为心灵体验。文段都在讲当今文学怎么将原创力从日益萎缩的窘境中走出来，也就是如何提高原创力，答案为D。A、B均非文段重点。C项概括不全，只说了一个方面。故本题正确答案选D。

42. 科学界一向认为行星本身是没有能源的，虽然在夜间我们能看到行星，但行星发光只不过是反射了太阳光的结果。然而，最近报道，木星放射出来的能量却明显地多于它从太阳吸收的能量，木星这种异乎寻常的现象，不由得使人产生许多问题：木星有热和能源吗？这种能源是在大气层里，还是在他的内部？经过进一步的研究，人们已经探明木星大气层的成分，并得出在那里不可能产生热和能源的结论。

这段话主要表明了这样一个观点（ ）。

- A.木星发光是反射太阳光的结果
- B.木星内部有可能产生热和能源
- C.木星不可能产生热和能源
- D.行星本身不发光

【答案】B。文段首句指出行星发光只是反射太阳光的结果，然后通过“然而”转折，指出木星放射的能量明显多于从太阳吸收的能量，由此引发疑问：木星有热和能源吗？这种能源是在大气层还是内部？然后经过进一步研究，指出木星大气层不可能产生热和能源，既然大气层没有能源，那么木星能量则是来源于内部。答案为B。A项，概括不全，不只是反射太阳光；C项与文段主旨相悖；D项，行星不发光并非文段重点。故本题正确答案选B。

43. 澄江化石群还揭示了以金字塔式结构的能量有序传导作用为特征的生物大尺度统一场的自发产生和演化。随着食肉类捕食能力的迅速提高，动物不仅要有坚硬的外壳，还得有发达的视力和活动能力，以便对危险做出快速反应，骨骼化的防护体系便瓦解了。澄江巨型食肉类化石的发现证实了这一看法。

“这一看法”是指（ ）。

- A.动物不仅要有坚硬的外壳，还得有发达的视力和活动能力
- B.生物大尺度统一场的自发性和演化与食肉动物有关
- C.食肉类捕食能力的提高，使骨骼化防护体系瓦解
- D.“寒武纪生物大爆发”理论

【答案】C。根据代词指代做题原则，这指代的内容应为“随着食肉类捕食能力的迅速提高，动物不仅要有坚硬的外壳，还得有发达的视力和活动能力，以便对危险做出快速反应，

骨骼化的防护体系便瓦解了。”概括起来，即食肉类捕食能力提高，外壳得以变强以及视力和活动能力增强，所以身体的骨骼相应变弱。答案为 C。A 项未提骨骼；BD 两项非前文指代对象。故本题正确答案选 C。

44. 对自己的过度欣赏是自恋的主要内容，其特点是用一种过于积极的、近乎膨胀的态度来看待自我。这样的人认为自己无论在外貌、智力、财富、创造性和社会地位等诸方面都比别人强，尽管事实完全不是这样。另一个与其相关的特点则是对他人的漠视，这一点构成了自恋与自尊的重要区别。自尊者重视他人的看法，重视人际关系，而自恋者却不会，他们缺乏对他人的关心和爱，与人相处时冷漠、浮夸，缺少与人的深层联系。

对这段文字概括最恰当的是（ ）。

- A. 自恋与自尊的区别
- B. 自恋者的特点
- C. 自恋者的表现
- D. 自恋的主要内容

【答案】B。本题考查主旨概括。文段为分分结构，通过两个并列层次介绍了自恋者的两个特点：一是会看重自己，二是会看轻别人。对比选项，B 项是对全文内容的全面概括。B 当选。A 项并没有对自恋和自尊进行比较，可以排除 A 项。文段中针对自恋者的表现只是特别说明了一种，对于第一种就没有详细的说明自恋者的表现，可以排除 C。在文段中作者没有针对自恋者自恋的内容进行详细的论述，故排除 D。故本题正确答案选 B。

45. 研究发现，长期吃核桃等坚果能改善一些与大脑功能相关的指标，和人们所期待的核桃“补脑”功能并不是一回事。到现在为止，并没有直接的研究证据表明，吃了核桃之后，就能短期内提高人的智商，或者提高考试成绩。而且，多数人的智力会在 20~30 岁左右达到顶峰，之后则很难提升。正确的饮食包括日常摄入少量核桃等坚果，确实有利延缓大脑的衰老过程，减少包括中风在内的疾病风险。但那种吃了马上就“反应快了，记忆好了，智力蹭蹭往上跑了”之类的效果，只是我们的一种美好想象。

根据这段文字，下列说法正确的是（ ）。

- A. 长期吃核桃不能改善与大脑功能相关的指标
- B. 吃核桃短期内能提高人的智商或考试成绩
- C. 吃核桃使多数人的智力在 20~30 岁达到顶峰
- D. 日常摄入适量核桃有利于延缓大脑衰老过程

【答案】D。第一步，注意审题，要求选择正确的选项。第二步，从选项入手，到原文中找对应信息。先看A项，根据“长期吃核桃等坚果能改善一些与大脑功能相关的指标”可知，A项表述与原文相反，故排除。第三步，看B项，根据“并没有直接的研究证据表明，吃了核桃之后，就能短期内提高人的智商，或者提高考试成绩”可知，吃了核桃之后能否短期内提高人的智商或考试成绩还不确定，B项表述是确定的，偷换语气，故排除。第四步，看C项，根据“……多数人的智力会在20~30岁左右达到顶峰，之后则很难提升”可知，多数人的智力会在20~30岁左右达到顶峰，并不是因为吃了核桃才达到顶峰，C项强加因果，属于偷换逻辑，故排除。四个选项排除了三个，故本题正确答案选D。

46. 中国传统节日，往往有着博大的内涵，七夕也是如此。七夕节原名为乞巧节，又被称作“女儿节”，是过去女性们最为看重的节日。喜蛛应巧、穿针比巧、种生、拜织女、拜魁星、吃巧果花瓜……从这些传统七夕习俗中可以看出，七夕节的意义远远不止爱情。但是，一种传统文化得以传承，往往并不是其最本来的面貌，而是其最被人们需要的面貌。一种传统节日之所以式微，也往往是因其脱离了生活，失去了传承与发展的沃土。

以下说法不符合文意的一项是（ ）。

- A.七夕节可以传承是因为贴切人们生活
- B.中国传统节日很多都已经没落
- C.七夕节有丰富的文化内涵
- D.人们会根据生活需要选择性传承传统节日

【答案】B。考查细节理解。B项属于无中生有，文段并未提及很多传统节日没落。A项对应“一种传统节日之所以式微，也往往是因其脱离了生活”，符合文意；C项对应“往往有着博大的内涵，七夕也是如此”，符合文意；D项对应“一种传统文化得以传承，……而是其最被人们需要的面貌”，符合文意。故本题正确答案选B。

47. 当前国际政治经济格局正经历历史性变革，受国内经济发展缓慢，收入分配严重失衡的影响，一些发达国家举起了贸易保护主义和单边主义的大旗，蓄意破坏WTO等多边贸易规则，导致商品和要素流动不畅，严重威胁世界经济的稳定和发展，中国作为世界第二大经济体，无论是从自身发展角度营造更加有力的外部环境，还是从负责任大国的角度推进全球经济治理体系变革，都决定了中国要努力推进制度型开放，化被动为主动，以积极的国内改革缓和紧张的外部压力，同时也以自身改革示范推进全球经济规则更加完善。

下列选项最适合做文字标题的是（ ）。

- A.谁在威胁世界经济
- B.变革中的国际政治经济格局
- C.完善全球经济规则，中国责无旁贷
- D.以制度型开放适应国际经济形式变化

【答案】C。文段为问题加对策类的文段，前半部分写了全球政治经济存在的问题，下半部分提出对策，即中国应该通过“制度型开放”以及“自身改革示范”两方面做出自己的贡献，C项说到了中国的应做出的贡献，答案为C。AB两项并非中国的贡献，没有提及“中国”。D项仅为对策句中同时之前的内容，概括不全。故本题正确答案选C。

48. 阅读是一件关系民族未来的大事，许多国家都把推动阅读作为提升国民素质的基础性工程。推动全民阅读，教师是关键。因为教师加强阅读不仅可以提高自身素质，而且能带动学生阅读、调动家长阅读，从而推动全民阅读。唐代韩愈说：“师者，所以传道授业解惑也。”“传道”“授业”“解惑”，都要以阅读为基础。只有不断通过阅读吸取新知识、获得新感悟，教师才能给学生以新知识、新启示。与其他职业人员相比，教师阅读有着特别重要的意义，因为他们不仅是为自己，也是为受教育者而阅读。国外有教育家说过：“为了使学生获得一点知识的亮光，教师应吸进整个光的海洋。”

这段文字意在强调（ ）。

- A.教师比其他行业更需要阅读
- B.教师应为学生的发展增加阅读
- C.教师应在全民阅读中做表率
- D.全民阅读的重要意义

【答案】C。本题考查意图判断。文段首先介绍了阅读的重要性，后续提出观点：推动全民阅读，教师是关键。然后具体论证了教师是关键的主要原因。对比选项，C项是对文段重点的合理引申。根据文段这里面并没有提及教师比其他行业更需要阅读，A项排除。B项教师应该多读书，这不仅可以提高自身素质还能带动学生阅读等方面，故B项不全面，B项排除。文段中说教师阅读有着特别重要的意义，D项偷换概念，故D项排除。故本题正确答案选C。

49. 在我国教育史上，私塾的确扮演了重要角色。在古代，私塾是孩童受启蒙的场所。义塾的出现，更是满足了平民子弟有学可上的愿望。基于这种历史背景，国人对私塾抱有一些想象乃至向往，也在情理之中。但是，不少人将它看作学校教育的必要补充。这种观点值

得商榷。当下我国义务教育不断完善、均衡发展，美化私塾教育甚至非私塾不上，恰是对孩子不负责任。

这段文字想表达的是（ ）。

- A. 私塾被推崇情有可原
- B. 私塾在我国有非常重要的意义
- C. 私塾已不适应我国目前教育境况
- D. 私塾不能取代义务教育，需被制止

【答案】C。 本题考查意图判断。文段先描述了私塾在历史上的重要作用，然后提出，现代人依然对私塾抱有想象。后续通过转折“但是”引出文段重点，即不能把私塾看作学校教育的必要补充。也就是说，现在义务教育已经发展的很好了，私塾已不适应我国目前教育境况。对比选项，C项是对文段重点的概括，答案为C。文段当中私塾在现代扮演重要角色，还是情有可原，但是作者就是说不能替代义务教育，那就是被推崇和作者的观点相违背，故A项排除。B项和这个文段的表达主要的意思是相反，相违背的，故B项排除。D项是“需被制止”属于过度引申，排除D项。故本题正确答案选C。

50. 下列句子中语序排列最连贯的一项是（ ）。

- (1) 瘟疫同人类文明史如影随形。
- (2) 无论是宗教式的祈祷还是对恶疾的救治，在这些作品中，我们都能看到人类面对瘟疫时所做出的顽强的抗争。
- (3) 欧洲的文艺复兴时期，艺术巨匠们不仅用画笔讴歌上帝天使，同时也在描绘撒旦和死神。
- (4) 人类社会发展历程中，政治、经济、文化、宗教等方方面面都有它的影子。
- (5) 作为硬币的反面，那些与死亡相关的画作很多都是以瘟疫作为叙事背景。

- A. (4) (1) (3) (5) (2)
- B. (1) (4) (3) (5) (2)
- C. (1) (5) (2) (4) (3)
- D. (4) (3) (5) (2) (1)

【答案】B。 首先，判定首句。(4)句出现代词“它”，前面应有指代对象，不能做首句。排除AD两项。第二步，验证选项。(4)句中的“它”指的是(1)句中的瘟疫，应为(1)(4)相连，故本题正确答案选B。

51. ①单纯罗列史料，构不成历史
- ②只有在史料引导下发挥想象力，才能把历史人物和时间的丰富内涵表现出来
- ③历史研究不仅需要发掘史料，而且需要史学家通过史料发挥合理想象
- ④所谓合理想象，要尽可能避免不实之虚构
- ⑤这是一种悖论，又难以杜绝
- ⑥但是，只要想象就难以避免不实虚构出现
- 将以上6个句子重新排序，语序正确的是（ ）。

- A.③①②④⑥⑤
- B.①③④⑥⑤②
- C.⑤③②①④⑥
- D.④⑤⑥③②①

【答案】A。先观察各项，首句均不一样。⑤中“这”是指示代词，通常指代前文中出现的事物，不合作发语词。④中“所谓”通常是对前文出现的名词的解释，也不适合做发语词。故C、D项错误。通过观察各句的关联性不难发现，③首先明确历史研究的要求，“不仅要发掘史料……还要合理想象”，接着用①否定“单纯罗列史料的做法”，来肯定②，强调发挥想象力的重要性。接着用④来解释何谓“合理想象”，在此基础上又提出转折，即⑥“难以避免不实虚构的出现”，最后用⑤来收尾，上述事实形成悖论。故本题正确答案选A。

52. 下列语句排序最为通畅的一项是（ ）。

- (1)事实上，研究只提示了两者可能存在相关性，但并不能证明其中的因果关系。
- (2)这项研究还发现，在小鼠身上，这种细菌会引发阿尔茨海默症典型的脑部变化。
- (3)一项研究证实，导致牙龈疾病的细菌--牙龈卟啉单胞菌存在于阿尔茨海默症患者的大脑中，而不仅仅是口腔中。
- (4)不管是否能预防阿尔茨海默病，保持口腔清洁，预防牙周炎牙龈炎，对于健康生活是很有必要的。
- (5)随后，一些自媒体将该研究解读为“牙周炎细菌导致阿尔茨海默病”。

- A. (5) (1) (3) (2) (4)
- B. (3) (2) (5) (1) (4)
- C. (3) (5) (1) (4) (2)
- D. (5) (2) (3) (4) (1)

【答案】B。首先，判定首句。（3）句提出一项研究成果，属于背景类描述，适合做首句。（5）句由“随后”可知，（5）之前有内容，不适合做首句，排除 AD 两项。其次，验证选项。（3）先提到这种细菌存在于脑中，（2）再提到这种细菌会引起脑部变化。（3）（2）话题承接，且（2）不适宜作尾句，排除 C。故本题正确答案选 B。

53. 把下列句子组成语意连贯的语段，排序最恰当的一项是（ ）。

①使用语言，不仅要用得对，在语法上不出毛病，而且要力求用得好，要有艺术性，有感染力，这就要讲究运用语言的艺术，也就是要讲究一点修辞。

②有意用不符合语法常规的办法取得某种修辞效果是许可的，然而这只是偶一为之，并且要有些特定的条件

③如果语言不符合语法，说都说不通，就没有什么好的修辞可言。

④语言是用来传递信息、交流思想、表达情感的。

⑤好的修辞，必然是符合语法规律的。

A.④①⑤③②

B.④③⑤①②

C.⑤②①④③

D.⑤③④①②

【答案】A。排序题。观察选项，确定首句。本题中陈述的对象是“语言”，可以确定④为首句，排除 CD。①中话题落脚点是修辞，⑤说也说到修辞，依照逻辑关系应该是先说到修辞，再对其进行要求，所以是①⑤，排除 B。故本题正确答案选 A。

54. ①从平均海拔 4000 米以上递减至 500 米以下，由西到东的三大阶梯差异明显，气候迥异；地区间降水分布极其不均，荒漠化土地分布广泛。

②以“胡焕庸线”为界，东南人口密集，西北人口稀疏。

③打开中国地图，960 多万平方公里的广袤大地上，从南到北、由东到西，自然状况多样，气候条件复杂。

④再加上历史、文化和社会等多方面的原因，区域发展差别大问题十分突出。

⑤平原、水网、丘陵、喀斯特和丹霞地貌、草原、沙漠和雪域高原，共存于祖国辽阔版图中。

⑥这样的国情。有利于形成广泛分工。强大市场和广阔回旋余地，同时也会产生不平衡不协调问题。

将以上 6 个句子重新挂序。语序正确的一项是 ()。

- A.③④①②⑤⑥
- B.③⑤①②④⑥
- C.⑥②①④⑤③
- D.①②③④⑤⑥

【答案】B。首先，判定首句。③句说的是中国气候复杂，①句具体说如何复杂，进行了举例，应③在①前。⑥句中出出现代词“这”，不适合做首句，应为③为首，排除 CD 两项。其次，验证选项。④“再加上”作补充，但并不是对③的补充说明，不能相连。排除 A 项。故本题正确答案选 B。

55. 下列句子中语句排列最连贯的一项是 ()。

(1) 司马光在《戏星尧夫》一诗中写道：「近来朝野客，无座不谈禅。」说的就是文人参禅学佛，蔚然成风的现象。

(2) 宋王朝在尊孔崇儒的同时，也扶持佛教的发展，更是起了推波助澜的效果，让香文化上升到了新的高峰。

(3) 况且，当时禅学氛围浓厚，谈佛说理，论及古今时，有香气缭绕，自然是锦上添花。

(4) 宋代的香文化极为繁盛。

(5) 宋代拥有成熟的制瓷技术，大量的精美的陶瓷香炉吸引着文人墨客。

- A. (4) (5) (3) (1) (2)
- B. (5) (4) (2) (1) (3)
- C. (5) (3) (4) (1) (2)
- D. (4) (1) (2) (3) (5)

【答案】B。首先，判定首句。(5) (4) 两句没有明显特征，不好确定首句。第二步，验证选项。(2) 句首先提出宋王朝扶持佛教发展，(1) 句司马光写的诗是对(1)的例证，(2) (1) 相连，故本题正确答案选 B。

56. 数十年以来，科学家认为发现外星生命的最重要信息是这颗行星与主恒星的距离。在太阳系中，金星距离太阳最近，火星距离太阳较远，液态水无法存在。地球处于合适位置，存在着液态水和各种生命形式。然而，目前最新一项研究表明，仅凭借距离很难断定该行星是否具备生命存在的条件，宜居行星还必须具备适当的内部温度。

接下来最可能说的是（ ）。

- A. 外星生命和行星内部适宜温度的关系
- B. 科学家关于行星适宜距离的最新研究
- C. 什么样的行星能具备适当的内部温度
- D. 人们对行星的宜居条件存在认识误区

【答案】C。第一步，通读文段，把握尾句。文段首先论述“科学家认为发现外星生命的最重要信息是这颗行星与主恒星的距离”，接着以太阳系中金星、水星、地球与太阳的距离及生命存在的情况对首句进一步解释说明，最后通过“然而”转折，指出最新研究认为，仅凭距离很难判定行星是否具备生命存在的条件，还要考虑宜居行星要有适当的内部温度。第二步，重点分析尾句，推断下文。尾句“宜居行星必须具备适当的内部温度”中主体是“宜居行星”，话题是“适当的内部温度”，根据一般的行文逻辑，即主体及话题的一致性，下文也应当涉及“宜居行星”及“适当的内部温度”。第三步，对照选项选答案。C项“什么样的行星能具备适当的内部温度”中“什么样的行星”对应“宜居行星”，“适当的内部温度”与文段尾句话题一致，故本题正确答案选C。

57. ①员工一般通过深层扮演和表层扮演这两种方式来实现情绪劳动
- ②情绪劳动是指员工为了给顾客提供更为优质的服务而表达出组织所需情绪的行为
- ③此时员工的情绪体验并没有改变，改变的只是对其服务对象的情绪表达
- ④从本质上来说，深层扮演是员工改变自己情绪体验的过程
- ⑤情绪劳动对组织而言有更多的积极效应，对员工个人来说则消极影响更多
- ⑥表层扮演是员工通过掩饰、夸大或抑制等方式来调整自己的情绪表达

将以上6个句子重新排列，语序正确的是（ ）。

- A. ②③①④⑥⑤
- B. ②①④⑥③⑤
- C. ⑤②③①④⑥
- D. ⑤①④⑥②③

【答案】B。从选项中确定首句，对比②⑤两句，②句介绍了“情绪劳动”这一概念的含义，为常作首句的“下定义”句式，而⑤句是对“情绪劳动”影响的具体介绍，相比之下②句更适合作为首句，通过定义开启下文，故排除C、D两项。再观察A、B两项，A项②后为③，根据③句内容，“此时”应指代某个时刻，而②句中并没有出现此意，构不成指代，

故排除 A 项。文段行文脉络明显，后文分别论述了深层表演与表层表演。故本题正确答案选 B。

58. ①后来，由于电影电视等迅速崛起，受众对视觉艺术似乎更为热衷，广播剧逐渐走向衰落，至今在传统广播电台，也已难觅踪影

②这些声音艺术爱好者在兴趣驱动下实现自由合作，或者通过在线聊天工具对戏，或者各自录制所承担角色的台词，再由编辑后期合成处理，不亦乐乎

③不过，与此同时，由于网络的出现与普及，网络广播剧应运而生、异军突起

④上世纪八九十年代，可谓传统广播剧发展的黄金时期

⑤大概自 2003 年起，网络广播剧在声音艺术爱好者的小圈子里崭露头角，带有浓厚的自娱自乐色彩

⑥网络广播剧的制作可能并不如传统广播剧那么专业，但它从策划到上线的过程中，有着突出的草根性、大众性、开放性和交互性，对普通大众的创作能量，是一种有效激发

请将以上 6 个句子重新排列，语序正确的一项是（ ）。

A.⑤②⑥①④③

B.⑤③①②⑥④

C.④①③⑤②⑥

D.④③⑤②⑥①

【答案】C。对比④、⑤，时间顺序，④在⑤的前面，排除 A、B 两项；留下 C、D，④①属于同一话题“传统广播”，故排除 D；故本题正确答案选 C 选项。

59. 下列各句中，没有语病的一句是（ ）。

A.不同的生活习俗、自然条件以及地理环境，使各地的民居在平面布局、结构方法、造型等方面呈现出淳朴自然，而又有着各自的特色。

B.历时三年的第六次全国人口普查是一次成功的国情大盘点，其数据将为我国社会经济发展规划的制定和政府的相关决策提供重要参考。

C.失眠是指因睡眠时间不足、质量不佳对身体产生损害而出现的不舒服的感觉，应对失眠需要了解相关的睡眠卫生知识，进行自我调护

D.学校开展经典诵读活动有利于教风和学风建设，而中小学是人生品格形成的重要时期，所以这样的活动应着力于中小学就要抓紧抓好。

【答案】B。A项缺宾语，“呈现出淳朴自然，而又有着各自的特色的风格”。C项主宾搭配不当“失眠是感觉”改为“失眠是现象”。D项语序不当改为“于中小学就要着力抓紧抓好”。故本题正确答案选B。

60. 下列语句中，没有语病的一项是（ ）。

A. 就如何应对交通不畅导致供需矛盾的问题，公司领导讨论和听取了各车间主任提出的A、B和C三套方案，并最终决定执行A方案

B. 疫情期间，有关部门对部分不遵守隔离措施，蛮横无礼甚至殴打医生、护士的各类事件，进行了严肃的批评教育，对涉及刑事的，也处理得相当快速公正

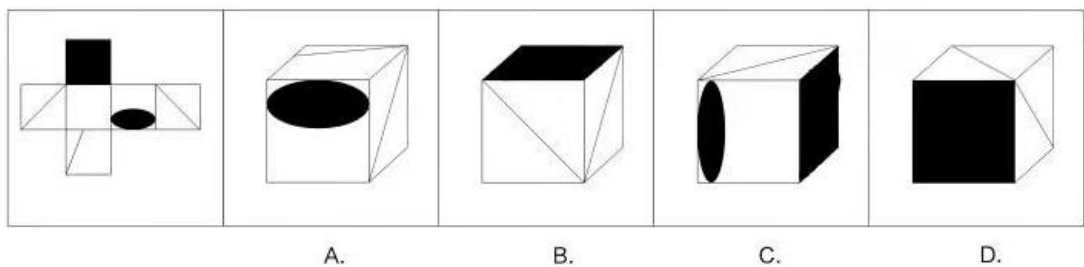
C. 峡谷中的土域肥沃，加上昼夜温差较大，较为适宜种植经济作物、柑橘，还适合种植烟草。

D. 中国哲学讲究阴阳五行，凡事相克相生，饮茶也不例外，什么季节，什么气候、什么体质适合喝什么茶都有一番说道。

【答案】D。A项有歧义。A、B、C三套方案可能是各个车间主任共同提出的，也可能是一个车间主任提一个方案。B项搭配不当，不能是批评教育事件。C项，烟草包含在“经济作物”内。应将“还适合种植烟草”去掉。故本题正确答案选D。

判断习题

1. 左边给定的是纸盒的外表面，下列哪一项能有它折叠而成？（ ）



【答案】B。空间重构类。运用坐标法在椭圆面上画箭头，箭头左边为白色面，右边为斜线面，故排除A、C项（左侧面都不符合）。运用移面法，最右侧的斜线面移动到最左侧，滚动全黑色面，这时两条斜线和全黑色面的公共点没有引出线条，排除D。故本题正确答案选B。

2. 选择最合适的一项填入问号处，使之呈现一定的规律性。（ ）



A. B. C. D.

【答案】B。组成元素不同，考虑数量类规律。图形线条明显，并且每一幅图都有横线条，故考虑横线条数，题干的横线条数分别为1，2，3，4，？，故问号处选择横线为5的汉字，故B项正确，ACD项错误。故本题正确答案选B。

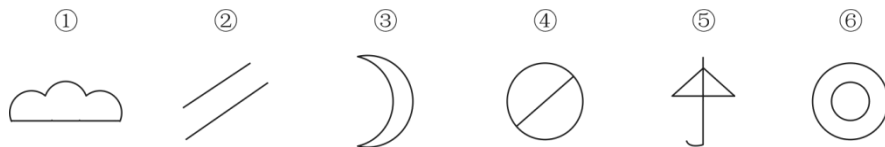
3. 从所给四个选项中，选择一个最合适的选项填入问号处，使之呈现一定的规律性（ ）。



A B C D

【答案】D。本题考查数量类。图形元素组成凌乱，数量变化明显。观察题干部分的文字笔画数分别为2，6，8。即第一幅图形加上第二幅图形的文字笔画数之和为第三图的文字笔画数。月的文字笔画数为4，礪的文字笔画数为13，缺一个文字笔画数为9的，D选项为9，符合题意。A选项为8，排除；B选项为8，排除。C选项为8，故本题正确答案选D。

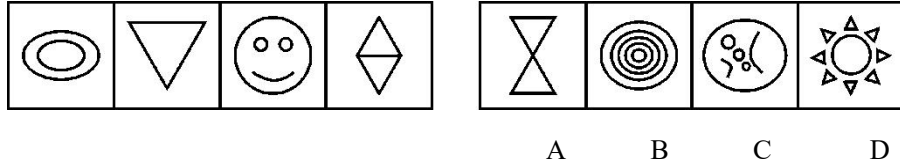
4. 把下列的六个图形分为两类，使每一类图形都有各自的共同特征或规律，分类正确的一项是（ ）。



- A. ①②⑥；③④⑤
- B. ①③④；②⑤⑥
- C. ①②⑤；③④⑥
- D. ①②③；④⑤⑥

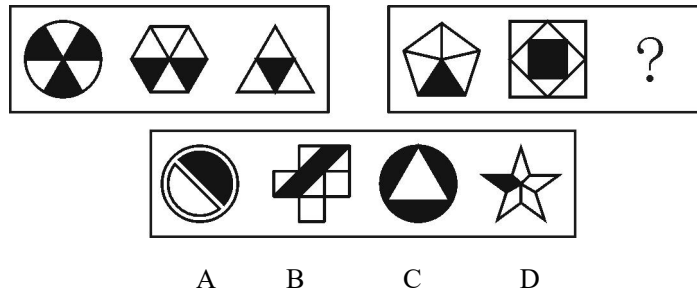
【答案】B。本题考查数量类。图形元素组成凌乱，数量变化明显。观察图形发现①③④均为一笔画图形，②⑤⑥均为两笔画图形，故本题正确答案选 C。

5. 从所给的四个选项中，选择最符合左侧图形规律的一项（ ）。



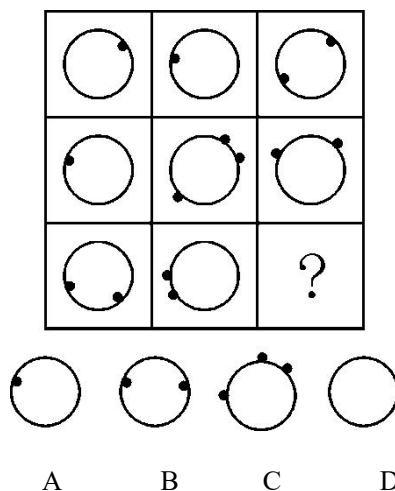
【答案】C。题干中的四个图形分别是由曲线、直线、曲线、直线构成，所以应选择由曲线构成的图形，而且题干中几个图形的笔画数分别是 2，3，4，5，所以下一个图形应该是由 6 条曲线构成的，故本题正确答案选 C。

6. 从所给的四个选项中，选择最合适的一个填入问号处，使之呈现一定的规律性（ ）。



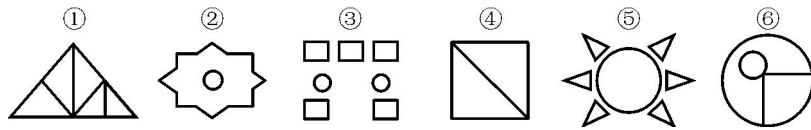
【答案】B。第一组图中，阴影部分面积依次是原图面积的 $1/2$ 、 $1/3$ 、 $1/4$ ，第二组图依次是 $1/5$ 、 $1/4$ 、？，故所求图形阴影部分面积是原图面积的 $1/3$ ，故本题正确答案选 B。

7. 从所给的四个选项中，选择最合适的一个填入问号处，使之呈现一定的规律性（ ）。



【答案】D。每行中第三个图形的小球数量为第一个图和第二个图的圆内小球和圆外小球的和做差来得到。故本题正确答案选 D。

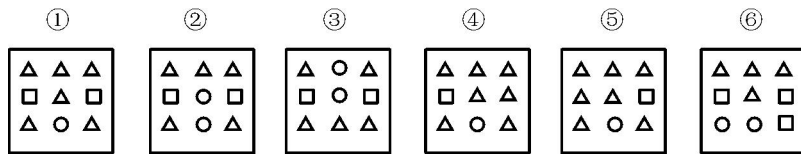
8. 把下面的六个图形分为两类，使每一类图形都有各自的共同特征或规律，分类正确的一项是（ ）。



- A. ②④⑥, ①③⑤
- B. ①④⑤, ②③⑥
- C. ②③⑤, ①④⑥
- D. ①②④, ③⑤⑥

【答案】B。观察题干图形，发现①④⑤均含三角形，②③⑥均不含三角形。故本题正确答案选 B。

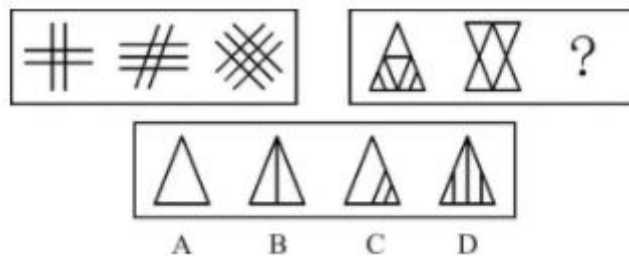
9. 把下面的六个图形分为两类，使每一类图形都有各自的共同特征或规律，分类正确的一项是（ ）。



- A. ①③④, ②⑤⑥
- B. ①④⑤, ②③⑥
- C. ①②③, ④⑤⑥
- D. ①④⑥, ②③⑤

【答案】B。观察题干图形发现①④⑤中均只含有 1 个小圆，②③⑥均含 2 个小圆。故本题正确答案选 B。

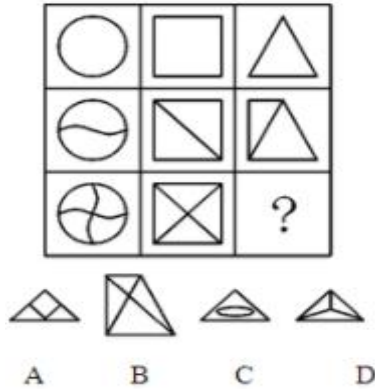
10. 从所给四个选项中，选择最合适的一个填入问号处，使之呈现一定规律性（ ）。



【答案】B。第一步，观察特征。组成元素不同，优先考虑数量类或属性类，线条的特征比较明显，考虑数线。第二步，两段式，第一段找规律，第二段应用规律。第一段图形直

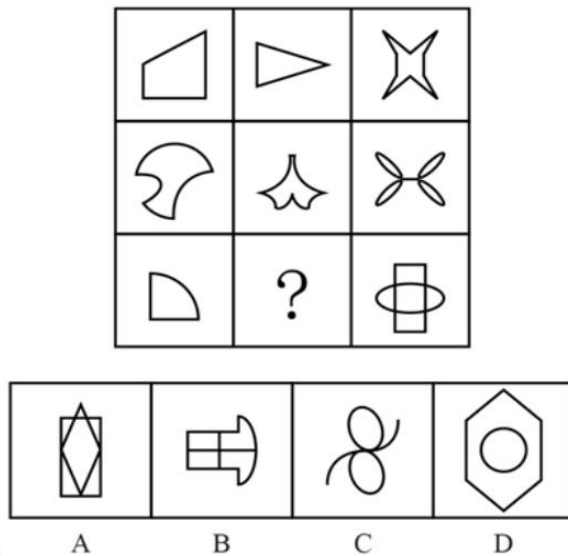
线条数依次为 4、5、6，呈等差规律，第二段应用规律，图形直线条数依次为 8、6、？，问号处应该有 4 条直线，只有 B 项符合。故本题正确答案选 B。

11. 从所给四个选项中，选择最合适的一个填入问号处，使之呈现一定规律性（ ）。



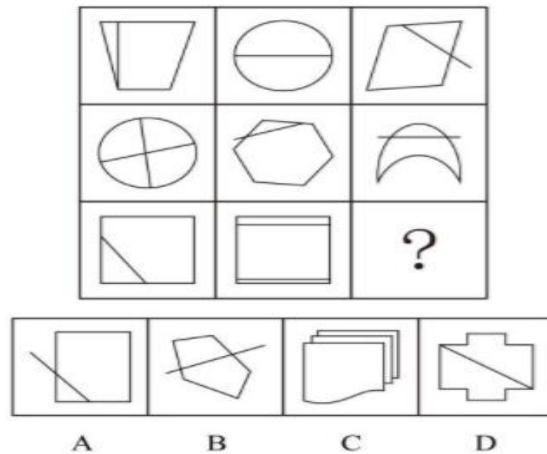
【答案】B。第一步，观察特征。组成元素不同，优先考虑数量类或属性类。且每个图形均有封闭区间，考虑数面。第二步，九宫格，横向规律较为常见，优先考虑。第一行图形均有 1 个面，第二行图形均有 2 个面，第三行图形前两个图均有 4 个面，按照规律，问号处图形应有 4 个面，只有 B 项符合。故本题正确答案选 B。

12. 从所给四个选项中，选择最合适的一个填入问号处，使之呈现一定规律性（ ）。




【答案】B。第一步，观察特征。组成元素不同，优先考虑数量类或属性类。第二步，九宫格，横向规律较为常见，优先考虑。第一行均为直线图形，第二行均为曲线图形，第三行所给图形既有直线又有曲线，所以问号处也应有直线和曲线，排除 A、C 项；继续观察，题干图形均为一部分，D 项为 2 部分，排除，只有 B 项符合。故本题正确答案选 B。

13. 从所给四个选项中，选择最合适的一个填入问号处，使之呈现一定规律性（ ）。



【答案】A。第一步，观察特征。组成元素不同，优先考虑数量类或属性类。图形出现十字交点，考虑数点。第二步，九宫格，横向观察，没有明显规律，考虑竖向规律。第一列图形直线交点个数依次为 5、1、6， $5+1=6$ ；第二列图形直线交点个数依次为 0、8、8， $0+8=8$ ；第三列图形交点个数依次为 6、0、？，问号处图形直线交点数应为 6，只有 A 项符合。故本题答案选 A。

14. 从所给的四个选项中，选择最合适的一个填入问号处，使之呈现一定的规律性（ ）。



【答案】D。本题考查图形推理的数量类。黑白点总数，3，4，5，6，（7）。答案中都是 7，然后看黑白的规律，题干从左到右边，少的点是一白一黑一白一黑交替出现。故本题答案选 D。

15. 杰出的商业总裁在美国的总统竞选活动中通常扮演活跃的角色，他们往往充当竞选经费的筹募者或幕后的策划者，但是实际上他们中几乎没有人真正尝试过自己去做总统，整个历史上，绝大多数寻求成为总统的人都是律师、军方领导或全职的政客，这可以理解，因为在商业上取得成功的个性与技巧并不能在政治上取得成功。因为商业大体上都是等级体制，

而政治上的体制却是互相协调的。因此，商业总裁在妥协以及分享权力时会感到非常的不自在，而这些是政治家活动中所固有的。

以下哪项如果为真，能最严重地削弱上述对商业总裁为什么不竞选总统的解释？（ ）

- A.许多最活跃的总统竞选经费的筹募者和幕后策划者本身就是政客
- B.军方领导在作出妥协或分析的时候，与商业总裁们一样的感到不自在
- C.成为一个成功的律师所需的某些技巧与成为一个成功的军方领导所需的某些技巧是不一样的
- D.有些前总统在离职后，从事风险商业投资

【答案】B。削弱质疑类。题干的观点是，商业总裁在妥协和分享权力时感到不自在，因此做不了总统。B 答案相当于军方领导在妥协和分享权力时同样感到不自在，可是却做了总统。故本题正确答案选 B。

16. 动机，在心理学上一般被认为涉及行为的发端、方向、强度和持续性。研究者认为动机的类型和水平不仅决定了个体是否进行活动，还会影响反应的新颖性。如果内在动机水平很低，即使个体具备创造性能力，但为了达到外在目标，往往运用陈旧的、熟悉的反应方式进行活动，创造性的成绩也不会提高。

以下哪项最能反驳研究者的说法？（ ）。

- A.外在动机水平也是影响个体创造力的重要因素
- B.创造力的提高和发展既取决于创造性能力，还与创造性个性倾向有关
- C.内在动机水平低的个体，也常常运用新颖的方式进行反应
- D.除了动机水平，动机类型也影响创造性成绩的提高

【答案】C。本题属于削弱论证题。已知命题是：运用陈旧的、熟悉的反应方式进行活动→创造性的成绩也不会提高，采用非陈旧的反应方式，选项 C 指出了这样的事实。故本题正确答案选 C。

17. 对比降雨记录以及玛雅人的石刻记载，科学家发现，在公元 440 年到 660 年间的强降雨期，玛雅人口迅速膨胀，文明也普遍繁荣。这一时期之后则是一系列干旱，导致农业生产力的下降，并引发社会分裂和政治崩溃。研究人员认为，长期干旱导致了持续的环境和社会压力，抑制了人口扩张并导致了更多的敌对行为和战争，最终导致玛雅政治体制和文明崩解。

根据上述文字，下列选择中可以推出的是（ ）。

- A.如果玛雅一直处于强降雨期，玛雅文明便不会崩解
- B.如果玛雅人口持续迅速膨胀，那么发生战争的可能性就会小很多
- C.如果玛雅的政治体制没有崩解，那么玛雅的文明也不会崩解
- D.如果玛雅的文明持续繁荣，那么在气候上一定不是处于干旱期

【答案】D。本题属于翻译推理题。根据翻译规则进行翻译，由题干可得到：干旱→持续的环境压力和社会压力→抑制人口扩展和导致战争→玛雅政治体制和文明崩解，根据逆否等价推理可知，文明不崩解，则不干旱。故本题正确答案选D。

18. 通货膨胀指在纸币流通条件下，因货币供给大于货币实际需求，也即现实购买力大于产出供给，导致货币贬值，而引起的一段时间内物价持续而普遍地上涨现象。其实质是社会总需求大于社会总供给。纸币、含金量低的铸币、信用货币，过度发行都会导致通胀。

根据上述文字，下列选择中可以推出的是（ ）。

- A.如果物价一直维持在一个稳定水平，那么货币也一定是坚挺的
- B.纸币过度发行是造成通货膨胀的根本原因
- C.大量发行期货将不会导致通货膨胀
- D.如果物价持续上涨，一定是发生了通货膨胀

【答案】A。本题属于翻译推理题。根据翻译规则进行翻译，由题干可得到：购买力大于产出供给→货币贬值→物价上涨，根据逆否等价推理可知，物价稳定，则货币坚挺。故本题正确答案选A。

19. 葡萄酒中含有白藜芦醇和类黄酮等对心脏有益的抗氧化剂。一项新研究表明，白藜芦醇能防止骨质疏松和肌肉萎缩。由此，有关研究人员推断，那些长时间在国际空间站或宇宙飞船上的宇航员或许可以补充一下白藜芦醇。

以下哪项如果为真，最能支持上述研究人员的推断？（ ）

A.研究人员发现由于残疾或者其他因素而很少活动的人会比经常活动的人更容易出现骨质疏松和肌肉萎缩等这症状，如果能喝点葡萄酒，则可以获益。

B.研究人员模拟失重状态，对老鼠进行试验，一个对照组未接受任何特殊处理，另一组则每天服用白藜芦醇。结果对照组的老鼠骨头和肌肉的密度都降低了，而服用白藜芦醇的一组则没有出现这些症状。

C.研究人员发现由于残疾或者其他因素而很少活动的人，如果每天服用一定量的白藜芦醇，则可以改善骨质疏松和肌肉萎缩等状况。

D. 研究人员发现, 葡萄酒能对抗失重所造成的负面影响。

【答案】C。加强支持型。题干中白藜芦醇能防止骨质疏松和肌肉萎缩。由此推断那些长时间在国际空间站或宇宙飞船上的宇航员或许可以补充一下白藜芦醇。就是要补充白藜芦醇在国际空间站或宇宙飞船上的宇航员有用, 只需要在二者之间建立联系即可。故本题正确答案选 C。

20. 提到心情与身体尤其是疾病的关系, 人们首先会想到心身疾病, 这些疾病与心理、社会因素密切相关。但在过去, 非精神科医生很少关注这些患者的心理因素, 因此患者往往接受的躯体治疗, 并不重视情绪管理。如今医生普遍开始关注患者的心理建设, 认为这对疾病预防和疾病治疗都大有裨益, 具有良好心态和心情是一个人保持身体健康和长寿的重要秘诀。

以下哪项如果为真, 最能质疑上述结论? ()

- A. 目前的研究还无法证明寿命、疾病等与情绪之间具有间接的相关性
- B. 抑郁症患者中冠心病的发病率与病死率是正常无抑郁症人群的 3 到 4 倍
- C. 一项新的研究显示, 没有发现任何证据表明, 快乐本身会减少心血管疾病、癌症的发生, 降低死亡率
- D. 糖尿病患者中具有临床意义的抑郁症状发生率平均值是普通人群的 3 倍

【答案】A。本题属于削弱类题目。论点为: 认为这对疾病预防和疾病治疗都大有裨益, 具有良好心态和心情是一个人保持身体健康和长寿的重要秘诀。A 选项, 断开联系, 直接把论点和论据之间的联系断开; B 选项, 抑郁症患者中冠心病的发病率与病死率是正常无抑郁症人群的 3 到 4 倍, 加强项目, 举例说明确实心情影响身体健康; C 选项, 增加反向论据, 一项新的研究显示, 没有发现任何证据表明, 快乐本身会减少心血管疾病、癌症的发生, 降低死亡率, 可以削弱; D 选项, 无关选项, 排除; 对比 A 和 C 选项, 断开联系的力度是强于增加反向例子, 故本题正确答案选 A。

21. 小李认为他和妻子是去年 5 月被派送到国外某大学进修的, 而他的妻子则认为他是 6 月被派送出国的。该大学去年 5 月入境学生进修学习的记录在一次小型火灾中被烧毁了, 但是有 6 月份的记录。据了解, 6 月份的记录中, 没有小李入学进修学习的记录。因此, 可以得出结论, 小李是去年 5 月被派送到国外进修的。

为使上述论证成立, 以下哪项是必须假设的? ()

- I. 该大学去年 6 月份的入境学生进修学习记录是完整的

II. 小李和他妻子关于小李出外进修学习的月份的断定, 至少有一个是真实的

III. 小李如今已返回国内

A. 只有 I

B. 只有 II

C. 只有 III

D. I 和 II

【答案】D。如果只有 I 项是必须假设的, 而不能确定小李夫妻说话的真实性, 只能说明小李在去年 6 月没有出国进修, 而是否在 5 月出国进修不能断定; 如果只有 II 项是正确的, 则如果 6 月的记录是不完整的, 则小李即可能在 5 月也可能在 6 月出国进修, 不能得出最后的结论; III 项显然是不必假设的。故本题正确答案选 D。

22. 经济体制是属于生产关系的范畴。目前, 尽管公有制的生产关系在我国占主导地位, 但生产力水平低下, 使得其与生产关系的矛盾十分突出。

从这段文字可以推出 ()。

A. 我国的生产关系超前了

B. 生产关系决定生产力

C. 要改革经济体制, 首先要大力发展生产力

D. 如果目前的趋势再持续下去, 在不久的将来, 公有制将失去主导地位

【答案】C。本题是直接推论题。由题干生产力水平低下, 使得生产力与生产关系相互矛盾, 可以推出生产力决定生产关系, B 项错误; A、D 项均超出题干论述的范围; 由于经济体制属于生产关系的范畴, 生产力决定生产关系, 可以推出 C 项正确。故本题正确答案选 C。

23. 在许多鸟群中, 首先发现捕食者的鸟会发出警戒的叫声, 于是鸟群散开。有一种理论认为, 发出叫声的鸟通过将注意力吸引到自己身上而拯救了同伴, 即为了鸟群的利益自我牺牲。

最能直接削弱上述结论的一项是 ()。

A. 许多鸟栖息时, 会有一些鸟轮流担任警戒, 危险来临时发出叫声, 以此增加群体的生存机会

B. 危险来临时, 喊叫的鸟和同伴相比可能处于更安全的位置, 它发出喊叫是为了提醒它的伴侣

C. 喊叫的鸟想找到更为安全的位置，但是不敢擅自打破原有的队形，否则捕食者会发现脱离队形的单个鸟

D. 鸟群之间存在亲缘关系，同胞之间有相同的基因，喊叫的鸟有可能牺牲自己，但却可以挽救更多的同胞，从而延续自己的基因

【答案】C。本题是削弱题型。题干的结论是说，鸟发出叫声是为了拯救鸟群而自我牺牲。要削弱这个结论，就要指出，鸟发出叫声不是为了鸟群的整体利益而自我牺牲的。C项说喊叫的鸟是想找到更安全的位置，由此可以知道，鸟喊叫不是为了拯救同伴，不是为了鸟群的利益，只是为了保护自己，这就削弱了题干的结论。故本题正确答案选C。

24. 非洲某地有伊卡莫哇纳和德尼兰斯亚两个部落。所有伊卡莫哇纳部落的人都戴鼻环；所有德尼兰斯亚部落的人都戴耳环；当地人从不既戴鼻环又戴耳环。伽利尔玛是当地的著名射手，而且他是戴耳环的人。

基于以上事实，下列哪个判断必为真？（ ）

- A. 伽利尔玛是德尼兰斯亚部落人
- B. 伽利尔玛不是伊卡莫哇纳部落人
- C. 伽利尔玛不是德尼兰斯亚部落人
- D. 伽利尔玛既不是伊卡莫哇纳部落人，也不是德尼兰斯亚部落人

【答案】B。由“伽利尔玛是当地射手，而且戴耳环”和“当地人从不既戴鼻环又戴耳环”可知，“伽利尔玛不戴鼻环”；由“所有伊卡莫哇纳部落的人都戴鼻环”可知，“伽利尔玛不是伊卡莫哇纳部落人”，故B项必为真。由“伽利尔玛戴耳环”和“所有德尼兰斯亚部落的人都戴耳环”并不能推出伽利尔玛是否是德尼兰斯亚部落的人，故A、C、D项的判断均不是必为真。故本题正确答案选B。

25. 据北京某中学学组委最近一次的调查，该调查对象是1000名初一到高三的学生，结果发现，在这些被调查的学生当中，喜欢和比较喜欢书法艺术的只占到9.7%。这个数据显然是偏低的。因此该学组委得出结论：现在的中学生普遍对我国的传统文化没有兴趣。

下列陈述如果为真，哪一个最能削弱上述观点？（ ）

- A. 书法艺术的兴趣需要花长时间培养，中学生学习任务重，没有充足的时间
- B. 喜欢书法艺术与对中国传统文化有兴趣不是一回事，不能以偏概全
- C. 9.7%的比例说明了培养中学生对传统文化的兴趣具有必要性、紧迫性与可能性
- D. 统计不全面，有些中学生既喜欢书法，又对中国传统文化的其他方面感兴趣

【答案】B。题干由“在这些被调查的学生当中，喜欢和比较喜欢书法艺术的只占到 9.7%”推出“现在的中学生普遍对我国的传统文化没有兴趣”的结论。推理过程犯了偷换概念的错误，“书法艺术”不等同于“我国传统文化”。A 项是对调查结果的解释，不能削弱论证；B 项指出了题干论证中的错误，削弱了题干观点；C 项是支持了上述观点；D 项是无关项，排除。故本题正确答案选 B。

26. 现在人们越来越关注自己的身心健康，但大多数人缺乏正确的维护身心健康的基本知识，他们只会在感觉身体不舒服的时候才去看病，或者只是每年进行一次全面身体检查。可是，某位老中医说，每年只进行一次定期身体检查是不够的，这种体检方式只能检查出身体可能存在的一部分问题，这样的检查是没有意义的，只是浪费时间和金钱。

以下哪项不能削弱该老中医的结论？（ ）

- A. 每年做一次体检可以帮助人们尽早发现一些疾病
- B. 李香山没有体检的习惯，在偶然之间发现自己脚上的一颗痣发生了癌变
- C. 每年做一次体检能够发现心脏是否存在问题
- D. 90 多岁的刘奶奶从未做过体检，但很少生病

【答案】D。老中医的结论是一年只进行一次体检是没有太大意义的。AC 两项直接说明每年检查一次的好处，削弱了题干中老中医的结论。B 项，李香山就是因为没有体检的习惯，最终由普通的色素沉淀问题发展到了癌症的严重程度，这说明哪怕只是每年进行一次体检，意义也是很大的，从而削弱了老中医的结论。D 项，刘奶奶很少生病与是否体检无关，是自身身体状况决定的，因此既不能支持老中医的结论，也不能削弱该结论。故本题正确答案选 D。

27. 某研究机构着手对人体缺乏齐拉西酮的现象是否是导致孤独症的病因进行研究。该机构将齐拉西酮注射到患有孤独症的病人的血液中，结果病人的病情既没有恶化也没有好转。所以，该机构得到结论，导致孤独症的病因必定不是由于大脑缺乏齐拉西酮造成的。

以下哪项如果为真，能对该研究机构的结论构成最有力的质疑？（ ）

- A. 最近有机构表明，注射到血液中的齐拉西酮不能进入人的大脑
- B. 缺乏齐拉西酮可以导致很多精神类疾病
- C. 研究表明，只有很多种不同的化学物质相互作用，才能影响大脑的生理活动
- D. 孤独症导致患者的大脑比正常情况少分泌齐拉西酮

【答案】A。A项表明齐拉西酮不能进入到大脑，所以不能通过“病人的病情没有好转”而得到“导致孤独症的病因必定不是由于大脑缺乏齐拉西酮”这一结论，对研究机构得到的结论提出质疑。B项缺乏齐拉西酮可以导致很多精神类疾病，但是不一定会导致孤独症，排除。C项为无关项，排除。D项只是孤独症的病症，但不能由此得到研究机构的结论，所以，排除。故本题正确答案选A。

28. 为防止利益冲突，国会可以禁止政府高层官员在离开政府部门后三年内接受院外游说集团提供的职位。然而，一个这种类型的官员得出这样的结论，这种禁止将阻止高层政府官员在这三年里谋求生计。

这个官员的结论，从逻辑上讲，依赖于以下哪一项假设？（ ）

- A. 院外游说集团主要是那些以前曾担任过政府高层官员的人
- B. 当政府低层官员离开政府部门后，他们一般不会成为院外游说集团成员
- C. 离开政府部门的政府高层官员只能靠做院外游说集团成员来谋生
- D. 目前只允许离开政府部门的政府高层官员为院外游说集团工作三年

【答案】C。题干的逻辑关系是：禁止高层官员离职后的三年内到院外游说集团任职，则导致这些官员离职后无法谋求生计。这其中隐含的假设比较容易判断，即到院外游说集团任职是高层官员离职后唯一的去向，除此之外，他们不可能找到其他谋生的途径。由此可知，C项为正确答案。A、B、D项中任何一项假设不成立，都不会导致题干结论的不成立，因此，这三项都不是推论需要依据的假设。故本题正确答案选C。

29. H国赤道雨林的面积每年以惊人的比例减少，引起了全球的关注。但是，卫星照片的数据显示，去年H国雨林面积的缩小比例明显低于往年。去年，H国政府支出数百万美元用以制止乱砍滥伐和防止森林火灾。H国政府宣称，上述卫星照片的数据说明，本国政府保护赤道雨林的的努力取得了显著成效。

以下哪项为真，最能削弱H国政府的上述结论？（ ）

- A. 去年H国用于保护赤道雨林的财政投入明显低于往年
- B. 与H国毗邻的G国的赤道雨林的面积并未缩小
- C. 去年H国的旱季出现了异乎寻常的大面积持续降雨
- D. 森林面积的萎缩是全球性的环保问题

【答案】C。这是一道削弱型逻辑题，考查对“另有他因”这一反驳方式的掌握。如果C项为真，则也可出现“去年H国雨林面积的缩小比例明显低于往年”，因此，H国的努力

并非是“去年H国雨林面积的缩小比例明显低于往年”的唯一原因，也就削弱了H国政府的结论。A项也有削弱作用，但力度不够，因为财政投入只是保护雨林的努力的一个方面；B项G国的雨林面积没有缩小不知是否是政府努力的结果，不能削弱论证；D项是无关选项。故本题正确答案选C。

30. 一般认为，大城市和发达地区的收入较高。有资料显示，2010年上海城镇居民人均年收入76801元，北京市69483元，天津市55244元，浙江省49949元，广东省44093元。而西南地区收入显然不如大城市和发达地区：云南省19031元，甘肃省17670元，贵州省14867元。因此，为了高收入，越来越多的人前往大城市和发达地区工作。

以下哪项为真，最能够削弱上述结论？（ ）

- A. 统计城镇人均收入的样本数量不够多
- B. 不难发现，上海市中心有些人的一年收入只有1万元
- C. 不难发现，贵州省有的人一年收入达上百万
- D. 选择在大城市工作的人是因为那里比不发达地区有更多的工作机会

【答案】D。A项是对调查样本的质疑，BC两项是对收入情况的一个反例，都对结论有所削弱。但D项则是给出了人们另外一个去大城市和发达地区工作的理由，从而直接否认了人们是为了高收入而前往大城市和发达地区。故本题正确答案选D。

31. 一种常见的现象是，针对孩子举办的体育活动少有人问津，而一些学习辅导培训班则人满为患。有人解释说，这与我们多年来的应试教育有关。应试教育人为地将文化课与体育课区分开来，导致人们不重视身体素质的提高。

以下哪项如果为真，最能加强上述观点？（ ）

- A. 有些家长担心这些运动会令孩子受到伤害
- B. 不是人们不重视身体素质的提高，而是目前的体育课不能够引起学生的兴趣
- C. 由于缺乏对体育活动的了解，很多人想当然地认为参加体育活动就是无事生非
- D. 很多学生都有自己喜欢的锻炼身体的方式，也热衷于户外活动

【答案】C。题干是一个论证，结论是：应试教育人为地将文化课与体育课区分开来；论据是：针对孩子举办的体育活动少有人问津。C项如果为真，显然能有力加强上述论证。A项只指出了家长对体育活动的担心，但并没有指出他们是否支持体育活动；B项是从客观上指出体育课不受欢迎的原因；D项是对观点的削弱。故本题正确答案选C。

32. 薪酬待遇和个人发展是影响员工去留的两大重要因素。薪酬待遇好和有利于员工发展的公司势必会吸引更有能力的人才前往。小冯年终时跳槽到另一家公司。据此，他的同事木木做出了以下两种不同的断定：（1）新公司要么薪酬待遇好，要么有利于个人发展；（2）新公司或者薪酬待遇好，或者有利于个人发展。

如果上述两种断定只有一种为真，可以推出以下哪项结论？（ ）

- A.新公司的薪酬待遇好，并且有利于个人发展
- B.新公司的薪酬待遇一般，但有利于个人发展
- C.新公司的薪酬待遇好，但个人发展前景一般
- D.如果新公司的薪酬待遇好，则个人发展前景就一般

【答案】A。断定（1）是不相容的选言命题，断定（2）是相容的选言命题。假设断定（1）真，则断定（2）真，违反条件。因此，断定（1）假，断定（2）真。由断定（1）假，根据摩根定律，可得以下两种情况必有一个成立：第一，新公司的薪酬待遇好，且有利于个人发展；第二，新公司的薪酬待遇既不好，也不利于个人发展。由断定（2）真，可得第二种情况不成立，因此，第一种情况成立。故本题正确答案选A。

33. 看电视的儿童经历的是一种图像和声音的过程，这种过程可以在屏幕上闪现的时间仅仅可以使眼睛和耳朵能够接受。不像书页，儿童可以以自己想要的速度来读，电视图像出现的速度如此机械而无情，它阻碍了而不是提高了儿童的想象力。

上述观点基于一个假设，下面哪一个最能作为其假设？（ ）

- A.当被允许选择一种娱乐时，儿童会更喜欢读书而不是看电视
- B.儿童除非可以接触电视和书，否则其想象力不会得到适当的激发
- C.当儿童可以控制娱乐的速度时，他的想象力能得到更完全的发展
- D.由于每个孩子都是不同的，因此孩子对不同感官刺激的反应是不可预测的

【答案】C。题干指出：儿童看电视时不能控制图像出现的速度，但看书的时候就可以。并由此得出结论：看电视阻碍了儿童的想象力。要使推论合理，就必须在“图像出现速度”和“想象力”之间构成联系，只有C项符合这一要求，因此是必需的假设。A、B、D均为无关选项。故本题正确答案选C。

34. 某校以年级为单位，把学生的学习成绩分为优、良、中、差四等。在一年中，各门考试总分前10%的为优，后30%的为差，其余的为良与中。在上一年中，高二年级成绩为优的学生多于高一年级成绩为优的学生。

如果上述断定为真，则以下哪一项一定为真？（ ）

- A.高二年级成绩为差的学生少于高一年级成绩为差的学生
- B.高二年级成绩为差的学生多于高一年级成绩为差的学生
- C.高二年级成绩为优的学生多于高一年级成绩为良的学生
- D.高二年级成绩为优的学生少于高一年级成绩为良的学生

【答案】B。同样的比例，只有在基数不同的情况下，同一等次的人数才会不一样。高二年级成绩为优的学生多于高一年级，可以推出高二年级的学生多于高一级的学生，那么高二年级成绩为差的学生会多于高一年级。A项必然为假，C、D项无法判断真假。故本题正确答案选B。

35. 脊髓中受损伤的神经不能自然地再生，即使在神经生长刺激物的激发下也不能再生。人们最近发现其原因是脊髓中存在着神经生长抑制剂。现在已经开发出降低这种抑制剂活性的抗体。那么很清楚，在可以预见的将来，神经修复将会是一项标准的医疗程序。

以下哪项，如果正确，能对以上预测的准确性产生质疑？（ ）

- A.防止受损神经的再生只不过是人体中抑制神经生长的物质的主要功能的一个副作用
- B.某种神经生长刺激剂与那些减少神经生长抑制剂活性的抗体具有相似的化学结构
- C.通过仅仅使用神经生长刺激剂，研究人员已经能够激发不在脊髓内的神经生长
- D.在持续的时期内降低抑制神经生长的物质的活性，需要抗体的稳定供给

【答案】A。如果防止受损神经的再生只不过是人体中抑制神经生长的物质的主要功能的一个副作用的话，那么神经修复就不能成为一项标准的医疗程序。如果A选项正确的话，对题干的论证提出了最大的质疑。故本题正确答案选A。

36. 许多企业深受目光短浅之害，他们太关注立竿见影的结果和短期目标，以至于无法高瞻远瞩，往往使企业陷于被动甚至导致破产。因此，企业领导层的决策和行动应该以长期目标为主，不需过分关注短期目标

以下哪项如果为真，将最有力地削弱上述论证？（ ）

- A.短期目标对员工的激励效果比长期目标更好。
- B.长期目标有较大的不确定性，短期目标易于控制。
- C.长期目标的现实有赖于一个个短期目标的成功。
- D.企业的短期目标和长期目标对于企业的发展都重要。

【答案】C。削弱质疑类。题干的结论是领导层的决策和行动只是以长期目标为主，不需要过分关注短期目标。落脚点是“不需要关注短期目标”，要反驳这个观点，是需要关注短期目标的。C的反驳直接决定了长期目标必须是有短期目标的，其实就是量变引起质变的问题。故本题正确答案选C。

37. 一项调查研究显示：95%的大学毕业生填高考志愿均来自班主任的推荐。研究人员表示，班主任的推荐会增加考生报考志愿的盲目性。与自己独立选择志愿的人相比，听班主任推荐定志愿的考生盲目性更大。因此有人认为，班主任给学生推荐志愿是造成目前毕业生盲目填报大学生专业的重要原因。

以下哪项如果为真，最能削弱上述论证？（ ）

- A. 调查还反映，自己独立选择志愿的人的比例正在逐年上升
- B. 研究证明，班主任的推荐填志愿的考生录取率更高
- C. 一项调查显示，目前毕业生盲目填报大学生专业的现象得到了有效地遏制
- D. 大部分学生最后并没有采纳班主任的推荐

【答案】D。削弱论证型题目，若D项为真，则意味着班主任的推荐并不是决定因素，考生并没有采纳班主任的推荐，即通过补充新论据，强调即使班主任给了建议，大多数学生也不会采纳，当然不能证明论点；A、B、C、三个选项讨论的论题均与本题无关；故本题正确答案选D。

38. 有学者认为股份制企业采用强制力对会计信息披露进行管制是不必要的，企业产权结构内部变迁为会计信息变迁提供了诱致性变迁动力。如果会计信息披露不一致，由于外部性冲突的存在，管理当局会自动引导会计信息产权的明确界定。一方面因为企业剩余控制权完全能以较低的交易费用得到界定，另一方面因为会计信息产权能通过市场自身力量得到有效界定。

以下哪项为真，能有力地对上述论述提出质疑？（ ）

- A. 会计信息出现外部性冲突后，大多数股东直接与管理当局缔结私人契约的可能性很小
- B. 由于不满披露企业筹资困难的负面影响，很多股东抗议公司在会计信息管制中的无所作为
- C. 不同的使用者对会计信息的需求是有差异的，管理当局提供会计信息存在歧视
- D. 会计信息披露后会有助于决策的财务信息和其他经济信息

【答案】C。削弱论证型题目，题干的因果关系是：因为市场可以调节供求，当会计信息不匹配时，企业剩余控制权能有效界定信息，所以不需要企业采用强制力对会计信息披露进行管制。而C项指出，不同的使用者对会计信息的需求是有差异的，可能存在不公平，损害部分股东的利益。C项否定了题干结论，对题干提出了质疑。从A项论述中不知道信息是否需要管制，排除；B项没有针对论点，排除；D项没有涉及管制问题，排除。故本题正确答案选C。

39. 企业战略联盟是两个或两个以上的经济实体（一般指企业，如果企业间的某些部门达成联盟关系，也适用此定义）为了实现特定的战略目标而采取的共担风险、共享利益的长期联合与合作协议。

根据上述定义，下列属于企业战略联盟的是（ ）。

- A.某人将自己的专利授权某工厂长期使用，所得利润按协议分配
- B.某建材厂和某建筑公司签订合同，长期以优惠价格向该公司提供优质建材
- C.某中学与某师范大学达成协议，该系每年的应届毕业生都可以前去实习
- D.某手机制造商和某软件开发公司达成合作协议共同研发手机具有竞争力的智能手机

【答案】D。定义的关键点在于两个经济实体为同一个战略目标进行合作。A、C选项中不是两个经济实体之间的合作，故排除；B选项不是就特定战略目标的合作，故排除。D选项符合定义，故本题正确答案选D。

40. 在产品竞争激烈时，许多企业大做广告。一家电视台在同一个广告时段内，曾同时播放了三种不用手机的广告。渲染过分的广告适得其反。大多数消费者在选购产品时，更重视自己的判断，而不轻信广告宣传。

上述陈述隐含着下列哪项的前提？（ ）

- A.真正的名牌产品不做广告
- B.广告越多，商品的销售量越大
- C.许多广告言过其实，缺乏真实性
- D.消费者都是鉴别商品的内行里手

【答案】C。题干的结论是渲染过分的广告适得其反，导致消费者不相信广告了，而是更加相信自己的判断。要得到这个陈述的前提必须是说广告的弊端是渲染过分。选项中A说明的是做不做广告的问题，题目批判的是广告做的太多会适得其反，B项题干并没有涉及

销量的问题，不是前提，D项用否定代入不是必须的，也就是不是行家也能够根据自己的判断选择商品。只有C项是对产品的过多广告的缺乏真实性的确认。故本题正确答案选C。

41. 有时为了医治一些危重病人，医院允许使用海洛因作为止痛药。其实，这样做是应当禁止的。因为，毒品贩子会通过这种渠道获取海洛因，对社会造成严重危害。

以下哪项为真，最能削弱以上的论证？（ ）

- A.有些止痛药可以起到和海洛因一样的止痛效果。
- B.贩毒是严重犯罪的行为，已经受到法律的严惩。
- C.用于止痛的海洛因在数量上与用作非法交易的比起来是微不足道的。
- D.海洛因如果用量过大就会致死。

【答案】C。题干中提出了禁止的理由是毒品贩子会通过这种渠道获取海洛因，对社会造成严重危害。若是通过此途径获取的海洛因并不构成对社会的危害，那么禁止就是不成立的。A、B、D都不是涉及论据中对于社会危害的反驳，只有C通过数量说明，这个途径获取的海洛因对社会没有严重危害。故本题正确答案选C。

42. 数学教研室中，李老师的课时比王老师的多，王老师的课时比赵老师的多，李老师的职称比赵老师的高，据此可以推知（ ）。

- A.王老师的职称比赵老师的高
- B.教研室有老师的课时比一个职称比他高的老师的多
- C.教研室有老师的课时比一个职称比他低的老师的多
- D.李老师的职称比王老师的高

【答案】C。题干中未涉及王老师和赵老师的职称比较，排除A选项。无法推出是否有老师的课时比一个职称比他高的老师多，排除B选项。课时从多到少为李老师大于王老师大于赵老师，所以李老师课时多于赵老师，且李老师职称比赵老师高，所以李老师的课时比职称低于它的赵老师多。所以有老师的课时比职称低于她的老师多，C选项可以推出。题干中未涉及李老师和王老师的职称比较，排除D选项。故本题正确答案选C。

43. 北京市地处中国东北部，下辖东城、西城、宣武、崇文四个区，近年来，文化旅游产业成为该市的经济增长点。2011年，该市一共吸引全国数百万人次游客前来参观旅游。9月底，关于该市四个区吸引游客人数多少的排名，各位旅游局长作了如下预测：

- (1) 东城区旅游局长：如果西城区第三，那么崇文区第四；
- (2) 西城区旅游局长：只有西城区不是第一，宣武区才是第二；

(3) 宣武区旅游局长：宣武区不是第二；

(4) 崇文区旅游局长：崇文区第四。

最终的统计表明，只有一位局长的预测符合事实，则东城区当年吸引游客人次的排名是（ ）。

- A.第二
- B.第四
- C.第一
- D.第三

【答案】B。根据题意有以下推理：(1) 西三 \rightarrow 崇四；(2) 宣二 \rightarrow \neg 西一；(3) \neg 宣二；(4) 崇四。若(4)为真，则(1)为真，故(4)为假；若(3)为真，则(2)为真，故(3)为假。可以得到结论 \neg 崇四且宣二。因此崇文区只能选择第一或者第三。又(1)和(2)中必有一真。假设(1)真，则 \neg 西三，根据题意只有一个真，则(2)为假，要(2)假，只能西一；此时，西一，宣二，崇三，东四。假设(1)为假，则(2)为真，可以得到西三，宣二，崇一，东四。两种结论都是可以的，两种结论都是东城区第四。故本题正确答案选B。

44. 两栖动物：青蛙（ ）

- A.鳄鱼：爬行动物
- B.脊椎动物：壁虎
- C.鱼类：蓝鲸
- D.哺乳动物：鸵鸟

【答案】B。两栖动物和青蛙是属种关系，脊椎动物和壁虎也是属种关系。故本题正确答案选B。

45. 钱钟书：《围城》（ ）

- A.郭靖：《神雕侠侣》
- B.丁玲：《太阳照在桑干河上》
- C.金庸：《七剑下天山》
- D.徐霞客：《洗冤录》

【答案】B。作者和作品的对应关系，《围城》是钱钟书的作品，B项中《太阳照在桑干河上》是丁玲的作品。故本题正确答案选B。

46. 虎皮兰：千岁兰（ ）

- A.牡丹：鹿非
- B.芍药：木槿
- C.笔记本：电脑
- D.柳树：杨树

【答案】A。同一关系的考查，虎皮兰又名千岁兰，是一种植物的两种名称，A项牡丹的别称是鹿非，也是同一关系。故本题正确答案选A。

47. 鳄鱼：两栖动物（ ）

- A.骨骼：人体
- B.微博：社交手段
- C.衣柜：衣架
- D.卧室：民居

【答案】B。本题考查包含关系，鳄鱼是两栖动物，微博是社交手段，故本题正确答案选B。

48. 欧姆：欧姆定律（ ）

- A.法拉第：电磁感应学
- B.莱布尼兹：反射式望远镜
- C.华罗庚：微积分
- D.哥白尼：地心说

【答案】A。对应关系，欧姆定律是欧姆发现的，电磁感应学是法拉第创立的，故本题正确答案选A。

49. 反思：反省：自我批判（ ）

- A.表扬：赞扬：激励
- B.领悟：顿悟：聪明
- C.冰箱：彩电：电器
- D.手机：电话：通讯工具

【答案】A。近义词和包含关系的考查。反思和反省是近义词，两者都是一种自我批判手段，表扬和赞扬是近义词，两者都是一种激励手段，故本题正确答案选A。

50. 厨师：饭店：就餐（ ）

- A.记者：报社：报道
- B.医生：医院：住院
- C.演员：剧组：拍戏
- D.律师：法院：诉讼

【答案】B。厨师一般都在饭店工作，饭店的服务对象——客人们可以在饭店就餐；医生一般在医院工作，医院的服务对象——患者可以在医院住院。报社的服务对象——读者不能进行报道；剧组的服务对象——观众不能拍戏；律师的工作场所不是固定在法院。故本题正确答案选 B。

51. 运动会：开幕：比赛（ ）
- A.招聘：笔试：面试
 - B.电影院：演员：电影
 - C.考试：进场：做题
 - D.议员：议会：政府

【答案】C。运动会必然是先开幕，然后才能进入比赛环节；考试必须先进入考场，然后才能开始做题。注意 A 项，笔试和面试是并列关系，不存在绝对的先后关系，并且有些招聘考试只有笔试或者只有面试。故本题正确答案选 C。

52. 战士：作战：指挥官（ ）
- A.医生：手术：护士
 - B.演员：表演：导演
 - C.工人：图纸：设计师
 - D. 教师：讲台：学生

【答案】B。战士在指挥官的指挥下作战，演员在导演的指导下表演。C 项，工人按照设计师设计的图纸进行施工，题干中“作战”是战士的活动，而“图纸”并非工人的活动。故本题正确答案选 B。

53. 加湿器：干燥：电器（ ）
- A.咖啡：困倦：可可
 - B.萨其马：饥饿：点心
 - C.魔方：娱乐：游戏
 - D.消音器：声音：乐器

【答案】B。加湿器是一种电器，可以用来消除干燥；萨其马是一种点心，可以用来消除饥饿。A项，咖啡可以用来消除困倦，但是咖啡和可可是并列关系，而题干中加湿器和电器是种属关系。故本题正确答案选B。

54. () 对于 庄稼 相当于 () 对于 树木

- A.化肥 城市
- B.水稻 盆景
- B.灌溉 生长
- D.农民 园丁

【答案】D。农民种植庄稼，园丁修剪树木，D项对应正确。A项，化肥促进庄稼生长，而树木则是净化城市空气、美化城市环境，二者的作用不能类比。B项，水稻与庄稼是种属关系，盆景属于一种陈设品，与树木不构成种属关系。C项，灌溉庄稼构成动宾关系，树木生长构成主谓关系。故本题正确答案选D。

55. 圆明园：八国联军：义和团 ()

- A.钱包：小偷：警察
- B.抢劫：土匪：英雄
- C.课本：学生：老师
- D.货单：售货员：顾客

【答案】A。八国联军焚毁圆明园，八国联军和义和团是对立关系；小偷偷钱包，小偷和警察是对立关系。故本题正确答案选A。

56. 饮料：补水：解渴 ()

- A.香烟：烟雾：提神
- B.阳光：取暖：杀毒
- C.滤纸：过滤：净化
- D.出租车：停靠：载客

【答案】C。喝饮料的主要作用是补水，进而达到解渴的目的；用滤纸主要作用是过滤，进而达到净化的目的。A项中的烟雾是名词，词性不符；B项中，取暖和杀毒是并列关系；D项中，出租车的作用不是停靠。故本题正确答案选C。

57. 文饰作用指人们在受挫折后，会想出各种理由原谅自己，或者为自己的失败辩解的现象。

根据上述定义，下列不属于该类现象的一项是（ ）。

- A. 戈尔竞选美国总统失败后，抱怨美国司法制度不公正
- B. 小张没评上先进份子，他认为是自己与当评委的领导关系不好
- C. 氟派生意失败，股票暴跌，就吃安眠药想自杀
- D. 老师说漏嘴了，便解释说自己路上太匆忙，打乱思路了

【答案】C。第一步，看提问方式，本题属于选非题。第二步，找关键信息。受挫折后想出各种理由原谅自己或为自己的失败辩解。第三步，辨析选项。C项：生意失败，股票暴跌，就吃安眠药想自杀，未体现“想出各种理由原谅自己或为自己的失败辩解”，不符合定义；A项：竞选美国总统失败，而后将原因归结为美国司法制度不公正，属于“受挫折后想出各种理由原谅自己或为自己的失败辩解”，符合定义；B项：没评上先进分子，而后将原因归结为自己与评委关系不好，属于“受挫折后想出各种理由原谅自己或为自己的失败辩解”，符合定义；D项：因说漏嘴，而后将原因归结于自己路上太匆忙，打乱思路，属于“受挫折后想出各种理由原谅自己”，符合定义。故本题正确答案选C。

58. 附加值是附加价值的简称，是在产品原有价值的基础上，通过生产过程中有效劳动新创造的价值及附加在产品原有价值上的新价值。

根据上述定义，以下行为提高了产品附加价值的是（ ）。

- A. 某明星为娱乐活动优胜者的奖品签名
- B. 雨天商贩以高于市场价的价格在景区内销售雨具
- C. 某生产饮料的厂家将产品由过去的罐装变为塑料包装
- D. 个体商贩请人在白色T恤上画上各种漂亮的图案后出售

【答案】D。第一步，看提问方式，本题属于选是题。第二步，找关键信息。①在产品原有价值的基础上；②通过生产过程中的有效劳动新创造的价值。第三步，辨析选项。A项：明星为奖品签名，并不是生产过程，不属于“通过生产过程中的有效劳动新创造的价值”，不符合定义；B项：雨天商贩在景区内高价销售雨具，不属于“通过生产过程中的有效劳动新创造的价值”，不符合定义；C项：产品由罐装变为塑料包装，不是在罐装的基础上完成的，不属于“在产品原有价值的基础上”，不符合定义；D项：出售的白色T恤属于“原有价值”，在其基础上画上图案再出售，属于“通过生产过程中的有效劳动新创造的价值”，符合定义。故本题正确答案选D。

59. 攀比效应：是指社会经济活动中某些相关的经济变量或利益主体在分配利益方面存在的相互影响、轮番推进的现象。

根据上述定义，下列属于攀比效应的是（ ）。

- A. 公司员工在工资上互相攀比，要求公司调整工资
- B. 两个中学生暗自较劲，努力学习争当第一
- C. 朋友之间在比较谁的孩子最聪明
- D. 通过实地参观，甲公司发现乙公司的管理科学值得本公司学习

【答案】A。第一步，看提问方式，本题属于选是题。第二步，找关键信息。①相关的经济主体或利益主体；②在分配利益方面相互影响、轮番推进。第三步，辨析选项。A项：员工之间属于“相关的利益主体”，工资上相互比较、要求调整工资，满足“在分配利益方面相互影响、轮番推进”，符合定义；B项：中学生之间不属于“相关的经济或利益主体”，不符合定义；C项：朋友之间不属于“相关的经济或利益主体”，不符合定义；D项：甲、乙公司管理体系的比较，未体现“分配利益方面相互影响、轮番推进”，不符合定义。故本题正确答案选A。

60. 前控控制是指在计划实施之前，为了保证将来的实际成果能达到计划的要求。尽量减少偏离的控制。

根据上述定义，下列属于前控控制的是（ ）。

- A. 营销部主任在方案推广期间，不断做出调整，尽量避免误差
- B. 新药剂的配方尽管之前经过多位专家考证，但药效还不如老配方
- C. 西游记的图纸在投入编程之前，经过几轮研讨以确保效果逼真
- D. 新产品上市后销量一般，工厂组织技术人员进行升级后再次推向市场

【答案】C。第一步，看提问方式，本题属于选是题。第二步，找关键信息。①在计划实施之前；②为了保证将来的实际成果能达到计划的要求；③尽量减少偏离的控制。第三步，辨析选项。C项：西游记图纸在投入编程之前，体现了“计划实施之前”，为了保证将来的实际效果逼真，经过了几轮研讨，体现出“尽量减少偏离的控制”，符合定义；A项：在方案推广期间做出的调整，不属于“在计划实施之前”，不符合定义；B项：新药剂与老配方药效的比较，未体现使新药剂的“实际效果达到计划的要求”，不符合定义；D项：新产品上市后做出的调整，不属于“在计划实施之前”，不符合定义。故本题正确答案选C。